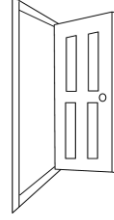


واجب منزلي رقم 01

أولاً: اللغة العربية

1- أربط كل صورة بالكلمة المناسبة:



•

•

•

•

•

•

•

•

•

•

مَدْرَسَةٌ

تُفَّاحَةٌ

دُبٌّ

دَارٌ

بَابٌ

2- كتابة:

ثانياً: الرياضيات

1- حوِّط حول خانة العدد الأكبر:

| | |
|---|---|
| 1 | 7 |
|---|---|

| | |
|---|---|
| 3 | 0 |
|---|---|

| | |
|---|---|
| 2 | 4 |
|---|---|

| | |
|---|---|
| 5 | 8 |
|---|---|





| | |
|---|---|
| 9 | 6 |
|---|---|

2- رتب الأعداد من الأصغر إلى الأكبر : 8 -6 -5 -10 -9 -2 -7 -4 -3 -1-0

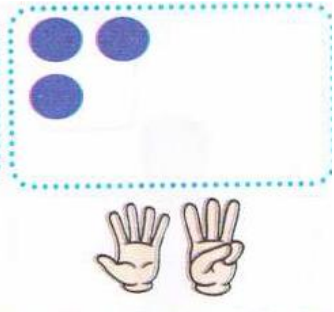
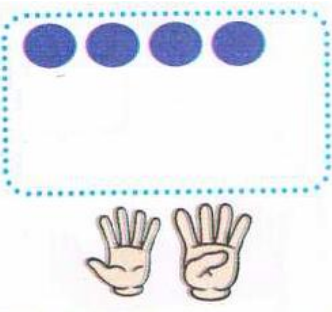
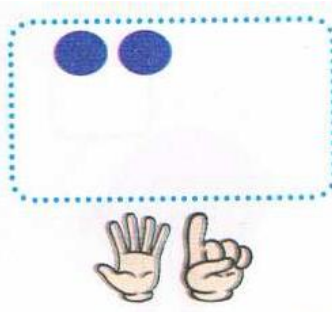
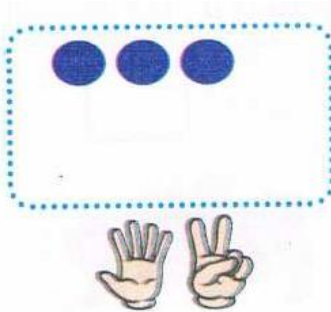


| | | | | | | | | | | |
|---|-------|-------|-------|-------|-------|-------|-------|-------|-------|-------|
| 0 | | | | | | | | | | |
|---|-------|-------|-------|-------|-------|-------|-------|-------|-------|-------|

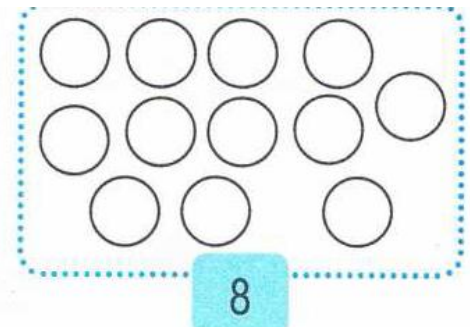
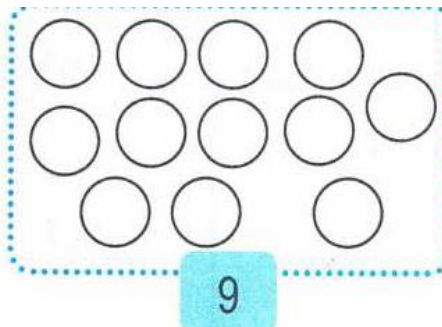
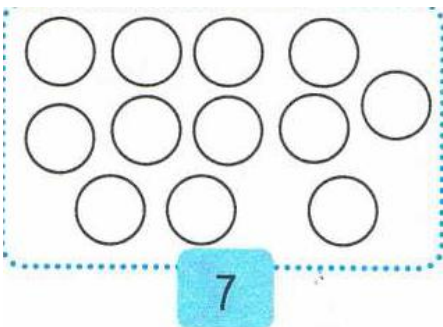
3 -حوِّط العدد المناسب كما في المثال:



4 -أكمل رسم القرصات الناقصة:




5 -لون القرصات حسب العدد:



واجب منزلي رقم 02أولاً: اللغة العربية

1- أرِبْطُ كُلِّ صُورَةٍ بِالْكَلِمَةِ الْمُنَاسِبَةِ:



•

•

•

•

•

•

•

•

•

•

•

•

شَجَرَةٌ

حَمَامَةٌ

هَاتِفٌ

جَمَلٌ

أَسَدٌ

عَلَمٌ

2- أضع الحرف المناسب أول الكلمة:

بَ

تُ

هَ

حَ

مَ

عَ



مَامَةٌ



نَبٌ



فَاحَةٌ



اتِفٌ



وَزٌ



طَيِّخٌ

1- رَتِّبِ الْكَلِمَاتِ لِتَتَّحَصَلَ عَلَى جُمْلَةٍ مُفِيدَةٍ ثُمَّ اكْتُبْهَا :

تَسْقِي


الْأَزْهَارَ

الْأُمَّ




ثانياً: الرياضيات

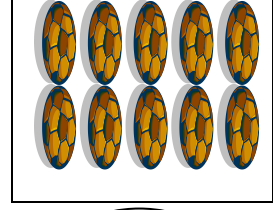
1- اُكْتُبْ عَدَدَ عَنَاصِرِ كُلِّ مَجْمُوعَةٍ:



.....



.....



.....

2- اِحْسُبْ عَمَلِيَّاتِ الْجَمْعِ:

$$2 + 1 = \dots\dots\dots$$

$$6 + 4 = \dots\dots\dots$$

$$4 + 1 = \dots\dots\dots$$


3- اِحْسُبْ عَمَلِيَّاتِ الطَّرْحِ:

$$3 - 1 = \dots\dots\dots$$

$$5 - 2 = \dots\dots\dots$$

$$4 - 3 = \dots\dots\dots$$

4 - اَرْبِطْ كُلَّ عَرَبِيَّةٍ بِالرَّقْمِ الْمُنَاسِبِ:



واجب منزلي رقم: 03

أولاً: اللغة العربية

1 - قَطِّعِ الكَلِمَاتِ التَّالِيَةَ كَمَا فِي المِثَالِ:

| | | | | | | |
|-------|-------|-------|-------|-------|--------|-----------|
| | | حَ | مَا | مَ | ة | حَمَامَةٌ |
| | | | | | | صُورَةٌ |
| | | | | | | شَجَرَةٌ |
| | | | | | عُشْبٌ | عُشْبٌ |
| | | | | | | ضِرْسٌ |

2 - أَضَعِ الحُرْفَ المُنَاسِبَ أَوَّلَ الكَلِمَةِ:

| | | | | | |
|----|----|----|----|----|----|
| بَ | تُ | هَ | حَ | مَ | عَ |
|----|----|----|----|----|----|


| | | | | | |
|---|-----------|---|--------|---|---------|
|  | حَمَامَةٌ |  | عُنْبٌ |  | فَاحَةٌ |
|  | تَافٍ |  | بُزٌ |  | طَيْخٌ |

3 - رَتِّبِ الكَلِمَاتِ لِتَتَحَصَّلَ عَلَى جُمْلَةٍ مُفِيدَةٍ ثُمَّ اكْتُبْهَا :


| | | | | | | | | | | | | | | | | | | | | | | | | | | | | | |
|---|--|--|---------|--|------|--|--|--|--|--|--|--|--|--|--|--|--|--|--|--|--|--|--|--|--|--|--|--|--|
|  | تَسْقِي | | الأزهار | | الأم | | | | | | | | | | | | | | | | | | | | | | | | |
| | <table border="1"> <tr> <td></td> <td></td> <td></td> <td></td> <td></td> </tr> <tr> <td></td> <td></td> <td></td> <td></td> <td></td> </tr> <tr> <td></td> <td></td> <td></td> <td></td> <td></td> </tr> <tr> <td></td> <td></td> <td></td> <td></td> <td></td> </tr> <tr> <td></td> <td></td> <td></td> <td></td> <td></td> </tr> </table> | | | | | | | | | | | | | | | | | | | | | | | | | | | | |
| | | | | | | | | | | | | | | | | | | | | | | | | | | | | | |
| | | | | | | | | | | | | | | | | | | | | | | | | | | | | | |
| | | | | | | | | | | | | | | | | | | | | | | | | | | | | | |
| | | | | | | | | | | | | | | | | | | | | | | | | | | | | | |
| | | | | | | | | | | | | | | | | | | | | | | | | | | | | | |

ثانياً: الرياضيات

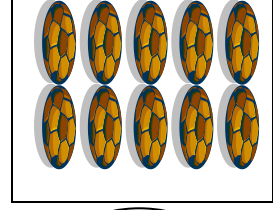
1- اكتب عدد عناصر كل مجموعة:



.....



.....



.....

2- لون بطاقة العملية الصحيحة:

| | | | |
|------|--|-----|--|
| 10-3 | | 9-3 | |
| 6+4 | | 9+3 | |
| 10-4 | | 4+1 | |

3- احسب عمليات الجمع و الطرح:

$$2 + 1 = \dots\dots\dots$$

$$8 + 2 = \dots\dots\dots$$

$$6 + 3 = \dots\dots\dots$$

$$3 - 1 = \dots\dots\dots$$

$$10 - 2 = \dots\dots\dots$$

$$9 - 3 = \dots\dots\dots$$

4- اكمل بالعدد المناسب:

$$2 + \dots\dots\dots = 10$$

$$\dots\dots\dots + 3 = 9$$

$$6 + \dots\dots\dots = 7$$

$$3 = 2 + \dots\dots\dots$$

$$9 = \dots\dots\dots + 5$$


$$8 = 6 + \dots\dots\dots$$

5- لون طريق اللبوة للعودة لصغيرها:




ثانياً: الرياضيات


1- أكمل رسم القرصات الناقصة:



19




17




14


2- اكتب العدد في كل بطاقة:



.....



.....



.....

3- احسب عمليات الجمع:

$$2 + 1 = \dots\dots\dots$$

$$5 + 5 = \dots\dots\dots$$

$$4 + 2 = \dots\dots\dots$$

$$3 + 2 = \dots\dots\dots$$

4- احسب عمليات الطرح:

$$2 - 1 = \dots\dots\dots$$

$$3 - 1 = \dots\dots\dots$$

$$8 - 2 = \dots\dots\dots$$

$$10 - 2 = \dots\dots\dots$$

5- رتب الدببة من الأكبر إلى الأصغر:



.....



3



.....



.....