



الاسم: اللقب: القسم:



الفرض الأول في مادتي التاريخ والجغرافيا

مادة التاريخ: (10 نقاط)

لخوالي مراد
أستاذ التعليم المتوسط
لمادة العلوم الاجتماعية

الجزء الأول: 06 نقاط

س¹ - عرف ما يلي : (02 ن)

ما قبل التاريخ :

الأثار :

س² - ما الفرق بين عالم الأثار و المؤرخ ؟ (02 ن)

س³ - صنف الجمل الموالية في الجدول: (02 ن)

- الانسان يسكن في الكهوف / - الانسان يستأنس الحيوانات
- الانسان يستقر و يبني الحضارات / - الانسان يتنقل و يرتحل

المرحلة الأولى	المرحلة الثانية
-	-

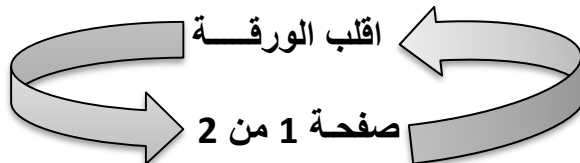
الجزء الثاني : (04 نقاط) أجب بـ " صحيح " أو " خطأ " أمام العبارات التالية مع تصويب الخطأ إن وجد :

*-/ يستخدم الكربون 14 المشع لمعرفة عمر الأشجار ()

*-/ الأشعة السينية تساعدنا في كشف الأثار على سطح الأرض ()

*-/ حلقات الأشجار تمكننا من معرفة عمر العظام ()

*-/ تقنية الموجات الصوتية تسمح بالكشف عن الأثار الغارقة ()





مادة الجغرافيا: (10 نقاط)


الأرض كوكب من كواكب المجموعة الشمسية .

الجزء الأول: (06 ن)

- س¹ / أكمل بقية الكواكب بالترتيب:
- عطارد / / / المريخ / / / / بلوتون. (03 ن)
- س² / اجب بـ " صحيح " أو " خطأ " مع تصحيح الخطأ إن وجد أمام الجمل التالية : (02 ن)
- /* عدد دوائر العرض 180 خطأ
/* تفيدينا خطوط الطول في تحديد الوقت.....
/* كلما اتجهنا شرقا ينقص الوقت وكلما اتجهنا غربا العكس.....
/* مدار السرطان درجته 23.5° شمالا.....
- س³ / لماذا تعتبر الأرض الكوكب الوحيد الأنسب لحياة الكائنات ؟ (01 ن)

الجزء الثاني: (04 ن) أكمل ما يلي :

- س¹ / تحتل الأرض المرتبة..... في تدور مرة واحدة في اليوم حول نفسها فيحدث وتدور مرة واحدة في السنة فيحدث..... (02 ن)
- س² / وضع العلماء شبكة وهمية من الخطوط تسمى خطوط الطول ودوائر العرض. (02 ن)
تفيدينا هذه الشبكة في : -
- /* - حدّد على الشبكة الآتية باللون الأحمر خط غرينيتش و باللون الأزرق دائرة الاستواء مع تدوينهما.



/* تأمل قول الشاعر:

العلم زين فكن للعلم مكتسباً
وكن حليماً رزين العقل محترساً
وكن له طالبا ما عشت مُقتبساً
وكن حليماً رزين العقل محترساً



الاسم: اللقب: القسم:



الفرض الأول في مادتي التاريخ والجغرافيا

مادة التاريخ: (10 نقاط)

لخوالي مراد
أستاذ التعليم المتوسط
لمادة العلوم الاجتماعية

الجزء الأول: 06 نقاط

س 1 - عرف ما يلي : (02 ن)

التاريخ :

التنقيب :

س 2 - يتبع عالم الآثار في دراسته الخطوات التالية: رتبها ترتيبا صحيحا (02 ن)

* الدراسة والتحليل / * تحديد الموقع الأثري / * التنقيب / * مسح الموقع (التسجيل و التقاط الصور)

1- 2- 3- 4-

س 3 - مرّت معيشة الإنسان ما قبل التاريخ بمرحلتين : (02 ن)

/ * ما هي مميزات المرحلة الثانية ؟

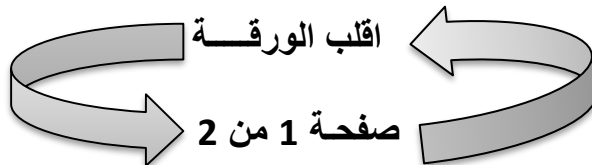
الجزء الثاني : (04 نقاط) اجب بـ " صحيح " أو " خطأ " مع تصويب الخطأ إن وجد :

1- / * لمعرفة عمر الأشجار نستعمل الكربون 14 المشع.

2- / * تنقسم فترة ما قبل التاريخ إلى 5 عصور تاريخية.

3- / * يتم الكشف عن الآثار بواسطة البحث و التنقيب.

4- / * حلقات الأشجار تمكننا من معرفة عمر العظام.





مادة الجغرافيا: (10 نقاط)

الجزء الأول: (06 ن)

تقع الأرض ضمن كواكب المجموعة الشمسية .

س1 / اذكر الكواكب الناقصة مع احترام الترتيب:

- عطارد / / / / / / / / بلوتون. (03 ن)

س2 / أكمل ما يلي :

(02 ن)

* الأرض كوكب متحرك ، تأتي في المرتبة..... ضمن لها حركة محورية حيث تدور دورة واحدة في مدة 24 ساعة فيحدث..... ولها حركة انتقالية فيحدث.....

س3 / لماذا تعتبر الأرض أنسب الكواكب لحياة الكائنات الحية ؟ (01 ن)

الجزء الثاني: (04 ن)

س1 / أجب بـ " صحيح " أو " خطأ " مع تصحيح الخطأ إن وجد : (02 ن)

* عدد خطوط الطول هي 180 خطا

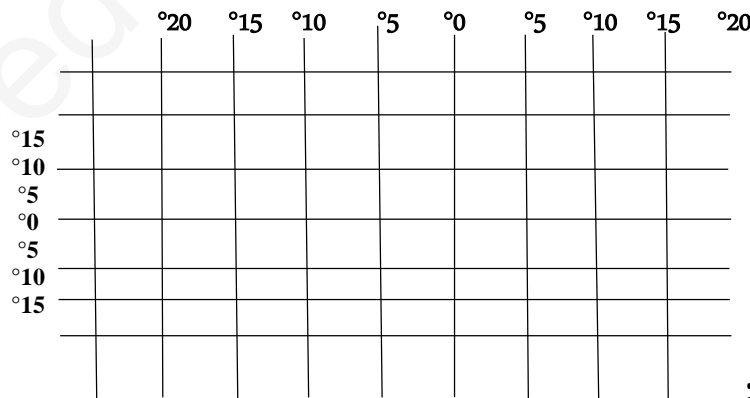
* تفيدينا دوائر العرض في تحديد النطاقات الحرارية

* كلما اتجهنا شرقا يزيد الوقت و كلما اتجهنا غربا ينقص الوقت.....

* مدار الجدي درجته 23.5° جنوبا.

س2 / وضع العلماء شبكة وهمية من الخطوط تسمى خطوط الطول و دوائر العرض. (02 ن)

- تفيدينا هذه الشبكة في:-
*- حدد على هذه الشبكة باللون الأحمر خط غرينيتش وباللون الأزرق دائرة الاستواء مع تدوينهما.



* تأمل قول الشاعر:

العلم زين فكن للعلم مكتسباً
وكن حليماً رزين العقل محترساً
وكن له طالبا ما عشت مُقتبساً
وكن حليماً رزين العقل محترساً

فرض الفصل الأول في مادة التاريخ والجغرافيا

2018/11/08م

المستوى: الأولى متوسط

المدة: ساعة

أولا : التاريخ

1/ اكمل ما يلي: (02ن)

ما قبل التاريخ: هو

علم الآثار: هو

2/ ضع صح أو خطأ أمام العبارات التالية: (04ن)

- التأريخ هو علم لدراسة المستقبل
- الكربون 14 يستعمل لدراسة عمر العظام
- مارس الزراعة الانسان منذ العصر الحجري القديم
- اكتشف الانسان النار في العصر الحجري الحديث

3/ رتب بالأرقام خطوات دراسة الآثار التالية: (04ن)

- التنقيب في الموقع الأثري
- الدراسة والتحليل والنشر
- تحديد الموقع الأثري
- تصنيف وتاريخ الأثریات
- مسح الموقع الأثري

ثانيا: الجغرافيا

1/ اكمل ما يلي: (02ن)

الاحداثيات الجغرافية: هي

خط غرينتش: هو

2/ اربط بسهم العبارات التالية: (02ن)

خطوط الطول	180 خطا
دوائر العرض	360 خطا
مدار السرطان	23.5° شمالا
مدار الجدي	23.5 جنوبا

3/ ما هو الدليل على أن الأرض كروية الشكل:

فرض تقويمي للثلاثي الأول في مادة التاريخ و الجغرافيا

التاريخ :

الجزء الأول :

السؤال الأول :

قدم تعريفا مختصرا للمصطلحات التالية من خلال ربط كل مصطلح بمفهومه الصحيح مع إعطاء مثال عن كل مصطلح

مسطر في الخانة المناسبة :

علم الآثار - المواقع الأثرية - التأريخ - الآثار

.....	هي أماكن عاش فيها الإنسان القديم مثل	←
.....	هو تسجيل الأحداث و تدوينها بعد ظهور الكتابة مثل	←
.....	يختص بدراسة الآثار باستعمال طرق عديدة لتصنيفها و تزمينها مثل	←
.....	هو كل المخلفات التي تركها الإنسان القديم مثل	←

السؤال الثاني :

1/ ضع البيانات التالية في الفراغات المناسبة : ممارسة الزراعة - اكتشاف النار - ابتكار الكتابة - اكتشاف المعادن .

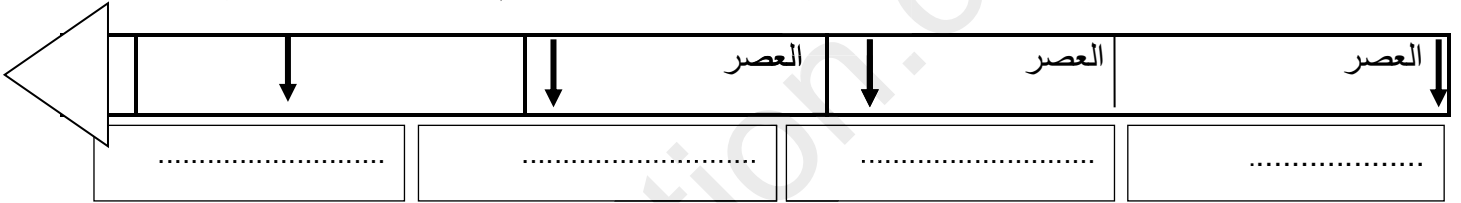
2/ أكمل السلم الزمني بعصور ما قبل التاريخ المناسبة .

3200 ق م

5000 ق م

8000 ق م

12000 ق م



ظهور

الإنسان

الجزء الثاني :

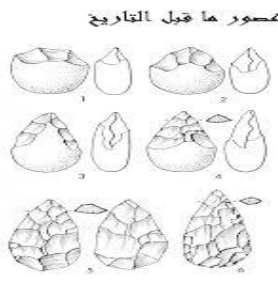
الوضعية الإدماجية :

السياق : تناقش زميلين لك حول حياة الإنسان فيما قبل التاريخ , فاتفقا حول تطوره من عصر لآخر لكنهما اختلفا حول نمط معيشته خلال مراحل ذلك التطور , فطلبا منك التدخل بتوضيح مراحل تطور معيشة إنسان ما قبل التاريخ و تحديد خصائص كل مرحلة .

السندات :

1/ "....مرت معيشة الإنسان في فترة ما قبل التاريخ بمرحلتين....."

2/



التعليمة : اعتمادا على السندات و مكتسباتك , أكتب فقرة من 07 أسطر تجيب فيها عن زميليك .

.....

.....

.....

.....

.....

.....


.....

.....

الجغرافيا

1/ أكمل الفراغات فيما يلي بما يناسبها :

يحتل كوكب الارض المرتبة في المجموعة الشمسية , شكلها
 و الادلة التي تثبت ذلك عديدة منها
 مساحتها تغطي منها اليابسة % و الماء %




2/ صحح العبارات الخاطئة مما يلي :

- خطوط الطول و دوائر العرض هي خطوط حقيقية .
- يمتد مدار السرطان جنوب خط الاستواء و مدار الجدي جنوبه .
- درجة خط غرينيتش 0°

3/ لؤن بلون من اختيارك المساحة الواقعة بين خطي طول 15° شرقا

و 10° غربا و بين دائرتي عرض 15° شمالا و 5° جنوبا .



3/ إذا كانت الساعة في المدينة أ الواقعة عل خط غرينتش 09 صباحا فكم تكون حينها في المدينة ب الواقعة على خط طول 45° غربا

.....

.....

.....

.....

.....



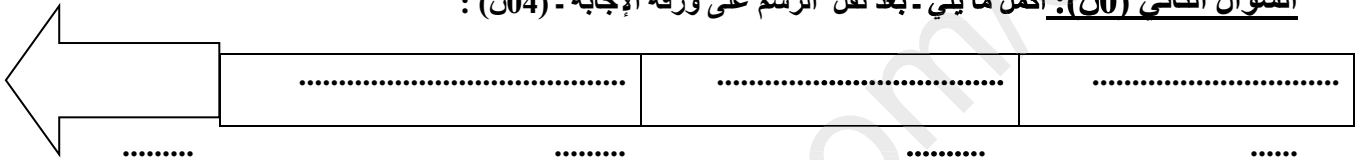
فرض الثلاثي الأول في مادة الاجتماعيات.

أولا : التاريخ : ن

السؤال الأول (ن) : قدم تعريفا مختصرا للمصطلحات التالية من خلال ربط كل مصطلح بمفهومه الصحيح مع إعطاء أمثلة عنه في الخانة المناسبة:

- التاريخ .
- المواقع الأثرية .
- عالم الآثار .
- الآثار .
- أماكن حياة الإنسان القديم و نجدها في :
- كل مخلفات الإنسان القديم وتشمل
- الذي يختص بتصنيف الآثار و دراستها
- عملية تدوين الأحداث بعد ابتكار الكتابة سنة

السؤال الثاني (04ن) : أكمل ما يلي - بعد نقل الرسم على ورقة الإجابة - (04ن) :



العنوان : سلم زمني لعصور ما قبل التاريخ .

الوضعية الإدماجية (04ن) :

ورد في تقرير لأحد علماء الآثار مايلى : "في غياب الوثائق التاريخية المكتوبة عن المرحلة التي سبقت الكتابة . الا ان علم الآثار مكننا و لو بنسبة قليلة من فك و معرفة الكثير من اسرار حياة الإنسان القديم"

السند : ".... يتبع عالم الآثار خطوات منهجية للكشف عن الآثار ووضعها تحت تصرف الدارسين .

التعليمية : انطلاقا من السند و مكتسباتك القبلية اكتب فقرة لا تتجاوز 10 اسطر تبين فيها : معنى الآثار و توضح أماكن و مواقع تواجد الآثار القديمة.

ثانيا : الجغرافية : (ن)

س01 / للأرض دورتين إحداهما تتطلب مدة سنة كاملة حتى تكملها. (ن)

أ / كيف تسمى هاته الدورة وماهي نتائجها. ؟

ب / بماذا يتميز كوكب الأرض عن باقي كواكب المجموعة الشمسية ؟

س02 / : أكمل الجدول الآتي بما يناسب(ن):

أساس خطوطها - دوائرها -	عددتها	خطوط الطول
.....	دوائر العرض
.....	

تاريخ 10 ن :الوضعية الأولى: 07ن

إن تاريخ الامم و الحضارات يتجسد في آثارها سواء أكانت مقصودة ام غير مقصودة و التي يعبر من خلالها عن قدرة الانسان على التكيف و الابداع في كل الظروف .

1_ أعط تعريفا للمفاهيم التالية : الآثار _ الاركيولوجيا _ كرونولوجيا.

2_ أجب بصحيح أو خطأ, مع تصحيح ما يجب تصحيحه:

- عالم الجيولوجيا هو الشخص الذي يبحث و يدرس مخلفات الانسان .
- من مميزات العصر الحجري القديم اكتشاف النار.
- كان المعدن هو المادة الاساسية لصنع أدوات انسان العصر الحجري القديم .

3_ صنف طرق قراءة الآثار التالية حسب معيار تحديد الزمن و الكشف عن الآثار : الكاربون 14 حلقات الاشجار _ التصوير عن طريق الموجات الصوتية _ الاشعة السينية .

تحديد الزمن	الكشف عن الآثار

الوضعية الثانية : 03ن

علل " فسر أولماذا " مايلي:

- الهدف من دراسة الآثار .
- تسمية ما قبل التاريخ .

الجغرافيا 10 ن :الوضعية الأولى: 07ن

1_ أقارن بين خطوط الطول و دوائر العرض وفق الجدول التالي:

خطوط الطول	دوائر العرض	الشكل
		التساوي في الطول
		الخط الرئيسي
		الاهمية

2_ علل ما يلي :

- تعاقب الليل و النهار.
- تعاقب الفصول الاربعة.

الوضعية الثانية : 03ن


- عدد أنواع مقاييس رسم الخريطة.

بالتوفيق

التاريخ (13ن): الوضعية الأولى : اربط (ا) بما يناسبها في الخانة (ب)

المخالفات الأثرية	طرق دراستها
فك حصان	حساب نسبة الأرقون
مغارة قديمة	حساب نسبة البوتاسيوم
سهوم حجرية	حساب نسبة كربون 14
حلي معدنية	الموجات الصوتية
مدينة أثرية غارقة	لإعتماد على حساب الحلقات

2222 2016 الوضعية الثانية : قم بتوضيح فترة ما قبل التاريخ على السلم الزمني ولونها 3ن



الوضعية الثالثة: أكمل ما ينقص في الفقرة : 5ن

-تتوزع أثار الإنسان القديم في المناطق التي تواجد فيه قديما خاصة حيث توجد منابع.....
وفي المناطق ذات المناخ وتصنف هذه الأثار إلى اثار مادية وأثار.....
منهاتوضع في المتاحف وأخرى.....

الجغرافيا : (7ن) الوضعية الأولى : عرف مايلي:

خطوط الطول.....

.....

الخريطة.....

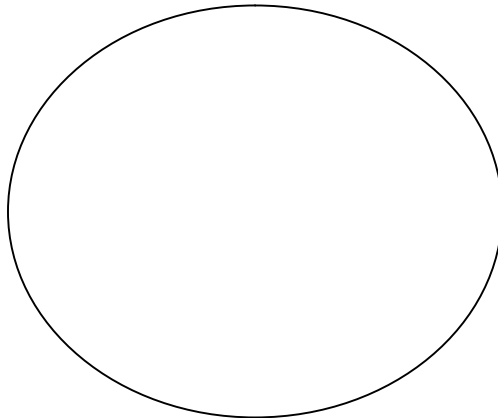
.....

الوضعية الثانية: بين من على الرسم التالي دوائر العرض الرئيسية محددًا درجاتها

اللقب:

الإسم:

القسم:





ساعة

متوسط

1

فرض الثلاثي الأول في مادة التاريخ والجغرافيا



2016.....

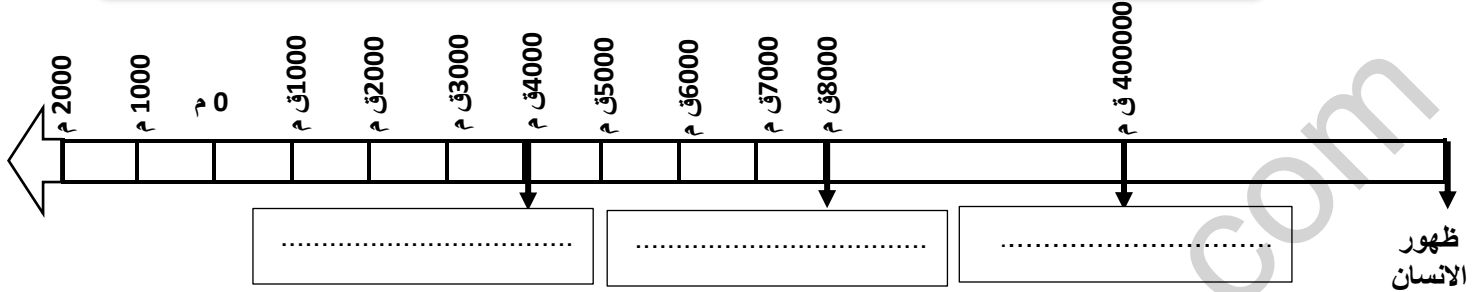


التاريخ

السؤال الأول

5 ن

1- ضع البيانات التالية في الفراغات المناسبة: بداية فجر التاريخ - ممارسة الزراعة - تعلم الانسان اشعال النار
2- حدد الامتداد الزمني للعصر الحجري القديم بتلويين الحيز المكاني الذي يشغله على السلم الزمني؟



4 ن

ضع علامة (X) في الخانة المناسبة

السؤال الثاني

العصر الحجري الحديث	العصر الحجري القديم	نشاط الإنسان
		استعمل الإنسان الحجارة الخشنة والسهم في الصيد
		لبس الإنسان أوراق الأشجار وجلود الحيوانات
		عاش الإنسان حياة التنقل وسكن الكهوف والمغارات
		مارس الانسان الزراعة واستأنس الحيوانات

2 ن

لماذا كانت حياة الانسان في عصور مرحلة ما قبل التاريخ بطيئة التطور رغم طول مدتها؟

السؤال الثالث

.....

4 ن

- حدد احدائيات نقاط التقاطع حسب خطوط الطول ودوائر العرض الموقعة على الخريطة:

(أ) : بيّن خط طول ودائرة العرض

(ب) : بيّن خط طول ودائرة العرض

الجغرافيا

السؤال الأول

2 ن

السؤال الثاني

أظهر خط غرينتش على الخريطة بلون بارز؟

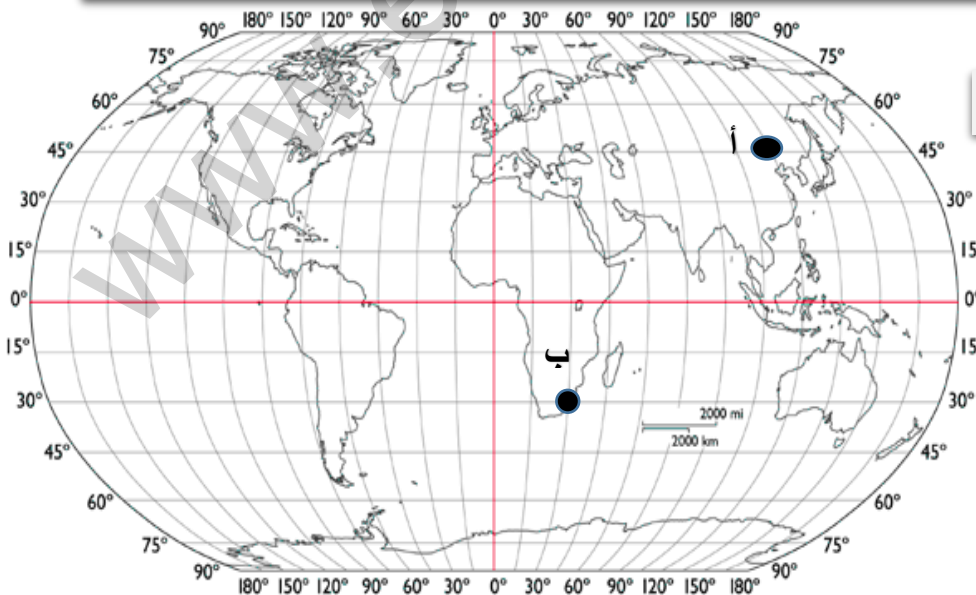
3 ن

السؤال الثالث

أذكر فوائد دوائر العرض؟

.....

.....



إمضاء ولي الأمر

العلامة: 20/.....

الملاحظة:

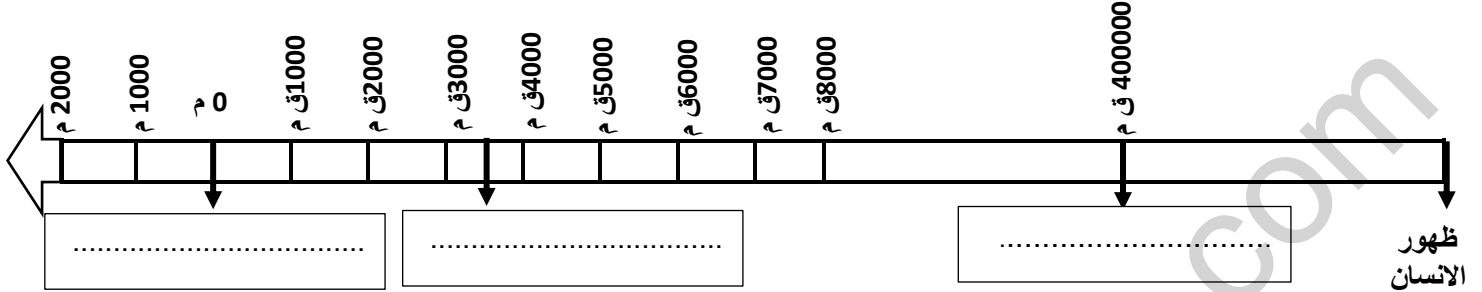
التاريخ

السؤال الأول

1- ضع البيانات التالية في الفراغات المناسبة: - اكتشاف الكتابة - ميلاد عيسى عليه السلام - تعلم الانسان اشعال النار

2- حدد الامتداد الزمني للعصر الحجري الحديث بتلويين الحيز المكاني الذي يشغله على السلم الزمني؟

5 ن



4 ن

ضع علامة (X) في الخانة المناسبة

السؤال الثاني

العصر الحجري الحديث	العصر الحجري القديم	نشاط الإنسان
		عاش الإنسان على الصيد والالتقاط الثمار
		استعمل الإنسان المحراث الخشبي في حرث الأرض
		عاش الإنسان حياة الاستقرار وبنى الأكواخ
		تميزت الأدوات الحجرية بالإتقان

2 ن

لماذا كانت حياة الانسان في عصور مرحلة ما قبل التاريخ بطيئة التطور رغم طول مدتها؟

السؤال الثالث

.....

4 ن

- حدد احدائيات نقاط التقاطع حسب خطوط الطول ودوائر العرض الموقعة على الخريطة:

(أ) : بيّن خط طول ودائرة العرض

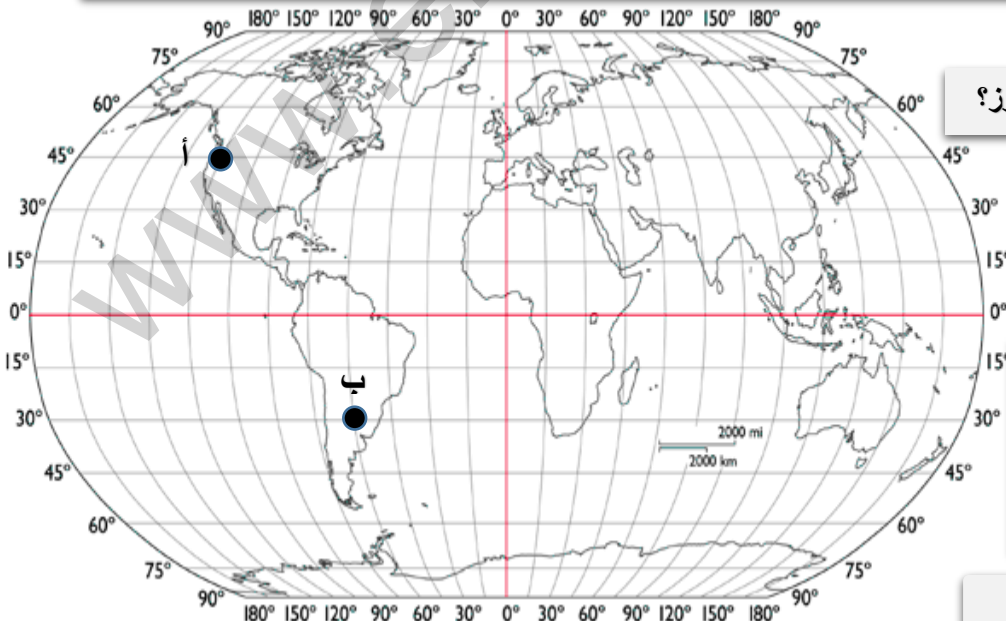
(ب) : بيّن خط طول ودائرة العرض

الجغرافيا

السؤال الأول

السؤال الثاني 2 ن

أظهر خط الاستواء على الخريطة بلون بارز؟



السؤال الثالث 3 ن

أذكر فوائد خطوط الطول:

.....
.....

العلامة: 20/.....

الملاحظة:

إمضاء ولي الأمر

التاريخ 13 ن

السؤال الأول (5)

قدم تعريفا مختصرا للمصطلحات التالية من خلال ربط كل مصطلح بمفهومه الصحيح مع

إعطاء مثال عن كل مصطلح مسطر في الخانة
الآثار

أماكن حياة الإنسان القديم ونجدها في

كل المخلفات المادية للإنسان القديم مثل.....

المواقع الأثرية

كل الأحداث التي عرفها الإنسان عبر العصور القديمة مثل

علم الآثار

هو تسجيل الأحداث وتدوينها بعد ظهور الكتابة مثل

التاريخ

يختص بدراسة الآثار يستعمل طرقا عديدة لتصنيفها وتزمينها مثل طريقة.....

التأريخ

السؤال الثاني (4) 1-ضع البيانات التالية في الفراغات المناسبة: بداية فجر التاريخ - ممارسة الزراعة - اكتشاف النار - اكتشاف

المعادن وصهرها في الإطار المناسب أسفل السلم الزمني

2- املأ السلم الزمني بعصور ما قبل التاريخ المناسبة؟

12000 ق م

8000 ق م

5000 ق م

3200 ق م

العصر

العصر

العصر

العصر

ظهور
الإنسان

السؤال الثالث (4) ضع علامة (X) في الخانة المناسبة

العصر الحجري الحديث	العصر الحجري القديم	نشاط الإنسان
		استعمل الإنسان الحجارة والسهام في الصيد
		لبس الإنسان أوراق الأشجار وجلود الحيوانات
		عرف حياة الاستقرار في المناطق الدافئة
		طور وسائله وصقل الحجارة وصنع الفؤوس والمكاشط
		عاش الإنسان حياة التنقل وسكن الكهوف والمغارات
		مارس الإنسان الزراعة واستأنس الحيوانات

الجغرافيا

السؤال الأول (4 ن)

خط طول أهمها عددها

دوائر العرض هي: يتوسطها عددها

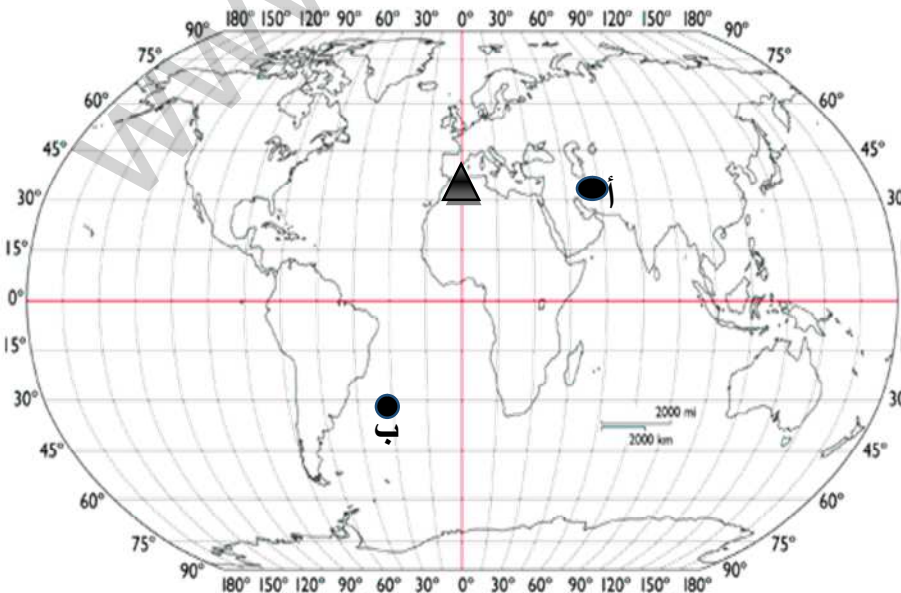
تحتل الارض المرتبة في المجموعة الشمسية ويتنح عن دورانها حول نفسها

أكمل مايلي بما

يناسبه

السؤال الثاني (3 ن)

إليك الشكل التالي: المثلث يمثل الساعة 09 صباحا في غرينتش
كم تكون الساعة في المدينة أ و ب



أظهر خط غرينتش على الخريطة بلون ازرق
وخط الاستواء بلون أخضر



التاريخ

1 - حدّد فترة ما قبل التاريخ

.....

2- يتم قراءة الاثار بعدة طرق منها :

.....

.....

3 - أكمل ما يلي :

يمتد العصر الحجري القديم من إلى حيث سكن الإنسان في

..... وعاش على و إكتشف وظهرت به عدة

حضارات ك..... و..... و.....

الجغرافياالجزء الأول : (06 ن)

1 - عرف مايلي :

خطوط الطول هي :

البحار هي :

2 - أجب بصحيح أو خطأ مع تصحيح الخطأ إن وجد

- ينتج عن دوران الأرض حول نفسها الفصول الأربعة.
- خط الإستواء يفصل الأرض إلى شرق وغرب .
- مفتاح الخريطة هو رموز تستخدم لتوضيح محتويات الخريطة.
- تبلغ مساحة قارة إفريقيا حوالي 30.33 مليون كلم²

الجزء الثاني (04 ن)

إذا كانت الساعة في مدينة مستغانم 9 صباحا الواقعة على خط غرينتش 0°. فكم تكون الساعة في مدينة الرباط الواقعة على خط طول 15° غربا .