

النجاح في بكالوريا الجزائر

مقترحات فريون عكاشة

الأستاذ عمار بورنان

العدد - 01

مواضيع مقترحة
التاريخ والجغرافيا

10

الشعب العلمية واللغات الأجنبية

الوضوح السادس

الوضوح السابع

الوضوح الثامن

الوضوح التاسع

الوضوح العاشر

الوضوح الأول

الوضوح الثاني

الوضوح الثالث

الوضوح الرابع

الوضوح الخامس

بكالوريا 2021
للنجاح

BAC 2021



بكالوريا 2021
للنجاح

BAC 2021

سلسلة مقترحات فريق عكاشة

مكتبة عكاشة للنشر والتوزيع

أولاد قابت الجزائر العاصمة

الأستاذ بورنان عمار

بالتعاون مع فريق عكاشة

باك 2021 عنواننا
للنجاح

BAC 2021

10 مواضيع مقترحة التاريخ والجغرافيا

العلميين واللغات الأجنبية

عكاشة
COMPANY
We can help you
يمكننا أن نساعدك

التحضير الممتاز لباكوريا الجزائر

جدول المحتويات

مواضيع الشعب العلمية

3	01- الموضوع المقترح الأول
3	الإجابة النموذجية
5	02- الموضوع المقترح الثاني
8	الإجابة النموذجية
10	03- الموضوع المقترح الثالث
13	الإجابة النموذجية
14	04- الموضوع المقترح الرابع
17	الإجابة النموذجية
19	05- الموضوع المقترح الخامس
22	الإجابة النموذجية
23	

مواضيع شعبة اللغات الأجنبية

27	01- الموضوع المقترح الأول
27	الإجابة النموذجية
28	02- الموضوع المقترح الثاني
31	الإجابة النموذجية
33	03- الموضوع المقترح الثالث
36	الإجابة النموذجية
37	04- الموضوع المقترح الرابع
40	الإجابة النموذجية
42	05- الموضوع المقترح الخامس
45	الإجابة النموذجية
46	

جزء الخرائط

50



مواضيع الشعب العلمية

01- الموضوع المقترح الأول

استعن بالله وأجِبْ علي :

التاريخ :

الجزء الأول: (6 نقاط)

" .. انتشرت موجة التحرر في العالم وتطلعت شعوبه الى التحرر كليا من السيطرة الأجنبية ، فلقد تمخض عن الحرب العالمية الثانية استقلال بعض الشعوب، وقد استفادت هذه الحركة التحررية من الأوضاع الدولية الجديدة كوجود الأمم المتحدة وخروج (القوى الاستعمارية التقليدية) ضعيفة ومخرجة والصراع الأيديولوجي بين (القوتين) ، واستقلال بعض شعوب العالم الثالث غداة نهاية الحرب العالمية الثانية .. "

المصدر: الكتاب المدرسي المقدم التاريخ المعاصر للسنة النهائية من 37.

المطلوب : اعتمادا على السند وما درست أجِبْ وفقك الله على :

- 01- اضبط مفاهيم المصطلحات التي تحتها خط في النص .
- 02- على خريطة العالم المرفقة وقع القوى المقصودة بين قوسين في النص .
- 03- عرف الشخصيات الآتية : ريتشارد نيكسون - مصطفى بن بولعيد - جمال عبد الناصر
- 04- أكمل جدول الاحداث الآتي :

التاريخ	الحدث
08 سبتمبر 1954	
	أحداث مناقية سيدي يوسف
09 نوفمبر 1989	

الجزء الثاني : (04 ن):

جاء في تصريح بن يوسف بن خدة في 19 مارس 1962
 " .. إن وقف اطلاق النار ليس هو السلم، إن الفترة الانتقالية هي الاستعداد للاستقلال وليست هي الاستقلال.. إن الجزائر ستكون كما تريدنا نحن الجزائريون أن تكون، وإن الشعب الجزائري القوي بوحدته وأمام العالم الذي يراقبه، سيواصل نضاله لتحقيق الأهداف التي أستشهد من أجلها مئات الآلاف من الأبطال الجزائريين.. يجب أن تقوي من طاقاتنا ونحیی بعث الدولة الجزائرية المستقلة، ذات السيادة ، الدولة التي تتيح لنا إرساء قواعد سلمية لجمهورية ديمقراطية اجتماعية .. "

من سلسلة جهاد الشعب الجزائري - سبام العسلي

3.....

3.....

5.....

8.....

10.....

13.....

14.....

17.....

19.....

22.....

23.....

27.....

27.....

28.....

31.....

33.....

36.....

37.....

40.....

42.....

45.....

46.....

50.....

المطلوب : اعتمادا على النص وما درست اكتب مقالا وفقك الله تتناول فيه :

01- ظروف بعث الدولة الجزائرية

02- الاختيارات الكبرى من خلال ميشاق طرابلس

الجغرافيا

الجزء الأول (06 ن):

".. لقد أصبحت المنظمات غير الحكومية تمثل عناصر أساسية في العلاقات الدولية منذ نهاية الحرب الباردة بعد أن شددت الاهتمام إليها خلال قمة منظمة الأمم المتحدة حول التنمية المستدامة بيوهانسبرغ سنة 2002، ولعبت دورا لا يستهان به في اندلاع ثورة بلدان الجنوب التي أفضت الى افشال مؤتمر المنظمة العالمية للتجارة بالمكسيك في سبتمبر 2003.. فإن النفوذ في ظل العولمة أضحي أقل تركزا، فإلى جانب نفوذ رأس المال الذي تمثله الشركات متعددة الجنسيات والبنوك .." مويرس دوروسي 2005، عولمة الاقتصاد 214

01- اضبط مفاهيم المصطلحات التي تحتها خط في النص .

02- إليك جدولاً لقيم صادرات وواردات أهم دول الاتحاد الأوروبي لسنة 2013 : (مليار دولار)

الدولة	ألمانيا	هولندا	فرنسا	إيطاليا
الصادرات	1453	672	580	518
الواردات	1189	590	681	477

المنظمة العالمية للتجارة : احصائيات التجارة الدولية 2014 ص 26

المطلوب : أ- مثل قيمة الصادرات والواردات بأعمدة بيانية في مجال واحد بمقياس: 01 سم = دولة

01 سم = 200 مليار دولار

ب- على خريطة أوروبا المرفقة وقع 03 دول واردة في الجدول.

الجزء الثاني (04 ن):

".. تعد تجرية دول شرق وجنوب شرق آسيا إحدى التجارب الرائدة في مجال تنمية الموارد البشرية، مما مكنتها من التمويع والتأثير في الفضاء الاقتصادي العالمي.."

المطلوب: انطلاقا من الفقرة واعتمادا على ما درست، اكتب مقالا جغرافيا تبرز فيه :

01- دور استثمار العنصر البشري في تنمية المنطقة .

02- وزن المنطقة في الاقتصاد العالمي .

الإجابة النموذجية

التاريخ :

الجزء الأول :

1- شرح المصطلحات :

- الحرب العالمية الثانية : مواجهة عسكرية 1939-1945 بين دول الحلفاء (فرنسا-بريطانيا-الو.م.أ-السوفييات) ودول المحور (ألمانيا-إيطاليا-اليابان) انتهت بانتصار الحلفاء وانحزام دول المحور .
- الصراع الأيديولوجي: صراع عقائدي (فكري - مذهبي - ديني) بين النظامين الشيوعي والرأسمالي، يقوم على مبدأ استحالة تعايشهما في عالم واحد (الحرب الباردة).
- العالم الثالث: مصطلح يطلق على الدول حديثة العهد بالاستقلال، أطلقه الفرنسي ألفريد صوفي على الدول حديثة العهد بالاستقلال والتي كانت تعاني من العجز الاقتصادي والتخلف في شتى الميادين بعد استقلالها.

2- الخريطة : في جزء الخرائط

3- التعريف بالشخصيات :

- ريتشارد نيكسون: رئيس الولايات المتحدة الأمريكية بين 1969 - 1974 شهدت فترة حكمه انتهاء حرب الفيتنام وتوقيف تصدير النفط العربي 1973، وعرفت فترة فضيحة ووترغيت وتقديم استقالته.
- مصطفى بن بولعيد: 1917-1956 ثوري جزائري، مناضل في حزب الشعب وحركة الانتصار للحريات الديمقراطية، عضو المنظمة الخاصة ومجموعة 22 ثم مجموعة 6 ومن أبرز مفجري الثورة، قائد منطقة الأوراس، استشهد سنة 1956.
- جمال عبد الناصر: من مؤسسي منظمة الضباط الأحرار، تزعم الثورة في مصر، رئيس الجمهورية المصرية 1954-1970 مؤتم قناة السويس 1965، من مؤسسي حركة عدم الإنحياز 1961 وأحد الشخصيات البارزة في العالم الثالث ومدعمي حركات التحرر.

4- جدول الأحداث :

التاريخ	الحدث
08 سبتمبر 1954	انشاء حلف جنوب شرق آسيا
08 فيفري 1958	احداث ماقية سيدي يوسف
09 نوفمبر 1989	تحطيم جدار برلين

الجزء الثاني :

- المقدمة : الثورة التحريرية الكبرى من مرحلة النضال لتحقيق الاستقلال لمرحلة مواصلة النضال لبناء وبعث الدولة الجزائرية بعد الاستقلال .
- العرض :

لية منذ نهاية الحرب
ستدامة بجوهانسبورغ
ت الى افشال مؤتمر
حتى أقل تركيزا، فإلى
دوروسي 2005، عملة

(- مليار دولار) :

01 سم = دولة
200 مليار دولار

الموارد البشرية، مما

01- ظروف بعث الدولة الجزائرية :

- التوقيع على اتفاقيات إيقيان: يوم 18 مارس 1962، والتي نصت على توقيف إطلاق النار يوم 19 مارس 1962، وإنشاء هيئة تنفيذية مؤقتة لتسيير الفترة الانتقالية
- انعقاد مؤتمر طرابلس: جوان 1962، لوضع ميثاق يتضمن أسس ومبادئ لسياسة داخلية وخارجية للجزائر المستقلة.
- اشتداد النشاط الإرهابي لمنظمة الجيش السري O.A.S لإجهاض تطبيق اتفاقيات إيقيان.
- إجراء استفتاء تقرير المصير: يوم 01 جويلية 1962 والإعلان الرسمي، عن استقلال الجزائر يوم: 05 جويلية 1962 بعد اعتراف فرنسا رسمياً به يوم: 03 جويلية 1962.
- تكوين الجمعية التأسيسية برئاسة فرحات عباس والإعلان عن قيام الجمهورية الجزائرية الديمقراطية الشعبية يوم: 26 سبتمبر 1962 .

02- الاختيارات الكبرى من خلال ميثاق طرابلس :

أ- السياسية:

- تشييد دولة عصرية، على أسس ديمقراطية في إطار نظام الحزب الواحد.
- محاربة الاستعمار والإمبريالية، ودعم حركات التحرر في العالم.
- العمل على تحسيد الوحدة المغاربية والعربية والإفريقية.

ب- الاقتصادية :

- تبني النظام الاشتراكي كوسيلة للتنمية الوطنية الشاملة.
- محاربة الاحتكارات الإقطاعية.

• مراجعة العلاقات الاقتصادية الجزائرية مع الخارج، على أساس التعاون العادل.

الخاتمة : رغم الصعوبات والتحديات التي واجهت الدولة الجزائرية بعد الاستقلال الا انها نجحت في تجاوزها لبناء دولة جزائرية مستقلة ذات سيادة وطنية .

الجغرافيا :

الجزء الأول :

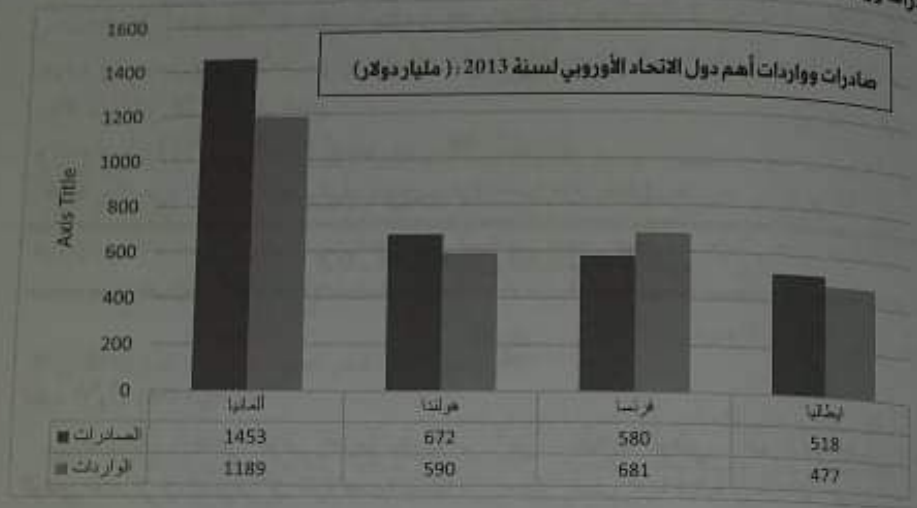
1- شرح المصطلحات :

- المنظمات غير الحكومية : منظمات غير تابعة لحكومات ودول وهي منظمات ذات طابع تطوعي انساني تستغل الولايات المتحدة الامريكية تقاريرها للضغط على الدول والتدخل في شؤونها .
- بلدان الجنوب : الدول الواقعة في الجزء الجنوبي باستثناء استراليا ونيوزيلندا ، تعيش دول الجنوب الفقر والمجاعات والاضطراب السياسي والأمني والركود والتخلف الاقتصادي ولا تواكب دولها التطور الحضاري والتكنولوجي .
- البنوك: هي مؤسسات مالية تهدف لتسهيل المعاملات المالية للعملاء وحفظ الأموال وتشغيلها، فهي المكان المناسب لحفظ النقود والاقتراض منها عند الحاجة.

باك 2021 عنواننا
للنجاح

BAC 2021

2- التمثيل البياني : صادرات وواردات أهم دول الاتحاد الأوروبي لسنة 2013 (مليار دولار)



3- الخريطة : في جزء الخرائط

الجزء الثاني: (4 نقاط)

المقدمة : منطقة شرق وجنوب شرق آسيا بين أهمية ودور العنصر البشري في تنمية المنطقة ومساهمة في جعل المنطقة قوة اقتصادية عالمية (قطب اقتصادي) أو العنصر البشري المحرك الأساسي للتنمية في المنطقة.

1- دور استثمار العنصر البشري في تنمية المنطقة :

- طبيعة الفرد الآسيوي المتميز بالتفاني والاحلاص وحب العمل .
- التكوين والتأهيل لليد العاملة (التوعية العالية) .
- اتساع السوق الاستهلاكية الداخلية (التعداد السكاني الكبير) .
- سرعة تكيف الفرد الآسيوي مع التطور التكنولوجي الهائل .
- العمل بأجور زهيدة مما جلب الاستثمارات .
- المردودية العالية للعمال والموظفين .

2- وزن المنطقة في الاقتصاد العالمي :

- تعتبر المنطقة قطب اقتصادي عالمي ينافس باقي الأقطاب الاقتصادية (الولايات المتحدة والاتحاد الأوروبي) .
- ضخامة الانتاج الصناعي خاصة اليابان إذ تمثل القوة الصناعية الثانية بعد الولايات المتحدة الأمريكية، والذين المرتبة السادسة.



- تحقيق معدلات نمو اقتصادي مرتفعة ناهست حتى الدول المتقدمة.
 - سيطرتها على مراتب ريادية في العديد من الصناعات الثقيلة مثل الصنعة المرتبة الأولى في صناعة السيارات.
 - احتلال كوريا الجنوبية المرتبة الأولى علميا في إنتاج السفن والمرتبة الثانية لليابان.
 - وفرة وضخامة رؤوس الأموال وتوفر المنطقة على أهم البورصات العالمية والبنوك حيث يمتلك اليابان 7 بنوك من أكبر 10 بنوك في العالم.
 - التحكم في 21% من التجارة العالمية حوالي 10% لليابان.
- الخاتمة : التجربة التسموية لدول شرق وجنوب شرق آسيا مثال يجتذى به .

02- الموضوع المقترح الثاني

التاريخ:

الجزء الأول (06 ن):

".. منذ سنتين والجزائر تخوض كفاحا بطوليا من أجل استقلالها الوطني.. لقد تمكن جيش التحرير الوطني المتمركز في الأوراس في مدة قصيرة نسبيا من اجتياز أعنف تجربة قتالية في ميدان الحرب التي يشهها ضد أعتى جيش عصري.. ورغم النقص المؤقت في العتاد، فقد نجح في تطوير حرب العصابات والمناوشات بحيث امتدت اليوم إلى كامل التراب الوطني.."

مقتطف من ميثاق الصومام - النصوص الأساسية لجبهة التحرير الوطني -

المطلوب : اعتمادا على السند وما درست أحب وفقك الله على :

- 01- اضبط مفاهيم المصطلحات التي تحتها خط في النص.
- 02- عرف الشخصيات الآتية : جيمي كارتر - جونيف ستالين - أحمد بن بلة.
- 03- أكمل جدول الأحداث الآتي :

الحدث	تاريخه
	06 أكتوبر 1947
الاعلان عن مشروع مارشال	
	19 ماي 1956

الجزء الثاني (04 ن) :

ورد في البيان الختامي لمؤتمر القاهرة لحركة عدم الانحياز عام 1964 : " .. إن السلام العادل لا يمكن له أن يستتب في عالم تسود فيه أوضاع غير عادلة ، وتبقى فيه الشعوب معرضة للاحتلال الاجنبي ومحرومة من حقها الأساسي في الحرية والاستقلال وتقرير المصير ، وإن الاستعمار بشكله التقليدي والجديد من الأساليب الأساسية التي تؤدي الى زيادة حدة التوتر والنزاعات الدولية لأتخما يعرضان الأمن والسلام الدوليين للخطر ، ولهذا يطالب المؤتمر بتصفية الاستعمار بصورة فورية وفعالية وغير مشروطة.."

جدول حركة عدم الانحياز - صغار مبراة -

المطلوب - اعتمادا على النص وما درست أكتب مقالا وفقك الله تناول فيه

01- الظروف الدولية التي مهدت لنشأة حركة عدم الانحياز .

02- دور حركة عدم الانحياز في العلاقات الدولية وفي حركات التحرر بين 1961-1973

الجغرافيا

الجزء الأول (06 ن) :

لكن الأولويات العامة تتضمن توسيع نطاق قاعدة الإيرادات وتعديل النفقات غير الضروري مع الحفاظ على الاستثمارات الضرورية لمعالجة فجوات البنية التحتية والانفاق الاجتماعي ويتعين أن تحقق البلدان منخفضة الدخل تقدما في تحقيق أهداف التنمية المستدامة التي تسجل محل الأهداف الإنمائية للألفية في سبتمبر 2015، وستعين أن تركز السياسات على تعبئة الموارد القابلة للاستثمار وجذب

تدفقات رؤوس الأموال الأجنبية ..

اتفاق الاقتصاد العالمي، صندوق النقد الدولي، أبريل 2015، ص 27

01- اضبط مفاهيم المصطلحات التي تحتها خط في النص.

02- إليك جدول يمثل نصيب بعض الدول في إنتاج واستهلاك الغاز الطبيعي بالنسبة للعالم 2015:

الدول	الإنتاج العالمي %	الاستهلاك العالمي %
الولايات المتحدة الأمريكية	22	8.22
روسيا الاتحادية	1.16	2.11
إيران	4.5	5.5
كندا	6.4	1.3
الصين	9.3	7.5

المصدر: مجلة أرقام، الامارات العربية للبريد BP 2016

المطلوب - أ- مثل نسب الجدول بواسطة أعمدة بيانية بمقياس : 1 سم = 2 %

1 سم = عمود

ب- وقع ثلاث دول من الدول الواردة في الجدول على خريطة العالم المرفقة .

الجزء الثاني (04 ن) :

تأكد الأرقام والأحصائيات الدولية أن دول الاتحاد الأوروبي تحتل المكانة الثالثة في الصناعة الدولية بعد

الولايات المتحدة الأمريكية وشرق آسيا (الصين واليابان) رغم المشاكل والمعوقات ...

المطلوب: انطلاقا من الفقرة واعتمادا على ما درست، أكتب مقالا جغرافيا تبرز فيه :

01- عوامل تطور الصناعة وخصامتها في دول الاتحاد الأوروبي .

02- المشاكل التي تواجه الصناعة في دول الاتحاد الأوروبي .

صين المرتبة الأولى في صناعة السيارات.

الثانية لليابان.

العلمية والبنوك حيث تمتلك اليابان 7

لدى به .

الثاني

الوطني.. لقد تمكن جيش التحرير

بحرية قتالية في ميدان الحرب التي شنها

في تطوير حرب العصابات والمتاوشات

في الصومال- النصوص الأساسية خبهة التحرير الوطني-

بن - أحمد بن بلة.

تاريخه

06 أكتوبر 1947

19 ماي 1956

19 : " .. ان السلام العادل لا يمكن له

عبور معرصة للاحتلال الاجنبي وبحرمة

الاستعمار بشكله التقليدي والحديث من

ت الدولية لأخصا يعرضان الأمن والسلام

فورية ونهائية وغير مشروطة.. "

حذور حركة عدم الانحياز حصار لبراق-

الإجابة النموذجية

التاريخ :

الجزء الأول :

1- أشرح المصطلحات :

- استقلالها الوطني : نضال الشعب الجزائري من أجل استرجاع السيادة الوطنية وطرد الاستعمار الفرنسي من الجزائر واستعادة حرمة من خلال العمل المسلح (الثورة الجزائرية) 1954-1962 .
- جيش التحرير الوطني : تنظيم عسكري (الجناح العسكري للثورة) ظهر في 01 نوفمبر 1954، مهمته القيام بالعمليات العسكرية والقتالية ضد الاستعمار بهدف تحرير الجزائر.
- حرب العصابات : أسلوب من أساليب النضال العسكري اعتمده الثورة الجزائرية ضد الاستعمار الفرنسي وهذا بسحب المواجعة المكشوفة واعتماد المواجعة غير المباشرة (الكر والفر) .

2- التعريف بالشخصيات :

- جيمي كارتر : رئيس الولايات المتحدة الأمريكية 1977-1981 ديمقراطي، وقع اتفاقية سالت الثانية مع السوفييت ، شهدت فترته أزمة أفغانستان 1979 .
- جوزيف ستالين : زعيم سوفييتي 1924-1953 جعل منه القوة الثانية عالميا بعد ح ج ع 2، تميزت فترة حكمه بالقرودية والتشدد في نظر الغرب، واجه المخططات الأمريكية بمحططات مضادة، تميزت أوروبا الشرقية من النازية.
- أحمد بن بلة: سياسي وثوري ورجل دولة جزائري، ناضل في صفوف حزب الشعب الجزائري، قيادي في المنظمة الخاصة، عضو اللجنة الثورية للوحدة والعمل وأحد مفجري الثورة التحريرية، من أعضاء الوفد الخارجي بالقاهرة، تم اعتقاله في عملية القرصنة الجوية الشهيرة 1956، أول رئيس للدولة الجزائرية المستقلة ما بين 1962 - 1965.

3- جدول الأحداث :

الحدث	تاريخه
إنشاء مكتب الكومنفرم	06 أكتوبر 1947
الإعلان عن مشروع مارشال	05 جوان 1947
إضراب الطلبة الجزائريين والتحاقهم بالثورة	19 ماي 1956

الجزء الثاني :

المقدمة : حركة عدم الانحياز بين الظروف التي مهدت لنشأتها ودورها في العلاقات الدولية وفي حركات التحرر بين 1961-1973 .

العرض :

1- الظروف الدولية التي مهدت لنشأة الحركة :
 - انتهاء الصراع بين المعسكرين في إطار الحرب الباردة.
 - انضمام بلدان العالم الثالث في صراع الحرب الباردة.
 - انتعاش والنضال الأفروآسيوي (مؤتمر بانديونغ 18 - 24 أبريل 1955 باندونيسيا).
 - نشاط الحركات التحررية واستقلال العديد من الشعوب (سوريا ولبنان 1946 - الهند وباكستان 1947)
 - الأزمات الدولية بسبب صراع الحرب الباردة (أزمة كوريا 1950).
2- دور الحركة في العلاقات الدولية وقضايا التحرر:
 - العلاقات الدولية :
 - رفض صراع الحرب الباردة منذ مؤتمر بانديونغ 1955.
 - تبنى سياسة الحياد الإيجابي ورفض الميل إلى أحد المعسكرين.
 - رفض دول الحركة الانضمام إلى الأحلاف العسكرية وإقامة القواعد العسكرية على أراضيها.
 - ظهور كتلة العالم الثالث (تأسس حركة عدم الانحياز ببلغراد بيوغسلافيا 01-06 سبتمبر 1961) ورفضها سياسة الاستقطاب.
3- دورها في دعم حركات التحرر:
 - مساعدة حركات التحرر ودعمها في المحافل الدولية.
 - وتشدد بالتدخل الأمريكي في الهند الصينية والسياسة العدائية الأمريكية تجاه كوبا (الحصار الاقتصادي) ومساندة الشعب الفلسطيني والتشديد بالتميز العنصري (جنوب أفريقيا)
 - وقف وعبارة لمشروع الإمبريالية الاستعمارية في العالم الثالث.
 - المهمة: الدور البارز والنفعال لحركة عدم الانحياز على المستويين المحلي والعالمي في الفترة 1961-1973.

الجغرافيا :

المزج الأول :

أشرح المصطلحات :

«البيئة النجحة : المنشآت والمباني الأساسية مثل المطارات والموانئ والطرق وغيرها التي تساهم في تطور البلد وتعتمد من المعايير الأساسية لتطور بلد أو تخلفه .
 «التنمية المستدامة: هي الاستغلال الأمثل للموارد الطبيعية والبشرية المتاحة بشكل متوازن اقتصادياً
 «حداً ما يضمن تلبية حاجيات الأجيال الحالية والأجيال المقبلة بصورة مستمرة مع الحفاظ على البيئة من التلوث والتخريب.
 «الموارد القابلة للاستمرار: هي التي تتجدد بصفة مستمرة ما لم يعترض الإنسان القوى التي تساعد على عملية نموها مثل الغابات والمراعي والمياه والطاقة الشمسية وغيرها.

فان السيادة الوطنية وطرد الاستعمار الفرنسي
 (الجزائرية) 1954-1962
 - الثورة) ظهر في 01 نوفمبر 1954، مهدت
 لتحرير الجزائر.

ثري اعتمده الثورة الجزائرية ضد الاستعمار
 ير للمباشرة (الكر والفر) .

1981 ديمقراطي، وقع اتفاقية سالت الثاني

القوة الثانية عالميا بعد ح ح 2، تميزت نهضة
 الأمريكية بمخططات مضادة، تحوّل أوروبا

في صفوف حزب الشعب الجزائري، قيادي
 لمقكري الثورة التحريرية، من أعضاء الوفد
 1956، أول رئيس للدولة الجزائرية المستقلة

تاريخه
كوبور 1947
جوان 1947
ماي 1956

أثقا ودورها في العلاقات الدولية وفي حركات

2- التمثيل البياني: نصيب بعض الدول في إنتاج واستهلاك الغاز الطبيعي بالنسبة للعالم 2015

نصيب بعض الدول في إنتاج واستهلاك الغاز الطبيعي بالنسبة للعالم 2015



3- التوقع: في جزء الخرائط

الجزء الثاني:

المقدمة: الصناعة أساس التطور الاقتصادي للاتحاد الأوروبي فما عوامل قوته الصناعية؟ وما المشاكل التي تواجه الصناعة في دول الاتحاد الأوروبي؟

العرض:

أ- عوامل تطور الصناعة وضخامتها في دول الاتحاد الأوروبي:

- ظهور الثورة الصناعية المبكرة بالقارة الأوروبية.
- تنوع الموارد الطبيعية (خاصة دول أوروبا الشرقية).
- التطور التكنولوجي وسرعة التكيف مع أحدث وسائل التكنولوجيا.
- وفرة اليد العاملة المؤهلة ذات الخبرة والكفاءة والمردودية العالية.
- وفرة رؤوس الأموال والمؤسسات المالية الكبرى (البنوك، البورصات ..).

ب- المشاكل التي تواجه الصناعة في دول الاتحاد الأوروبي:

- شبح الشيخوخة وتوجه المجتمع الأوروبي إلى التهرؤ مما يؤثر سلبا على اليد العاملة.
 - نقص وقلة الثروات الطبيعية وتبعيته للعالم الثالث.
 - المنافسة الخارجية (الولايات المتحدة الأمريكية، الصين، اليابان) وفقدانه للكثير من الأسواق.
 - عدم احترام مبدأ الأفضلية بين دوله (التعامل مع دول أخرى في إطار يتناقى وقوانين الاتحاد).
 - الكساد الصناعي للكثير من منتجاته بسبب تقلص الأسواق.
- الخاتمة: رغم المشاكل التي تواجه الصناعة في دول الاتحاد الأوروبي إلا أنه يبقى قوة صناعية عالمية تغزو منتجاته الأسواق العالمية.

باك 2021 عنواننا
للنجاح

BAC 2021

03_ الموضوع المقترح الثالث

التاريخ :

من الأثر (06 ن):
 من مقررات مؤتمر عدم الانحياز الأول ببلغراد في 6 سبتمبر 1961 بناء على اقتراح جمال عبد
 الناصر وأحمد بن بello ووجه أعضاء المؤتمر رسالة إلى كل من السيد (كينيدي) و(خروتشوف) يخبرهما فيها
 من الغموس من أجل السلام .. كثيرا ما أشيرتم فخامتكم إلى الطبيعة المروعة للحرب الحديثة واستخدام
 أسلحة نووية التي قد تمحي الإنسانية معها .. فقد سعى العالم الثالث لتحقيق التعايش السلمي بين
 كتل الأنظمة والدول وإزالة التكتلات العسكرية واحترام دور الأمم المتحدة وبعبارة أخرى شدد المؤتمر
 على البلدان نفسها التي اقراها مؤتمر بالدونغ ..

ليب عبد السطار - أحداث القرن العشرين -

الطلب : استنادا على السند وما درست أجب وفقك الله على :

1- حسب مفاهيم المصطلحات التي تحتها خط في النص
 2- عرف الشخصيات الآتية : جون كينيدي - خروتشوف - جوزيف بروز تيتو
 3- أكمل جدول الأحداث الآتي :

التاريخ	الحادث
6-1 سبتمبر 1961	
	مؤتمر مالطا بين خروتشوف وجورج بوش
11 ديسمبر 1960	

لو. الطي : (04 ن) :

كثرت هجمات شمال القسطنطيني 20 أوت 1955 نقطة التحول في مسار الثورة الجزائرية، بعد
 طلبنا لحاجات بالرغم من التعزيزات الاستعمارية الفرنسية ..
 الطلب : استنادا على النص وما درست أكتب مقالا وفقك الله تتناول فيه:
 1- الأبعاد هجمات الشمال القسطنطيني على الصعيد الداخلي والخارجي .
 2- نتائج الهجمات الشمال القسطنطيني 20 أوت 1955 .

تملك الغاز الطبيعي بالنسبة للعالم 2015

استهلاك الغاز الطبيعي بالنسبة للعالم 20



الأوروبي فما عوامل قوته الصناعية؟ وما المشاكل

أوروبي

ل التكنولوجيا .

ية العالية .

ك ، البورصات ..)

وبي :

يؤثر سلبا على اليد العاملة .

، اليابان) وفقدانه للكثير من الأسواق .

، أخرى في إطار يتناقى وقوانين الإتحاد) .

لأسواق .

تحاد الأوروبي إلا أنه يبقى قوة صناعية عالمية تغزو

الجغرافيا (10 ن)

الجزء الأول (06 ن) :

مع مرور الوقت بدأ العالم يشهد المزيد من الاندماج للشركات والأسواق والتحرير لكتف من الاقتصاديات، وتدفقات متنامية للتكنولوجيا، ورؤوس الأموال، والمعلومات والسلع والخدمات، ورفع القيود والحوافز الجمركية أمام هذه التدفقات. وقد دعم هذا التوجه وجود آليات تزيد من قوة التزعة نحو الشمولية العالمية، من خلال عناصر فاعلة أهمها، المنظمة العالمية للتجارة.

الكتاب المدرس - السنة الثالثة ثانوي - مر 2018

المطلوب :

01- اضبط مفاهيم المصطلحات التي تحتها خط في النص.

02- إليك جدولاً يمثل طبيعة المبادلات التجارية الخارجية للولايات المتحدة الأمريكية عام 2017:

	الصين	اليابان	الاتحاد الأوروبي	كندا والمكسيك	
الصادرات %	8.4	4.4	18.3	34	
الواردات %	21.8	5.8	18.5	25.9	

المصدر: منظمة التجارة العالمية 2018

المطلوب: أ- علق على معطيات الجدول.

ب- وقع الدول الواردة بالجدول.

الجزء الثاني (04 ن) :

يعتبر المواد الغذائية مواد حيوية غذائية لشعوب العالم تقيمن دول العالم المتقدم على إنتاجها، في حين مساهمة دول العالم المتخلف في الإنتاج العالمي تبقى ضعيفة ..

المطلوب: انطلاقاً من الفقرة واعتماداً على ما درست، اكتب مقالا جغرافيا تبرز فيه :

01- واقع تجارة المواد الغذائية.

02- عوامل تفوق العالم المتقدم في إنتاج المواد الغذائية.

الاجابة النموذجية

التاريخ :

الجزء الأول :

1- اشرح المصطلحات:

- التعايش السلمي: مفهوم جديد في العلاقات الدولية دعا إليه الزعيم السوفييتي خروتشوف عقب وفاة ستالين بهدف إلى ضرورة تقبل فكرة التعايش بين المذاهب بتقبل فكرة تعدد المذاهب والتفاهم بين المعسكرين لحل المشاكل والقضايا الدولية.
- هيئة الأمم المتحدة: هيئة أممية تأسست بتاريخ 24 أكتوبر 1945 تضم الدول المستقلة مقرها نيويورك

للشركات والأسواق والتحرير للكل من المعلومات والسلع والخدمات، ورفع القيود ووجه وجود آليات تزيد من قوة الترتيب التجارية للتجارة.."

الكتاب المدرسي - السنة الثالثة ثانوي - من 20

الولايات المتحدة الأمريكية عام 2017

اليابان	4.4
الصين	8.4
	5.8

المصدر: منظمة التجارة العالمية 2018

ول العالم المتقدم على انتاجها، في حين

قالا جغرافيا تبرز فيه :

الزعيم السوفييتي خروتشوف عقب وفاة
قبل فكرة تعدد المذاهب والتفاهم
19 تضم الدول المستقلة مقرها نيويورك

مجلس حقوق بشر عكفت
فقدت تحقيق الأمن والسلام في العالم وتنظيم العلاقات الدولية ، تأسست خلفا لعصبة الأمم .
مؤتمر أفروآسيوي انعقد بالندوبسيا 18-24 أبريل 1955 لدعم حركات التحرير ووضع
سابقا حركة عدم الانحياز.

3-التعريف بالشخصيات:
جون كينيدي: رئيس الولايات المتحدة الامريكية 1960-1963 ديمقراطي، رفض القواعد العسكرية
السياسية في كوبا (أزمة الصواريخ) استعد لمواجهة السوفييت، اغتيل سنة 1963.

ليكنيا خروتشوف: رجل سياسي سوفييتي خلف ستالين، صاحب مبادرة التعايش السلمي، أول زعيم
سوفييتي وزير الوم. أ رسميا حدثت في عهده عدة أزمات أخطرها أزمة الصواريخ في كوبا 1962 أحد قادة
الترويك.

جوزيف بروز تيتو: 1892-1980 قائد المقاومة ضد النازية، رئيس يوغسلافيا، من مؤسسي حركة عدم
الانحياز 1961، من الشخصيات البارزة في العالم الثالث .

3- جدول الأحداث:

التاريخ	الحدث
1-6 سبتمبر 1961	تأسيس حركة عدم الانحياز بيوغسلافيا
03-04 ديسمبر 1989	مؤتمر مظا بين غورباتشوف وجورج بوش
11 ديسمبر 1960	تطاعت الشعب الجزائري بالمدن الجزائرية الكبرى

المؤثلي :
للقمة مجموعات الشمال القسنطيني بين الأهداف التي سعت القوة لتحقيقها والنتائج المحققة من
هجمات
العرب :

- 1- ابعاد هجمات الشمال القسنطيني :
ذلك لخصار على الأوراس بنشيت قوات العدو.
تأكيد على شمولية واستمرارية الثورة الجزائرية.
فتح الموندين للإلتحاق بالثورة الجزائرية.
مؤكد على التضامن مع المغرب في ذكرى نفي الملك المغربي.
سبب القضية الجزائرية في المحافل الدولية (الجمعية العامة لهيئة الأمم المتحدة)
مقل الثورة من الأرياف إلى المدن وفي منتصف النهار ورفع معنويات الثوار ونحطيم أسطورة اخوف من
الاستعمار.

- 2- نتائج هجمات الشمال القسنطيني 20 أوت 1955 :
زيادة الاستعمار وحشية ضد الشعب الجزائري الأعزل (القمع، التفتيش، الاعتقالات..)
تشكل ميليشيات من الأوروبيين وتسليحها لقمع الجزائريين.

- مجزة بلعب فيليب بسكيكدة راح ضحيتها الآلاف.
- تسجيل القضية الجزائرية في أعمال الجمعية العامة لبيئة الأمم المتحدة.
- الخسائر المادية والبشرية في صفوف الجيش الفرنسي.
- انتشار الثورة في باقي مناطق الجزائر وفك الحصار جزئيا عن منطقة الأوراس.
- الخاتمة : هجومات الشمال القسنطيني حدث بارز في تاريخ الثورة الجزائرية ساهم في توسيع رقعة الثورة ونجاحها.

الجغرافيا :

الجزء الأول :

-إشرح المصطلحات :

- **الاندماج للشركات :** سياسة تتبناها الشركات لتحقيق الوحدة الشاملة بين الشركات الاعضاء وهذا بتكثيف التعاون فيما بينها والاستفادة من خبراتها .
- **الحواجز الجمركية :** الرسوم التي تفرضها الدول على تنقل السلع أو البضائع أو الأشخاص أو الخدمات من دولة لأخرى .

• **منظمة التجارة العالمية:** منظمة دولية أنشئت سنة 1995 خلفا لمنظمة "الغات" تعمل على وضع القواعد والقوانين التي تنظم التجارة العالمية، ومن أهدافها فضّ النزاعات التجارية الدولية والعمل على إلغاء الحواجز الجمركية بين الدول.

-2-التعليق على معطيات الجدول :

- الوثيقة التي بين أيدينا عبارة عن جدول احصائي اقتصادي يمثل طبيعة المبادلات التجارية الخارجية للولايات المتحدة الأمريكية عام 2017 مصدره منظمة التجارة العالمية 2018 .
- تبين في نسب التبادل التجاري للولايات مع مناطق العالم .
- تنوع المبادلات التجارية الأمريكية مع مناطق مختلفة من العالم .
- استحواذ دول أمريكا الشمالية والوسطى على نسبة كبيرة من المبادلات التجارية الأمريكية .
- استحواذ الاتحاد الأوروبي على نسبة كبيرة من المبادلات التجارية الأمريكية .
- غزو المنتجات الصينية للأسواق الأمريكية .

الجزء الثاني:

المقدمة : تجارة المواد الغذائية الاستراتيجية بين واقع هيمنة العالم المتقدم على تجارتها وعوامل تفوق العالم المتقدم في إنتاجها .

العرض :

أ- واقع تجارة المواد الغذائية :

- هيمنة الشركات الاحتكارية التابعة للعالم المتقدم على تجارتها .
- ارتفاع فاتورة استيراد العالم المتخلف للمواد الغذائية .

- ارتفاع فاتورة تصدير العالم المتقدم للمواد الغذائية (ضخامة العائدات المالية).
- تجديده أسعار المواد الغذائية ببورصات العالم المتقدم.
- استعمال الدول الكبرى للعداء كسلاح للضغط على الشعوب الضعيفة.

ب- عوامل تفوق العالم المتقدم في إنتاج المواد الغذائية:

- وقوع دوله في المناطق المعتدلة الملائمة لإنتاج المواد الغذائية.
 - وفرة رؤوس الأموال والامكانيات المادية.
 - وفرة اليد العاملة النشطة المؤهلة ذات الخبرة والكفاءة.
 - التطور التكنولوجي وتوظيفه في المجال الزراعي.
 - توفر دوله على الأراضي الخصبة الصالحة لنشاط الفلاحي.
- الخاتمة : نجاح دول العالم المتقدم في توظيف الامكانيات المادية والطبيعية مكنها من الهيمنة على تجارة المواد الغذائية.

04. الموضوع المقترح الرابع

التاريخ:

الجزء الأول (06 ن):

"..وبالرغم كذلك من تدخل الحلف الأطلسي لإنقاذ فرنسا.. لتحويل الجزائر إلى معتقلات أو محبسات، فإن الثورة أثبتت جدارتها في الداخل والخارج.. ولم يعد أمام فرنسا إلا خيارا واحدا وهو التفاوض مع جبهة التحرير الوطني والاعتراف بها من خلال حكومتها المؤقتة.." /د/صالح فرحوس تاريخ الجزائر من ما قبل التاريخ إلى غاية الاستقلال

المصدر: كتاب القواعد الخلفية للثورة- سلسلة المتاريخ الوطنية للبحث -الدكتور محمد بلعاسم من 299

المطلوب : اعتمادا على السند وما درست أحب وفقك الله على :

- 01- اضبط مفاهيم المصطلحات التي تحتها خط في النص.
- 02- عرف الشخصيات الآتية : ايزنهاور - أندري جدارتوف - بن يوسف بن خدة.
- 03- أكمل جدول الأحداث الآتي :

التاريخ	الحدث
12 مارس 1947	
	حل حلف وارسو
03 أكتوبر 1958	

الجزء الثاني : (04 ن) :

تعتبر الحرب العالمية الثانية (1939-1945) من أشد الحروب وأخطرها، وأحدثت علاقات دولية ومفاهيم وأفكار جديدة أدخلت العالم في عصر جديد متميز، وكان المستفيد الحقيقي من هذه التغييرات الولايات المتحدة الأمريكية والاتحاد السوفياتي اللذين برزا كقوتين متصارعتين بعد الحرب العالمية الثانية

المطلوب : اعتمادا على النص وما درست أكتب مقالا وفقك الله تتناول فيه:

- 01- مظاهر التفوق الأمريكي والسوفياتي بعد الحرب العالمية الثانية .
- 02- الاستراتيجيات العسكرية والاقتصادية الأمريكية لمواجهة السوفيات بعد الحرب العالمية 2 .

الجغرافيا

الجزء الأول (06 ن):

" يمثل الاتحاد الأوروبي قطبا اقتصاديا بدأ يتشكل بعد الحرب العالمية الثانية. وهكذا بدأ الأوروبيون الحسنيين في إنشاء سوق مشتركة ، فمن معاهدة روما الشهيرة.. فاتحاد أوروبي اقتصادي وتقدي ضمن معاهدة ماستريخت، وبذلك تكون التحالفات الاقتصادية في أوروبا سوقا موحدة .."

المرجع: الصراع الاقتصادي، إلى ابن محمد عبد السلام - ص 123

01- اصبط مفاهيم المصطلحات التي تحتها خط في النص.

02- إليك جدول يمثل تطور الصادرات العالمية من النفط الخام وفق المجموعات الدولية 2020:

المجموعة	أمريكا الشمالية	أمريكا الجنوبية	أوروبا الغربية	أوروبا الشرقية	آسيا الهادي	الشرق الأوسط وأفريقيا
النسبة %	5.3	10.8	4.8	17.1	3.1	58.9

المرجع: الموقع الرسمي لمنظمة الأوبك

المطلوب : - مثل معطيات الجدول بدائرة نسبة مقياس رسم : نق = 3 سم

الجزء الثاني (04 ن) :

يتميز صادرات وواردات الولايات المتحدة الأمريكية التنوع والسخامة ورغم رواج مبيعاتها وغزوها للأسواق الخارجية العالمية ، فحجم وارداتها يتزايد يوما بعد يوم مما أدى إلى تعرضها لصعوبات مالية واقتصادية ..

المطلوب: انطلاقا من الفقرة واعتمادا على ما درست، أكتب مقالا جغرافيا تبرز فيه :

- 01- أسباب العجز في الميزان التجاري للولايات المتحدة الأمريكية .
- 02- الصعوبات التي تواجه الاقتصاد الأمريكي .

الاجابة النموذجية

التاريخ :

الجزء الأول :

1- شرح المصطلحات:

• **المختشات:** مراكز مستبحة ومغلقة ومحروسة وإحدى الوسائل القمعية من أجل خنق وضرب الثورة وعزل الشعب عن الثورة وقد عانى الشعب من سياسات التعذيب المتبعة داخل هذه المختشات.

• **الثورة:** فعل تحرري شامل ورد شعبي عنيف يهدف استرجاع السيادة والاستقلال من خلال مجموع العمليات العسكرية والسياسية لجيش التحرير وجبهة التحرير الوطني وهذا حق مشروع أكدت عليه مواثيق هيئة الأمم.

• **جبهة التحرير الوطني:** تنظيم سياسي ثوري (الجنح السياسي للثورة) ظهر في 01 نوفمبر 1954، وتعتبر الممثل الشرعي والوحيد للشعب الجزائري، تهدف إلى تحرير الجزائر من الاستعمار.

2- التعريف بالشخصيات:

• **ايزنهاور:** سياسي وعسكري أمريكي، قائد الحلف الأطلسي سنة 1949، رئيس الولايات المتحدة الأمريكية 1953-1961، أنهى الحرب الكورية 1953، صاحب المشروع الذي يحمل اسمه.

• **أندري جدانوف:** سياسي سوفياتي صاحب أطروحة الكتلتين (الكتلة الشرقية- الكتلة الغربية) من الذين ساهموا في التشدد الإيديولوجي في الفترة 1945-1953 مهندس الحلف الجرمانى السوفياتي (1939) صاحب مشروع جدانوف.

• **بن يوسف بن خدة:** عضو بحزب الشعب، قيادي في حركة انتصار الحريات الديمقراطية، أمين عام اللجنة المركزية ورئيس الحكومة المؤقتة 1960-1962، أعلن عن وقف إطلاق النار، أحد الشخصيات البارزة في مؤتمر طرابلس 1962.

3- جدول الأحداث:

التاريخ	الحدث
12 مارس 1947	الاعلان عن مشروع ترومان
01 جويلية 1991	حل حلف وارسو
03 أكتوبر 1958	الاعلان عن مشروع قسنطينة

الجزء الثاني :

المقدمة: تحاية الحرب العالمية الثانية وتراجع القوى القديمة وبروز قوى جديدة متصارعة في اطار الحرب الباردة

العرض :

1- مظاهر التفوق الأمريكي والسوفياتي بعد الحرب العالمية الثانية :

• امتلاك القوتين للأسلحة النووية

• امتلاك القوتين لعضوية دائمة في مجلس الأمن (حق الفيتو)

• المهينة الأمريكية والسوفييتية على القارة الأوروبية

• التفوق الاقتصادي الأمريكي بعد الحرب العالمية الثانية (تضاعف الطلب على السلع الأمريكية)

2- الاستراتيجيات العسكرية والاقتصادية الأمريكية لمواجهة السوقيات بعد ج 2 ،

أ- العسكرية :

• السباق نحو التسلح (القبلة النووية 1945 - الصواريخ الباليستية 1951) ودعم الانقلابات العسكرية.

• إقامة القواعد العسكرية في العالم لحماية مصالحها وإنشاء وكالة للمخابرات الأمريكية.

• سياسة إنشاء الأحلاف العسكرية مثل حلف الناتو، بغداد ..

ب- الاقتصادية :

• التكتلات الاقتصادية بين دول المعسكر الغربي (تكتيف التعاون والتبادل التجاري).

• المقاطعة الاقتصادية (مقاطعة المعسكر الشرقي اقتصاديا) وفرض الحصار الاقتصادي على بعض دوله.

• المشاريع الاقتصادية مثل مشروع مارشال 1947 ، مشروع ايزنهاور 1957 ، مشروع ترومان 1947

الحاققة : صراع القوتين الولايات المتحدة الأمريكية والاتحاد السوفييتي في اطار الحرب الباردة أفضى بالخياب الكتلة الشرقية والفراد الولايات المتحدة بالزعامة الدولية .

الجغرافيا :

الجزء الأول :

1- نشرح المصطلحات :

• قطبا اقتصاديا : مركز يمثل نقطة قوة ونشاط إقتصادي لتوفره على جميع الشروط من أموال وبنية تحتية وتكنولوجيا تجعل منه قوة اقتصادية عالمية مؤثرة ويتنافس مع أقطاب أخرى.

• معاهدة ماستريخت: تأسس من خلالها الاتحاد الأوروبي وُقعت في مدينة ماستريخت الهولندية ديسمبر 1991 ودخلت حيز التنفيذ 1992 حددت كل شروط الإنضمام للإتحاد وقوانينه.

• سوق مشتركة : منظمة اقليمية تهدف لتحقيق التكامل الاقتصادي بين الدول الاعضاء أنشأتها معاهدة روما 1957 بإنشاء سوق موحدة والاعضاء الجمركي بين الدول الأعضاء الستة (بلجيكا،الكمسبورج،فرنسا،هولندا،إيطاليا،ألمانيا الغربية).

2- التمثيل البياني :

تطور ال

أور

أورب

الجزء الثاني

المقدمة :

الاقتصاد الأمري

:

العجز في

تيراد

الجزء الثالث

الجزء الرابع

الجزء الخامس

الجزء السادس

ب- الص

تكتل

التبعية

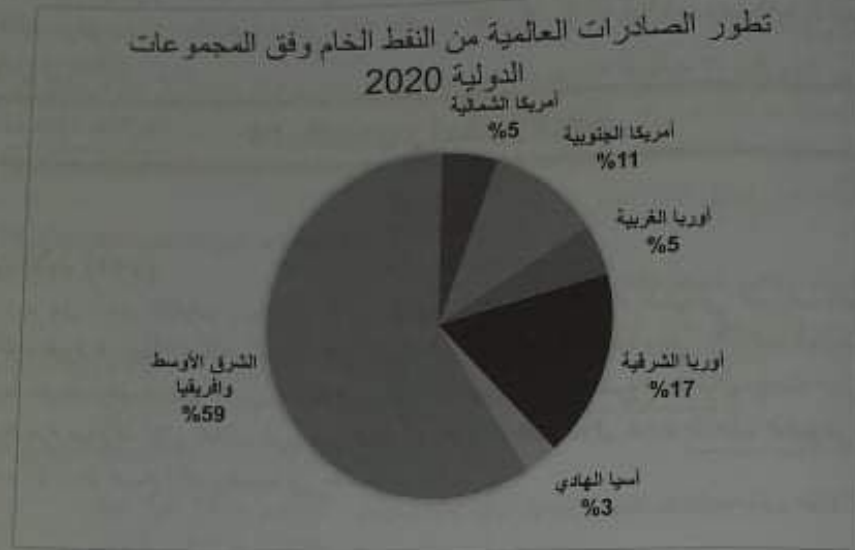
المنافسة

عجز

الرسوم

أزمة البط

2- التمثيل البياني:



الجزء الثاني:

المقدمة : المبادلات التجارية الأمريكية بين أسباب العجز في ميزانها التجاري والصعوبات التي تواجه الاقتصاد الأمريكي .

العرض :

1- أسباب العجز في الميزان التجاري للولايات المتحدة الأمريكية :

- ارتفاع فاتورة استيراد مواد الطاقة (البتروول والمعادن ..).
- ضخامة فاتورة الانفاق العسكري
- الحروب الخارجية للولايات المتحدة الأمريكية (الغزو الأمريكي للعراق وأفغانستان ..).
- المساعدات التي تمنحها الولايات المتحدة الأمريكية للدول بهدف الهيمنة .
- الأزمات المالية والاقتصادية التي تؤثر على ميزانها التجاري .

ب- الصعوبات التي تواجه الاقتصاد الأمريكي :

- تكثُّس الإنتاج الزراعي والصناعي وضخامته .
- التبعية فيما يخص المواد الأولية لدول العالم المتخلف .
- المنافسة الخارجية وتقلص أسواقها في العالم .
- عجز الميزان التجاري وميزان المدفوعات .
- الرسوم الجمركية المفروضة على السلع الأمريكية .
- أزمة البطالة التي قدرت سنة 2018م بـ 3.8%

على السلع الأمريكية)
بحج 2020:

عم الانقلابات العسكرية
مريكية.

(اري).

صادي على بعض دوله
تروع ترومان 1947
وب الباردة أفضى باختيار

ط من أموال وبنية تحتية

يخت الهولندية ديسمبر

عضء أنشأتها معاهدة

الأعضاء الستة

• الأزمات المالية والإقتصادية الدورية التي تضرب الإقتصاد الأمريكي.
الخاتمة : رغم المشاكل والصعوبات التي تواجه الإقتصاد الأمريكي إلا أن الولايات تبقى القوة الاقتصادية الأولى في العالم .

05. الموضوع المقترح الخامس

التاريخ:

الجزء الأول (06 ن):

.... وفي أحد المؤتمرات ببولندا ، أسس السوفييت مكتب الاعلام الشيوعي المعروف اختصارا بالكومينفورم كوسيلة لإحكام سيطرتهم على الدول التابعة في أوروبا الشرقية وعلى الأحزاب الشيوعية في أوروبا الغربية . وقد شجب أندري جدانوف ، كبير المندوبين الروس ، مشروع مارشال بوصفه جزءا من استراتيجية مشتركة لعقد تحالف غربي من شأنه أن يكون نقطة انطلاق لمحاورة الزحف الشيوعي ، ثم أردف أن العالم أصبح الآن منقسما إلى معسكرين ..

روبرت جيه ماكمان - الحرب الباردة - ص 38

المطلوب : اعتمادا على السند وما درست أحب وفقك الله على :

- 01- اضبط مفاهيم المصطلحات التي تحتها خط في النص .
- 02- عرف الشخصيات الآتية : هاري ترومان - بولغانين - زيبود يوسف
- 03- أكمل جدول الاحداث الآتي :

الحدث	تاريخه
	05 مارس 1953
مظاهرات المهاجرين الجزائريين بفرنسا	
	21 ديسمبر 1991

الجزء الثاني : (04 ن) :

تميزت المرحلة من 20 أوت 1956 تاريخ انعقاد مؤتمر الصومام إلى غاية سنة 1958 بالتنظيم المؤسسي وتدويل القضية الجزائرية والأردواجية بين الكفاح العسكري والسياسي ردا على الاستراتيجيات الاستعمارية الفرنسية ...

المطلوب : اعتمادا على النص وما درست أكتب مقالا وفقك الله تتناول فيه:

- 01- الاستراتيجيات الاستعمارية في الفترة الممتدة 1956-1958 .
- 02- التنظيمات السياسية والعسكرية للثورة الجزائرية في الفترة 1956-1958 .

الجزء الأول (06 ن):

.. كانت الشركات الاحتكارية
أسواق للمنتجات الصناعية و
الجنسيات استمر هذان المدة
النظام الاقتصادي الدولي الذي

01- اضبط مفاهيم المصطلحات

02- إليك جدول يمثل تطور

السنة	الصادرات
1980	7.6

المطلوب : أ- مثل معطيات

ب- على خريطة العالم المرفقة

الجزء الثاني (04 ن) :

لم تلعب منظمة تشكلت

التوجهات السياسية بين بلد

ظلت تعزز دورها عاما بعد

المطلوب: انطلاقا من الفقرة

01- دور منظمة الأوبك

02- العراقيل الداخلية و

1- اشرح المصطلحات:

♦ مشروع مارشال: مش

♦ جورج مارشال

♦ مكتب

♦ الشيوع

كانت الشركات الاحتكارية الاستعمارية منذ مطلع القرن السابع عشر تبحث في المستعمرات عن أسواق للمنتجات الصناعية وعن المواد الأولية التي تحتاجها الصناعة ، ومع بروز الشركات المتعددة الجنسيات استمر هذان الهدفان وأضيفت إليهما أهداف أخرى تتعلق بتكثيف هذه الشركات وتطور النظام الاقتصادي الدولي الذي تعمل في إطاره ..

د- التطوير بموجب - العرب أمام تحديات التكنولوجيا من 74

01- اضبط مفاهيم المصطلحات التي تحتها خط في النص.

02- إليك جدول يمثل تطور قيمة صادرات البرازيل من المنتجات الفلاحية (مليار دولار) :

السنة	1980	1990	2000	2009	2017
الصادرات	7.6	9.7	15.4	57.6	80

المصدر : ملاح العالم الاقتصادية 2017 ومنظمة الأغذية والزراعة

المطلوب : أ- مثل معطيات الجدول بمنحني بياني بمقياس رسم : 01 سم = 10 مليار دولار

01 سم = 10 سنة

ب- على خريطة العالم المرفقة الصماء وقع دول مجموعة السبعة .

الجزء الثاني (04 ن) :

لم تلعب منظمة تشككت من دول نامية دورا بأهمية الدور الذي لعبته أوبك ، على الرغم من تباين التوجهات السياسية بين بلد وآخر من البلدان الأعضاء ، فإن أوبك لم تكنف بالحفاظ على تماسكها ، بل ظلت تعزز دورها عاما بعد عام رغم العراقيل الداخلية والدولية التي تواجهها ..

المطلوب : انطلاقا من الفقره واعتمادا على ما درست ، اكتب مقالا جغرافيا تبرز فيه :

01- دور منظمة الأوبك في سوق النفط .

02- العراقيل الداخلية والدولية التي تواجه المنظمة .

الاجابة النموذجية

التاريخ :

1- اشرح المصطلحات :

• مشروع مارشال : مشروع مساعدات اقتصادية منحها الولايات المتحدة الأمريكية عن طرق وزير خارجيتها جورج مارشال لدول أوروبا عام 1947 لتجاوز مخلفات الحرب العالمية الثانية والوقوف أمام المد الشيوعي .

• الكومنفرم : مكتب الأخبار والاعلام الشيوعي تأسس عام 1947 ، أسسه الإتحاد السوفياتي يضم معظم الأحزاب الشيوعية في العالم ، حل بتاريخ 17 أبريل 1956 .

• الزحف الشيوعي : نشر السوفييات لإيديولوجيته وأفكاره الشيوعية في أوروبا والعالم بعد الحرب العالمية الثانية مما أدى إلى تخوف القوى الغربية الرأسمالية .

2- التعريف بالشخصيات :

• هاري ترومان: رئيس الولايات المتحدة الأمريكية 1945-1953 رمز من رموز الحرب الباردة، صاحب قرار تفجير القنبلة الذرية ضد اليابان ويعتبر من مؤيدي الحركة الصهيونية، صاحب مبدأ ترومان 1947 تجاه بنصيبه وتشدده للمعسكر الرأسمالي.

• بولغانين: سياسي سوفياني، تقلد العديد من المناصب السياسية، أحد قادة الترويككا 1953، من مؤيدي فكرة التعايش السلمي .

• زيغود يوسف: 1921-1956 متاضل في حزب الشعب ثم المنظمة الخاصة، شارك في التحضير للثورة المسلحة، من مجموعة 22، قاد الهجوم القسطنطيني في 20 أوت 1955 عضو المجلس الوطني للثورة الجزائرية 1956، استشهد في 23 سبتمبر 1956.

3- جدول الأحداث:

التاريخ	الحدث
05 مارس 1953	وفاة الزعيم السوفياني ستالين
17 أكتوبر 1961	مظاهرات للمهاجرين الجزائريين بفرنسا
21 ديسمبر 1991	مؤتمر ألماتا و زوال الاتحاد السوفياني وظهور الجمهوريات المستقلة

الجزء الثاني :

المقدمة : الثورة الجزائرية الكبرى في الفترة 1956-1958 بين استراتيجيات الاستعمار للقضاء عليها والتنظيمات السياسية والعسكرية للثورة الجزائرية .

1- الاستراتيجيات الاستعمارية في الفترة 1956-1958 :

• إنشاء خطي شال وموريس لعلق الحدود الشرقية والغربية بأسلاك شائكة مكهربة وزرع الألغام .
• القيام بعمليات تمشيط الجبال مثل : عملية التاج بالولاية الخامسة 1959، عملية الحزام بالولاية الرابعة جوان 1959 .

• العمل على إنشاء القوة الثالثة (العملاء).

• الإعلان عن مشروع قسنطينة الاغرائي 1958 .

• إصدار دستور فرنسا الجديد 26 سبتمبر 1958 الذي يعتبر الجزائر فرنسية والعمل على إشراك الجزائريين في الاستفتاء حوله .

• مشروع سلم الشجعان 23 أكتوبر 1958 (مشروع ديغولي) الذي يدعو الثوار لترك السلاح وعودتهم إلى ذوبهم، الهدف منه تمزيق صفوف الثورة والمراوغة .

• إعلان ديغول مشروع تقرير مصير الشعب الجزائري 16 سبتمبر 1959 بشروط وقف القتال، إجراء

2- التنظيمات السياسية

أ- العسكرية :

• إعادة هيكلة وتنظيم جيش

ب- السياسية :

• تأسيس المجلس الوطني للثورة

• تأسيس لجنة التنسيق والتنظيم

• تأسيس الحكومة الجزائرية المؤقتة

الخاتمة : مرحلة تنظيم الثورة

تاريخ الثورة

الجزء الأول :

• الشركات الاحتكارية

سواء الطاقوية مثل شركة

• المواد الأولية : حديد

وتتشكل بتأثير العوامل

فعلية وهي متجددة وغ

• الشركات متعددة

أجنبية، تتمتع بقدر كبير

2- التمثيل البياني:

تطور قيم

19 رمز من رموز الحرب الباردة، صاحب صهيونية، صاحب مبدأ ترومان 1947 تمير

أحد قادة الترويككا 1953، من مؤيدي

لجنة الخاصة، شارك في التحضير للثورة
19 عضو المجلس الوطني للثورة الجزائرية

تاريخه
مارس 1953
أكتوبر 1961
ديسمبر 1991

مخيمات الاستعمار للقضاء عليها

مكهربة ووزع الأنعام.

19، عملية الحزام بالولاية الرابعة

والعمل على إشراك الجزائريين

أوار لترك السلاح وعودتهم إلى

بشروط وقف القتال، إجراء

البلدات مفردات تريف عكاشة

الاستثناء بعد 4 سنوات حول اختيار الجزائريين بين الانفصال أو الإدماج أو الحكم الذاتي.

2-التنظيمات السياسية والعسكرية للثورة 1956-1958:

- أ-العسكرية:
- إعادة هيكلة وتنظيم جيش التحرير الوطني خلال مؤتمر الصومام 20 أوت 1956.
- ب-السياسية:
- تأسيس المجلس الوطني للثورة الجزائرية (المؤسسة التشريعية) بمؤتمر الصومام 1956.
- تأسيس لجنة التنسيق والتنفيذ (مؤسسة تنفيذية) بمؤتمر الصومام 1956.
- تأسيس الحكومة الجزائرية المؤقتة بالقاهرة 19 سبتمبر 1958.

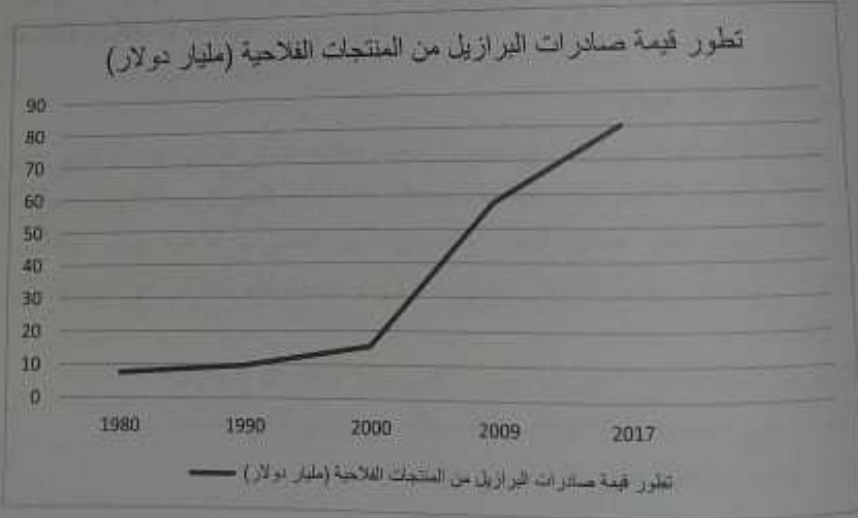
الخلاصة: مرحلة تنظيم الثورة كانت ضرورة لضمان استمرارية نجاح الثورة الجزائرية وتعتبر محطة حاسمة في تاريخ الثورة

الجغرافيا:

الجزء الأول:

- الشركات الاحتكارية: الشركات التابعة للقوى الاقتصادية الكبرى التي تحتكر تجارة المواد الاستراتيجية سواء الطاقوية مثل شركة بترولوم (تجارة البترول) أو الغذائية مثل شركة بونج (تجارة القمح).
- المواد الأولية: جميع الثروات السطحية والباطنية مثل المعادن والبترول والتمرة والغابات التي تنمو وتتشكل بتأثير العوامل الطبيعية وبشكل تلقائي دون تدخل يد الإنسان والتي يمكن أن تتحول إلى ثروة فعلية وهي متعددة وغير متجددة.
- الشركات متعددة الجنسيات: هي شركات تخضع ملكيتها لجنسيات متعددة وتمارس نشاطها في بلاد أجنبية، تتمتع بقدرة كبير من حرية نقل الموارد وتعد من العوامل الأساسية في ظهور العولمة.

2-التنميط البياني:



3- التوقيع على الخريطة ، في جزء الخرائط

الجزء الثاني:

المقدمة : منظمة الأوبك ودورها البارز في سوق النفط ومواجهة ضغوطات الدول الصناعية والكبرى.

العرض:

1- دور منظمة الأوبك في سوق النفط :

- توحيد السياسات النفطية للدول الأعضاء.
- حماية مصالح الدول المنتجة بضمان الدّخل الثابت واستقرار الأسعار.
- محاربة الاحتكار وهيمنة الشركات الاجنبية.
- تدعيم التعاون التقني والتكنولوجي في مجال التنقيب والاستخراج والتسويق بين الدول الأعضاء.
- تحديد سقف الإنتاج وحصص الدول الأعضاء.

2- العراقيل الداخلية والخارجية التي تواجه المنظمة :

1- الداخلية:

- عدم احترام أعضائها لسقف الإنتاج.
- انسحاب بعض الدول الأعضاء من المنظمة.

2- الدولية :

- منافسة الدول المنتجة للبتروول غير الأعضاء للمنظمة.
- تزايد التوجه نحو الطاقة البديلة من طرف الدول المتقدمة.
- ضغوطات القوى الكبرى وشركاتها الاحتكارية.
- الخاتمة : رغم المشاكل والصعوبات التي تواجه منظمة الأوبك إلا أنّها تبقى المنظمة الوحيدة التي تملك الدول الصناعية وشركاتها الاحتكارية.



مواضيع

استعن بالله وأجب على :

الجزء الأول: (06 نقاط)

(1) " .. ثم جاءت مظاهرات التي تزعم بأن الثورة الجزائرية وانضم إلى فرنسا وجيبتها، وكما وجهة التحرير " تسقط فرنسا

- المطلوب : اعتمادا على السند
- (1) اضبط مفاهيم المصطلحات
 - (2) عرف الشخصيات الواردة في
 - (3) اكمل جدول الاحداث الآتي

الحدث
اختطاف الوفد الخارجي

الجزء الثاني : (04 نقاط):

".. إن فكرة النظام العالمي الجديد النظام لا يأخذ في الاعتبار معانيه بعد أن أصبح العالم أحادي المزعومة.. وأضحت منظمة الأمم تريدنا .."

المطلوب :

3	الجزء
36	المقد
3	والنتج
3	1- إنش
3	القيا
3	جوان
3	العمل
3	الإعدا
3	إصدار
3	في الار
3	مشرو
3	ذويهم
3	إعلان

مواضيع شعبة اللغات الأجنبية

01- الموضوع المقترح الأول

اسعن بالله وأجب على :

التاريخ :

الجزء الأول: (06 نقاط)

(1) " ثم جاءت مظاهرات ديسمبر 1960 لتفصح كل أكاذيب وادعاءات طباط الحيش الفرنسي التي تزعم بأن الثورة الجزائرية قد ماتت وقبرت، وأن الشعب الجزائري قد تخلى عن جبهة التحرير الوطني، وانضم إلى فرنسا وحيشها، وكانت صحبات المتظاهرين بشعارات رافضة لسياسة الإدماج " تحيا الجزائر وجبهة التحرير " تسقط فرنسا والاستعمار .."

الكتاب هو بوعزيز- نوات القرب العشرين- ص 383

المطلوب: اعتمادا على السند وما درست أحب وفقك الله على :

- (1) اضبط مفاهيم المصطلحات التي تحتها خط في النص -
- (2) عرف الشخصيات الواردة بين قوسين في النص : أحمد بن بلة - شارل ديغول - ميخائيل غورباتشوف
- (3) أكمل جدول الاحداث الآتي :

التاريخ	الحدث
22 سبتمبر 1947	
	احتطاف الوفد الخارجي "القرصنة الجوية"
18-24 أبريل 1955	

الجزء الثاني : (04 نقاط):

"إن فكرة النظام العالمي الجديد لم تتضح ولم تتحدد معالمها بشكل حاسم، غير أن السعي لترسيخ هذا النظام لا يأخذ في الاعتبار معانيه السامية ، لقد ظهر هذا الاتجاه الذي تترجمه الولايات المتحدة الأمريكية بعد أن أصبح العالم أحادي القطبية واتضح أكثر التصورات الأتانية لمسار العلاقات الدولية للرغومة. وأضحت منظمة الأمم المتحدة في يد الولايات المتحدة الأمريكية تمرر عبر شرعيتها القرارات التي تريدنا .."

المطلوب: اعتمادا على النص وما درست أكتب مقالا وفقك الله تناول فيه :

- 01- الدواعي الحقيقية للولايات المتحدة الأمريكية من النظام الدولي الجديد .
- 02- تداعيات النظام الدولي الجديد على دول الجنوب .

الجغرافيا

الجزء الأول (06 نقاط):

.. وبعد الاتحاد المحركي امتدادا طبيعيا ومنطقيا لأي منطقة تبادل تجاري حر يسعى انضمامها إلى دعم التجارة البينية وتعميق التعاون والتكامل الاقتصادي بينهم، إذ إن تحديد مستويات الرسوم المحركية المفروضة على البواردات من خارج دول الاتحاد يأخذ بعين الاعتبار التخصصات الانتاجية للاتحاد المحركي - مثال بالموقع الزمني لحدود الجزيرة بتاريخ 27 أوت 2015

1. اصطب مفاهيم للمصطلحات التي تحتها خط في النص .
2. إليك جدولاً يمثل مؤشر التنمية البشرية في بعض دول العالم عام 2017 :

الدولة	اليوم أ	ألمانيا	اليابان	الصين	الهند	الأرجنتين
مؤشر التنمية البشرية	0.92	0.92	0.90	0.73	0.62	0.82

تقرير التنمية البشرية 2018

- المطلوب : (1) علق على معطيات الجدول.
(2) على العالم المرفقة وقع الدول الواردة بالجدول.

الجزء الثاني (04 نقاط):

.. حققت دول الاتحاد الأوروبي تطورا في إنتاجها الزراعي والصناعي، وهذا ما يؤكد حجم إنتاجها في الكثير من المحاصيل الزراعية والمنتجات الصناعية، وفي نسب المساهمة في الانتاج الزراعي والصناعي العالمي

المطلوب:

- الاطلاقا من الفقرة واعتمادا على ما درست، اكتب مقالا جغرافيا تبرز فيه:
- (1) المقومات الطبيعية والبشرية للنشاط الزراعي والصناعي للاتحاد الأوروبي.
 - (2) مظاهر القوة الزراعية والصناعية للاتحاد الأوروبي

الإجابة النموذجية

التاريخ:

01- **شرح المصطلحات:**

- **مظاهرات ديسمبر 1960:** مظاهرات دعت لها جبهة التحرير الوطني وقام الشعب بمظاهرات في المدن الكبرى تلبية لنداء جبهة التحرير الوطني لإفئال محطات الامداج الاستعمارية وفكرة الجزائر فرنسية.
- **الثورة الجزائرية:** مجموع الجهود العسكرية والسياسية التي شهدتها الجزائر في الفترة الممتدة 1954-1962 بهدف تحقيق الاستقلال واسترجاع السيادة التي فقدتها الجزائر سنة 1830م.
- **سياسة الامداج:** سياسة استعمارية فرنسية لدمج المجتمع الجزائري بالمجتمع الفرنسي لطمس هويته وضرب الثورة الجزائرية فشلت بسبب تمسك الشعب الجزائري بمقوماته الدينية والوطنية.

سلسلة مقررات، فريق عملنا

02- التعريف بالمشخصات:

- ميخائيل غوربالشوف: أستاذ (الديبلوماسية والعلوم السياسية)
- مؤرخي باريس ومالطا مع بوش
- شارل ديغول: سياسي وعلم
- عاد إلى الحكم في فرنسا 1959
- مشاريعه الإغرائية والعسكرية.
- أحمد بن بلة: سياسي وأديب
- في المنظمة الخاصة، عضو اللجنة الخارجية بالقاهرة، تم اعتقاله في ما بين 1962 - 1965.

3- جدول الأحداث:

الحدث
الاعلان عن مبدأ جداول
اختطاف الوفد الخارجي "القرود"
مؤتمر باندونغ باندونيسيا

الجزء الثاني :

المقدمة : تخاية الحرب الباردة وثق

1- الدواعي الحقيقية للولايات المتحدة:

- زعامة اليوم أ العالم سياسيا وعلم
- تسخير المؤسسات الدولية لخدم
- الهيمنة على الثروات الطبيعية لل
- حل المشاكل الدولية وفقا لتصور
- تكوين جبهة موحدة تقودها الو

2- تداعيات النظام الدولي الجديد:

- تخلي الاتحاد السوفياتي عن دعم
- زيادة الهيمنة والضغط الأمريكي
- عدم الاستقرار السياسي وتعددية
- زيادة القوارق الاقتصادية بين العا
- التداخل في تسيير الشؤون الاقتص
- تراجع التسمية في العالم المتخلف و

السيرة الذاتية فريق مكافئ

02- التعريف بال شخصيات :

• **ميخائيل غورباتشوف** : آخر زعيم للاتحاد السوفياتي 1985-1991 عرف بمجلس الإصلاحات (البريستوريكا والglasnost) كانه وراء إنهاء صراع الحرب الباردة مع المعسكر الرأسمالي سنة 1989. حضر مؤتمر باريس ومالطا مع بوش.

• **شارل ديغول** : سياسي وعسكري فرنسي، قائد المقاومة ضد النازية، أسس حكومة فرنسا الحرة في لندن، عاد إلى الحكم في فرنسا 1 جوان 1958، أرغمته الثورة على التفاوض والاعتراف بالاستقلال بعد فشل مشاركته الإغترابية والعسكرية.

• **أحمد بن بلة** : سياسي وثوري ورجل دولة جزائري، تامل في صفوف حزب الشعب الجزائري، قيادي في المنظمة الحاصية، عضو اللجنة الثورية للوحدة والعمل وأحد مفكري الثورة التحريرية، من أعضاء الوفد الخارجي بالقاهرة، تم اعتقاله في عملية القرصنة الجوية الشهيرة 1956، أول رئيس للدولة الجزائرية المستقلة ما بين 1962 - 1965.

3- جدول الأحداث :

التاريخ	الحدث
22 سبتمبر 1947	الاعلان عن مبدأ جداتوف
22 أكتوبر 1956	اختطاف الوفد الخارجي "القرصنة الجوية"
18-24 أبريل 1955	مؤتمر ياندونغ بانكوك

الجزء الثاني :

المقدمة : نهاية الحرب الباردة وتفكك السوفييات والقراد الولايات المتحدة الأمريكية بالزعامة الدولية.

1- الدواعي الحقيقية للولايات المتحدة الأمريكية من النظام الدولي الجديد :

- زعامة ال.و.م. أ للعالم سياسيا وعسكريا واقتصاديا.
- تسخير المؤسسات الدولية لخدمة مصالحها.
- الهيمنة على الثروات الطبيعية للعالم المتخلف.
- حل المشاكل الدولية وفقا لتصوراتها كالفضية الفلسطينية.
- تكوين جبهة موحدة تقودها ال.و.م. أ ضد الدول المارقة.

2- تداعيات النظام الدولي الجديد على دول الجنوب :

- تخلي الاتحاد السوفياتي عن دعم دول الجنوب سياسيا.
- زيادة الهيمنة والضغط الأمريكي من خلال التدخلات العسكرية وانفرادها بإدارة مجلس الأمن.
- عدم الاستقرار السياسي وتعدية الصراعات الداخلية ومعالجة القضايا وفق المنظور الأمريكي.
- زيادة الفوارق الاقتصادية بين العالم المتقدم والعالم المتخلف.
- التدخل في تسيير الشؤون الاقتصادية من خلال المؤسسات الاقتصادية والمالية العالمية.
- تراجع التنمية في العالم المتخلف وتزايد حجم الديون.

في منطقة تبادل تجاري حر يسعى اعضاؤها إلى دعم بعضهم، إذ إن تحديد مستويات الرسوم الجمركية يعين الاعتبار التخصصات الإنتاجية.

تعود الجمركي مقال بلوفج الروسي بقيادة الخيرة سنة 27 لوت 2015

دول العالم عام 2017 :

الولايات المتحدة	الصين	الهند	الأرجنتين
0.82	0.73	0.62	

تقرير التنمية البشرية 2018

والصناعي، وهذا ما يؤكد حجم إنتاجها في المساهمة في الانتاج الزراعي والصناعي العالمي

جغرافيا تتركز فيه :
اتحاد الأوروبي.

الوطني وقام الشعب بمظاهرات في المدن ج الاستعمارية وفكرة الجزائر فرنسية .
الجزائر في الفترة الممتدة 1954-1962
1830 م.

الذي بالمتجمع الفرنسي لطمس هويته
أته الدينية والوطنية .

الخطوة : خطوة النظام الدولي الجديد والأحادية القطبية على العالم الثالث استدعى ضرورة البحث وتكيف الجهود لمواجهة الخطر الأمريكي

الجغرافيا :

الجزء الأول :

أشرح المصطلحات :

• التبادل التجاري الخمر : مصطلح يطلق على تفاعل أو الدول التي تتقل السلع والبضائع والخدمات والأشخاص دون قيود حركية أي معفاة من الضرائب الجمركية مثل دول الاتحاد الأوروبي .
• التجارة البينية : التبادل التجاري بين مجموعة من الدول متحدة فيما بينها مثل التبادل التجاري لدول الاتحاد الأوروبي فيما بينها دون اللجوء للإستيراد من دول خارج الاتحاد الأوروبي .
• الرسوم الجمركية : الضرائب التي تفرض على تنقل السلع أو البضائع أو الأشخاص أو الأموال والخدمات من دولة أو منطقة لأخرى .

2- التعليق على معطيات الجدول :

• الوثيقة التي بين أيدينا عبارة عن جدول احصائي يمثل مؤشر التنمية البشرية في بعض دول العالم عام 2017 .
• مصدره تقرير التنمية البشرية 2018 .
• يلاحظ تباين في معدلات التنمية البشرية .
• ارتفاع معدل التنمية البشرية في الولايات المتحدة الأمريكية وألمانيا .
• انخفاض معدل التنمية البشرية في الهند .
• ارتفاع معدل التنمية البشرية في الدول المتقدمة (الولايات المتحدة الأمريكية، ألمانيا، اليابان) وانخفاض معدل التنمية البشرية في الدول المتخلفة (الهند، الصين، الأرجنتين) .

3- التوقيع على الخريطة : في جزء الخرائط

الجزء الثاني :

المقدمة : الامكانيات الطبيعية والبشرية التي يخر بها الاتحاد الأوروبي واستغلالها العقلاني جعل من الاتحاد الأوروبي قوة زراعية وصناعية عالمية .
العرض :

1- المقومات الطبيعية والبشرية للنشاط الزراعي والصناعي للاتحاد الأوروبي :

- ساعة المساحة 4.3 م كم² والامتداد الواسع من الشمال للجنوب ومن الشرق للغرب .
- لتوقع الإستراتيجي لجزء دول الاتحاد .
- ساعة لمساحة الصالحة للزراعة 2.6 م كم² .
- تعدد وملائمة الأقاليم المناخية للنشاط الزراعي .
- غناها بالثروات الطبيعية وطول الشريط الساحلي .

مميزات المنتجات القوية على الخبز

- وفرة الشبكة المهدووغرافية مثل : الأعمار الهامة .
- البشرية :
- قوة بشرية (جغرافية) قويت ب جوانب .
- توفر اليد العاملة الماهرة للقطعة في مختلف .
- المردودية العالية للعمال .

2- مظاهر القوة الزراعية والصناعية للإتحاد

- أ- الزراعة :
- المرتبة الثانية عالميا في تصدير الحبوب .
- المرتبة الأولى في تصدير اللحوم - الحليب .
- ثاني قوة مصدرة للمواد الغذائية بعد الولايات المتحدة .

ب- الصناعة :

- الاتحاد الأوروبي من الأقطاب العالمية الثلاث .
- مساهمة الصناعة ب 25 % من الدخل الحضري .
- ثاني أكبر منتج للسيارات في العالم بعد الصين .
- أكبر منتج للفولاذ والكيماويات ووسائل النقل .
- الحاققة : الاتحاد الأوروبي قوة زراعية صناعية
- للنشطة الأمريكية وهذا نتيجة تكامل دوله وات

02- الموض

الجزء الأول: (06 نقاط)

"...وقد أكسب الاتحاد السوفياتي مركزا متميزا العظمى، فشارك ستالين، على قدم المساواة مع وخصص للاتحاد السوفياتي مقعد دائم في مجلس البشرية والمادية التي لحقت بالاتحاد السوفياتي مع بالدول الغربية الرأسمالية المتحالفة .."

المطلوب :

اعتمادا على ...
سقط ...
للحبات التي تحتها خط ...

للمناطق أو الدول التي تنقل السلع والبضائع والخدمات
بواسطة البحرية مثل دول الاتحاد الأوروبي .
من الدول متحدة فيما بينها مثل التبادل التجاري لتول
من دول خارج الاتحاد الأوروبي .
على تنقل السلع أو البضائع أو الأشخاص أو الأموال

التي يمثل مؤشر التنمية البشرية في بعض دول العالم عام
الأمريكية وألمانيا.

الولايات المتحدة الأمريكية، ألمانيا، اليابان
(الهند، الصين، الأرجنتين) .

الاتحاد الأوروبي واستغلالها العقلاني جعل من الاتحاد

الصناعي للاتحاد الأوروبي :

لشمال للجنوب ومن الشرق للمغرب.

موفرة الشبكة الجيوسياسية مثل: الأماز (السن - الرأس - الدانوب) وإطلالته على المسطحات المائية
الهامة.

- البشرية (جغرافية) قدرت ب حوالي 500 مليون نسمة .
- توفر اليد العاملة الماهرة للمهنة في مختلف القطاعات .
- المردودية العالية للعمل .

2- مظاهر القوة الزراعية والصناعية للاتحاد الأوروبي :

- لزراعة الثانية عالمياً في تصدير الحبوب .
- المرتبة الأولى في تصدير اللحوم - الحليب - البطاطا .
- ثاني قوة مصدرة للمواد الغذائية بعد الولايات المتحدة الأمريكية .

- ب- الصناعة :
- الاتحاد الأوروبي من الأقطاب العلية الثلاثة .
- مساهمة الصناعة ب 25 % من الدخل الخام للاتحاد الأوروبي .
- ثاني أكبر منتج للسيارات في العالم بعد الصين .
- أكبر منتج للفولاذ والكيماويات ووسائل النقل .

الحقبة - الاتحاد الأوروبي قوة زراعية صناعية عالمية يتنافس باقي القوى الاقتصادية الكبرى مثل الولايات
للتحدة الأمريكية وهذا نتيجة تكتل دوله واستغلالها الأمثل للإمكانيات الطبيعية والبشرية .

02- الموضوع المقترح الثاني

التاريخ ::

الجزء الأول: (06 نقاط)

• وقد اكتسب الاتحاد السوفياتي مركزاً متميزاً في السياسة الدولية سمح له بأن يحتل مكاناً بين القوى
العظمى، فشارك ستالين، على قدم المساواة مع هاري ترومان وتششريل في مؤتمرات يالطا وبوتسدام ،
وخصص للاتحاد السوفياتي مقعد دائم في مجلس الأمن في إطار الأمم المتحدة ، وعلى رغم أن التضحيات
البشرية والمادية التي لحقت بالاتحاد السوفياتي خلال الحرب العالمية الثانية بالغة الضخامة بالمقارنة بما لحق
بالدول الغربية الرأسمالية المتحالفة .. "

د- حازم الببلاوي - النظام الاقتصادي الدولي المعاصر ص 22-23

المطلوب :

اعتماداً على السند وما درست أجب وفقك الله على :
(ا) اضبط مفاهيم المصطلحات التي تحتها خط في النص .

(2) عرف الشخصيات الآتية : جوزيف ستالين - هاري ترومان - ونستون تشرشل
 (3) أكمل جدول الأحداث الآتي :

التاريخ	الحدث
5-9 سبتمبر 1973	تأسيس حلف وارسو
28 جوان 1991	

الجزء الثاني (04 نقاط) :

حققت حبة وحيش التحرير الوطني إنجازات وتجاحات هائلة على الصعيدين الداخلي والخارجي خلال للرحلة الأولى للثورة 1954-1956 فقرر قادة الثورة عقد مؤتمر لتقييم الأعمال المنجزة والخروج بتصورات لتحديد المهام المقبلة ..

المطلوب : اعتمادا على النص وما درست أكتب مقالا وفقك الله تناول فيه:
 (1) دواعي عقد قادة الثورة مؤتمر الصومام 20 أوت 1956 .
 (2) القرارات العسكرية والسياسية المتبقة عن للمؤتمر

الجغرافيا

الجزء الأول (06 نقاط) :

" يقوم الاتحاد الأوروبي بتحديث أولوياته التجارية نحو إحداث تغيير جذري في اقتصاده لتحقيق أهداف يبية ، مع تحقيق التكامل الاقتصادي ومعالجة التفاوتات الاقتصادية الناجمة عن العولمة .. ونظام متعدد الأطراف .. يستند على ثلاث ركائز أولها تعزيز مكانة عملته اليورو في الاقتصاد الدولي .. "

1. اضبط مفاهيم المصطلحات التي تحتها خط في النص.
 2. إلبك جدول يمثل مؤشرات إنتاج بعض الصناعات بالولايات المتحدة الأمريكية سنة 2017.

الاننتاج	الحصة من الاننتاج العالمي %	المرتبة العالمية
طائرات	71.5	1
أقمار صناعية	45.5	1
مطاط اصطناعي	16.3	2
سيارات	11.5	2
نقط مكرر	20	1

المصدر : ملامح العالم الاقتصادية 2018

المطلوب : أ- مثل نسب الجدول بواسطة أعمدة بيانية بمقياس : 1 سم = 10 %
 1 سم = عمود

مناقشة مقارنات فريق عكاشة

الجزء الثاني (04 نقاط) :

يعتبر القمح من أهم الحبوب الغذائية وانت عبر شركاتها العالمية (عمالقة الحبوب) وعلا بصورة دائمة إذا ما أصبح تحقيق الأمن الغذائي المطلوب : انطلاقا من الفقرة وانضمدا على (1) مظاهر هيمنة العالم المتقدم على تجارة (2) أثر هذه الهيمنة على دول العالم الثالث

1- بشرح المصطلحات:

• مؤتمر يالطا: مؤتمر عقد بعد نهاية الحرب قادة دول الحلفاء لتقرير مصير ألمانيا بعد ا • مجلس الأمن: الجهاز التنفيذي في هيئة لمدة سنتين.

• الدول العربية الرأسمالية : الدول التي المتحدة الأمريكية مثل كندا ودول أوروبا

2- التعريف بالشخصيات:

• جوزيف ستالين: زعيم سوفياتي 1924 حكمه بالقرديية والتشدد في نظر الغرب، الشرقية من النازية.

• هاري ترومان: رئيس الولايات المتحدة ا صاحب قرار تفجير القنبلة الذرية ضد ترومان 1947 تميز بتعصبه وتشدهه للمعسكة • ونستون تشرشل: رئيس وزراء بريطانيا له أعوام ألمانيا النازية خلال الحرب ع 2، وهو إلى معسكرين.

3- جدول الأحداث:

الحدث
مؤتمر الدورة الرابعة لحركة عدم الانحياز بباريس
تأسيس حلف وارسو
حل منظمة الكوميكون

تاريخه
9-5 سبتمبر 1973
28 جوان 1991

وتجاربها هائلة على الصعيدين الداخلي والخارجي خلال هذه الثورة عقد مؤتمر لتقييم الأعمال المنجزة والخروج بتصورات

كتب مقالا وفكك الله تناول فيه:
 1956
 مؤتمر

الجغرافيا

تاريخية نحو إحداث تغيير جذري في اقتصاده لتحقيق أهداف التفاوتات الاقتصادية الناجمة عن العولمة .. ونظام متعدد مكانة عمله البورو في الاقتصاد الدولي ..
 مقال جريدة العرب الاقتصادية الدولية- الاخير 15 فبري 2021

في النص

تفاعلات بالولايات المتحدة الأمريكية سنة 2017:

الانتاج العالمي %	المرتبة العالمية
1	1
1	1
2	2
2	2
1	1

المصدر: ملامح العالم الاقتصادية 2018

بيان بمقياس: 1 سم = 10%
 1 سم = عمود

الجزء الثاني (04 فاصل) :

يحتل القمح من أهم الحبوب الغذائية ويمتلك هذا السلاح الأخضر حلق أربابا طائفة للدول المتقدمة عبر شركاتها العالمية (عائلة الحبوب) وعلى حساب دول العالم الثالث الفقرة التي هي عرضة للضعف بصورة دائمة إذا ما أصبح تحقيق الأمن الغذائي فيها أمرا مستويا ..
المطلوب: اطلعا من الفقرة واعتمادا على ما درست، اكتب مقالا جغرافيا تبرز فيه:
 (1) مظاهر هيمنة العالم المتقدم على تجارة القمح.
 (2) أثر هذه الهيمنة على دول العالم الثالث

الإجابة النموذجية

التاريخ:

1- بتدريج المصطلحات:

• مؤتمر يالطا: مؤتمر عقد بعد نهاية الحرب العالمية الثانية بعد القضاء على الأنظمة الديكتاتورية، جمع قادة دول الحلفاء لتقرير مصير ألمانيا بعد الحرب العالمية الثانية.
 • مجلس الأمن: الجهاز التنفيذي في هيئة الأمم المتحدة يتكون من 15 عضوا، 5 داليمون و10 بتحتون لمدة سنتين.
 • الدول الغربية الرأسمالية: الدول التي تبنت النظام الرأسمالي في إطار الحرب الباردة برعاية الولايات المتحدة الأمريكية مثل كندا ودول أوروبا الغربية والشمالية.

2- التعريف بالشخصيات:

• جوزيف ستالين: زعيم سوفياتي 1924-1953 جعل منه القوة الثانية عالميا بعد ح ع 2، تميزت فترة حكمه بالثورة والتشدد في نظر الغرب، واجه المخططات الأمريكية بمخططات مضادة، تخرز أوروبا الشرقية من النازية.
 • هاري ترومان: رئيس الولايات المتحدة الأمريكية 1945-1953 ديمقراطي، رمز من رموز الحرب الباردة، صاحب قرار تقييد القنبلة الذرية ضد اليابان ويعتبر من مؤيدي الحركة الصهيونية، صاحب مبدأ ترومان 1947 تميز بتعبه وتشدده للمعسكر الرأسمالي.
 • ونستون تشرشل: رئيس وزراء بريطانيا لفترة 1940-1945 ثم 1951-1955، ساهم في صعود بلاده أمام ألمانيا النازية خلال الحرب ع 2، وهو صاحب مصطلح الستار الحديدي للدلالة على انقسام أوروبا إلى معسكرين.

3- جدول الأحداث:

التاريخ	الحدث
9-5 سبتمبر 1973	مؤتمر الدورة الرابعة لحركة عدم الانحياز بالجزائر
14 ماي 1955	تأسيس حلف وارسو
28 جوان 1991	حل منظمة الكوميكون

الجزء الثاني :

المقدمة : مؤتمر الصومام 20 أوت 1956 بين الدوافع الحقيقية التي دفعت قادة الثورة لعقد المؤتمر وقراراته السياسية والعسكرية .

العرض :

1- دواعي عقد قادة الثورة لمؤتمر الصومام :

- تقييم للمرحلة الأولى من الثورة الجزائرية 1954-1956 (النجاحات والإخفاقات).
- إقناع المبرزين من التيارات الفكرية والسياسية للإلتحاق بالثورة الجزائرية.
- تنظيم الثورة الجزائرية باستحداث مؤسسات تشريعية وتنفيذية للثورة الجزائرية.
- ضمان استمرارية الثورة الجزائرية والعمل على شموليتها.
- هيكلية وتنظيم جيش التحرير الوطني والبحث عن مصادر لتمويل الثورة بالسلح.

2- القرارات العسكرية والسياسية المنبثقة عن المؤتمر :

أ- العسكرية :

- تقسيم الوطن إلى 6 ولايات عسكرية كل ولاية مقسمة إلى مناطق بدل 5 مناطق عسكرية.
- تشكيل قيادة عامة مكونة من قائد سياسي وآخر عسكري.
- تنظيم جيش التحرير الوطني وتحديد الرتب والرواتب وتصنيف الجيش إلى ثلاث فئات : (المسجلون - الفدائيون - المجاهدون).

ب- السياسية :

- صدور ميثاق الصومام (الوثيقة الثانية للثورة) تحوي الآفاق العامة للثورة الجزائرية.
- إقرار مبدأ القيادة الجماعية ونيل الرعاية الفردية.
- إقرار مبدأ أولوية الداخل على الخارج (أولوية القيادة داخل الوطن).
- العمل على تدويل القضية الجزائرية ووضع شروط التفاوض في حال رغبة فرنسا في التفاوض.
- تأسيس مؤسسات للثورة الجزائرية : (المجلس الوطني للثورة الجزائرية - لجنة التنسيق والتنفيذ) .

الخاتمة : مؤتمر الصومام 20 أوت 1956 محطة بارزة في تاريخ الثورة الجزائرية .

الجغرافيا :

الجزء الأول :

- اشرح المصطلحات :

- **الاتحاد الأوروبي** : تكتل إقتصادي سياسي ثقافي اجتماعي، ظهر بموجب معاهدة روما 1957 ويبلغ تعداد دوله حاليا 27 دولة بعد انسحاب بريطانيا، يهدف لتحقيق التعاون والتكامل بين دوله.
- **العولمة** : تعني إزالة الحواجز والمسافات بين الشعوب وبين الأوطان والثقافات، ويعرفها البعض بأنها تحويل العالم إلى قرية كونية، كما تعني فرض الهيمنة السياسية والاقتصادية والثقافية والاجتماعية من طرف و.م.أ بتعميم النمط الأمريكي على العالم.

في دفعت قادة الثورة لعقد المؤتمر وقراراته

والإخفاقات) .
الجزائرية .
ثورة الجزائرية .

الثورة بالسلاح .

في بدل 5 مناطق عسكرية .

الجيش إلى ثلاث فئات: (المسيئون -

من الثورة الجزائرية .

الجن) .

حال رغبة فرنسا في التفاوض .

ثوية - لجنة التنسيق والتنفيذ) .

الثورة الجزائرية .


ظهر بموجب معاهدة روما 1957 وبلغ

تقيق التعاون والتكامل بين دوله .

لذان والثقافات، ويعرفها البعض بأنها تحويل

دية والثقافية والاجتماعية من طرف و.م.أ

عملته اليورو: عملة موحدة لمجموعة من الدول الأوروبية تضم 20 دولة أوروبية من دول الاتحاد ،
ويصدر من العملات الأكثر تداولاً في المبادلات التجارية العالمية بعد الدولار ، ومصدر قوة دول الاتحاد .
2- التمثيل البياني: إنتاج بعض الصناعات بالولايات المتحدة الأمريكية سنة 2017:



الجزء الثاني :

المقدمة : تجارة القمح بين هيمنة العالم المتقدم وانعكاسها السلبية على دول الجنوب للتخلف .
العرض:

1- مظاهر هيمنة العالم المتقدم على تجارة القمح :

- تحديد اسعار المواد الغذائية مثل القمح في بورصات العالم المتقدم .
- هيمنة العالم المتقدم على نسبة كبيرة من الانتاج العالمي للقمح .
- هيمنة العالم المتقدم على صادرات القمح .
- هيمنة الشركات الاحتكارية التابعة للعالم المتقدم على تجارة القمح .

2- أثر هذه الهيمنة على دول العالم الثالث :

- فقدان الدول المستوردة لسيادتها وحرية اتخاذ القرارات السياسية والاقتصادية .
 - عدم الاستقرار السياسي والاجتماعي (الجوع وسوء التغذية) .
 - التبعة الاقتصادية وتعاطم الديون .
 - تعرضها للمجاعات (بنغلادش مثلا) .
 - استعمال الدول المتقدمة المنتجة للقمح كسلاح للضغط على دول الجنوب .
- الخاتمة : على دول العالم المتخلف الاهتمام بالجانب الزراعي لتحقيق اكتفاءها الغذائي لتقليص التبعة للعالم المتقدم .

03. الموضوع المقترح الثالث

التاريخ:

الجزء الأول: (06 نقاط)

ذكر المجاهد سي محمد عقور الذي عايش الاضراب " .. أن اضراب الثمانية أيام كان تحسبا لعلها تسود مؤتمر الصومام والتي أكدت على ضرورة تفعيل الدعم الشعبي وتوطيقه لمسائلة الثورة، وأن عرس الاضراب حينها أكد القوة التنظيمية التي تحلت بها قيادة الثورة حينها خاصة لجنة التنسيق والتنفيذ، والتي انتهت بدفع الجمعية العامة للأمم للتحدة إلى إدراج القضية الجزائرية في إطار حق الشعوب في تقرير مصيرها .."

الاضراب الثمانية ايام - الادامة الجزائرية - بتاريخ 27 جويلي 1957

المطلوب:

- اعتمادا على السند وما درست أحب وفقك الله على:
- اصبط مفاهيم للمصطلحات التي تحتها خط في النص.
- عرف الشخصيات الآتية: فرحات عباس - فيدال كامسترو - جوزيف بروز تيتو
- أكمل جدول الأحداث الآتي:

التاريخ	الحدث
05 جانفي 1957	مؤتمر مالطا بين غورباتشوف وجورج بوش
08 فيفري 1958	

الجزء الثاني: (04 نقاط):

يقول أستاذ العلاقات الدولية والتاريخ في جامعة بوسطن، أندرو باسيفيتش " إذا كان الهدف من مؤتمر مالطا 1945 هو وضع أسس لنظام سلمي حقيقي لمرحلة ما بعد الحرب العالمية الثانية، فإنه فشل في ذلك وكان أحد الأسباب الرئيسية للصراع بين القوتين (الولايات المتحدة الأمريكية والسوفييات) بعد الحرب ."

المطلوب:

- اعتمادا على النص وما درست أكتب مقالا وفقك الله تناول فيه:
- أسباب الصراع بين الولايات المتحدة الأمريكية والسوفييات بعد مؤتمر مالطا .
- أثر هذا الصراع على العالم الثالث .

الجزء الأول: (06 نقاط):

"... تعتبر التجارة الخارجية في الاتحاد الأوروبي من العوامل الاقتصادية، ومكانتها التجارية العلمية لأنها تفتقر في المواقف الإدارية... ومن جهة أخرى فإن أسواقها المفتحة لا تستو الاقتصاديين ولهذا نجدتها اليوم أمام مشكل نقص أس كعجز ميزانها التجاري إذ بلغت قيمة المعجز حوالي 3

المطلوب:

(1) اصبط مفاهيم المصطلحات التي تحتها خط في النص

الدولة	الصين	الهند	الولايات المتحدة
الكمية	125.6	94.3	1.6

(2) مثل معطيات الجدول بأعمدة بيانية بمقياس رسم

(3) وقع الدول الواردة بالجدول .

الجزء الثاني (04 نقاط):

يُعرف العالم تزايد هائل في المبادلات والسلع والخدمات

المطلوب:

- انطلاقا من الفقرة واعتمادا على ما درست، اكتب:
- خصائص أسواق المواد الاستراتيجية (العقدية)؛
- انعكاسات واقع المبادلات على العالم المتخلف

الإجابة:

الجزء الأول:

- اشرح المصطلحات:

- اضراب الثمانية أيام: اضراب نظمه التجار الأمريكيين للضغط على الاستعمار الفرنسي للدخول في مفاوضات
- لجنة التنسيق والتنفيذ: المؤسسة التنفيذية للثورة
- أجهزة الثورة: تشكلت بمقتضى قرارات مؤتمر الصومام

الجغرافيا

الجزء الأول (94 نقاط) :
 - من الصعب الخارجية في الاتحاد الأوروبي من العوامل الرئيسية التي تساعدها على المحافظة على نمو
 اقتصادها، ومكانتها التجارية العالمية لأنها فقيرة في المواد الأولية الطاقوية، والمعدنية، وبعض المواد الزراعية
 كالقمح. ومن جهة أخرى فإن أسواقها المحلية لا تسوعب كل إنتاجها رغم سياسة التكامل والاندماج
 اللاتسيانين ولهذا نجدتها اليوم أمام مشكل نقص أسواقها التجارية الخارجية، وبذلك ظهرت مشاكل
 كعدم ميزانها التجاري إذ بلغت قيمة العجز حوالي 178 مليار فرنك فرنسي ..

أ) حسب مقاييم المصطلحات التي تحتها خط في النص .

الدولة	الصين	الهند	الو.م.ا	روسيا	فرنسا	أستراليا
الكثمة	125.6	94.3	61.6	37.8	40.4	30

ب) ملأ معطيات الجدول بأعمدة بيانية بمقياس رسم : 1 سم = 10 م/طن
 1 سم = 1 دولة

- ج) وقع الدول الواردة بالجدول .
- المزم الثاني (94 نقاط) :
 عرف العلم زبدا هائلا في المبادلات والسلع والخدمات وتنقلا واسعا لرؤوس الأموال ..
 المطلوب:
 انطلاقا من الفقرة واعتمادا على ما درست، اكتب مقالا جغرافيا تبرز فيه :
 1) خصائص أسواق المواد الاستراتيجية (الغذائية ، الطاقة) .
 2) انعكاسات واقع المبادلات على العالم المتخلف .

الإجابة النموذجية

التاريخ :

الجزء الأول :

- اشرح المصطلحات :

اضراب الثمانية أيام : اضراب نظمه التجار الجزائريون بدعوة من جبهة التحرير الوطني عام 1957
 لضغط على الاستعمار الفرنسي للدخول في مفاوضات جديدة مع الجبهة .
 لجنة التسيق والتنفيذ : المؤسسة التنفيذية للثورة تسهر على تنفيذ قرارات المجلس الوطني للثورة ومراقبة
 اجتهة الثورة، تشكلت بمقتضى قرارات مؤتمر الصومام .

التاريخ جاذبات

موضوع المقترح الثالث

التاريخ :

من الاضراب " .. أن اضراب الثمانية أيام كان تحسبا فعليا
 لضرورة تفعيل الدعم الشعبي وتوطئه مساندة الثورة، وأن نجاح
 ثورتها قيادة الثورة حينها خاصة لجنة التسيق والتنفيذ، والتي
 أدت إلى إدراج القضية الجزائرية في إطار حق الشعوب في تقرير
 مصيرها

اضراب الثمانية أيام - الإجابة النموذجية - تاريخ 27 جانفي 2021

ك الله على :

خط في النص .

لس - فيدال كاسترو - جوزيف بروز تيتو

تاريخه	
05 جانفي 1957	
08 فيفري 1958	تاريخ بوش

جامعة بوسطن، أندرو باسيفيتش " إذا كان الهدف من مؤتمر
 في حقيقي لمرحلة ما بعد الحرب العالمية الثانية ، فإنه فشل في
 بين القوتين (الولايات المتحدة الأمريكية والسوفييات) بعد

الالا وفقك الله تناول فيه :

أمريكية والسوفييات بعد مؤتمر بالطا .

• تقرير المصير: أحد مبادئ هيئة الأمم المتحدة يدعو إلى حرية الشعوب الضعيفة في اختيار مصيرها نفسها، ويعتبر أحد المطلب الأساسية للشعب الجزائري.

2- التعريف بالشخصيات:

- **فرحات عباس:** 1899-1986 أول رئيس للحكومة الجزائرية المؤقتة الشهير ببيان فيفري 1943، تولى التيار الادمجي بعد الحرب العالمية 1، تغير مساره بعد أحداث 8 ماي، انضم للثورة سنة 1956، تولى اللجنة التأسيسية للجمهورية الجزائرية بسبتمبر 1962
- **فيدال كاسترو:** زعيم ثوري كوبي أطاح بنظام باتستا العميل، أصبح رئيسا لكوبا سنة 1959، وازمة الهيمنة الأمريكية بكونها وشهدت فترة أزمة الصواريخ 1963 تعلقى عن السلطة لأسباب صحية.
- **جوزيف بروز تيتو:** ثوري عسكري ورجل دولة يوغسلافي، قائد المقاومة ضد النازية، أسقطت يوغسلافيا في فترة من الأتخاذ السوفييتي، رئيس يوغسلافيا 1944-1963، من مؤسسي حركة عدم الإنحياز 1961.

3- جدول الأحداث:

التاريخ	الأحداث
05 جانفي 1957	الإعلان عن مشروع الزخاور
04-03 ديسمبر 1989	مؤتمر مالطا بين غورباتشوف وجورج بوش
08 فيفري 1958	أحداث ساقية سيدي يوسف

الجزء الثاني:

المقدمة: نهاية الحرب العالمية الثانية ونبداة الخلاف الأيديولوجي بين القوتين العرض:

1- أسباب الصراع بين الولايات المتحدة الأمريكية والسوفييات بعد مؤتمر يالطا:

- زوال مبررات التحالف بين النظامين الرأسمالي والإشتراكي بعد الحرب العالمية 2
- المسابق نحو التسليح واكتشاف الأسلحة النووية.
- الخلاف الأيديولوجي بين المنبشرين الرأسمالي والإشتراكي.
- القيادة المشددة للقوتين؛ الولايات والتوفييات (هاري ترومان - ستالين).
- الصراع حول مناطق النفوذ واختلاف وتصادم المصالح بين القوتين.
- دعم السوفييات للأنظمة الشيوعية وحمية الجيش الأحمر السوفيياتي على أوروبا الشرقية.

2- أثر هذا الصراع على العالم الثالث:

- فتح العالم الثالث إلى مسرح لنور التوتّر (التونس، كوريا، كوبا).
- الحسائر المادية والبشرية.
- تجزئة الوحدات السياسية للدول (تقسيم كوريا والفيتنام).
- الهيمنة العسكرية والاقتصادية (الأحلاف وإنشاء القواعد العسكرية على أراضيها).

- تحول الصراع من (شرق- غرب) إلى (شمال- جنوب) بعد الحرب الباردة.
- إستراتيج ترواته الطبيعية.
- بحاققة: عطفوة الصراع بعد الحرب العالمية الثانية على العالم الثالث.


الجزء الأول:

1- شرح المصطلحات:

- **النمو الإقتصادي:** هو التقدم والتطور الذي يشهده مختلف القطاعات الأقتصادية ويتضاعف مع زيادة الإنتاج وتوسع الإستثمارات، وتنعكس نتاجه بازدياد الدخل المعيشة.
- **المواد الأولية الطاقوية:** المواد الحيوية الأولية للصناعات مثل البترول، الغاز تساهم في الإنتاج الصناعي وتطور البلد.
- **العجز في الميزان التجاري:** مصطلح للتعبير عن العجز الذي يسجله الميزان التجاري أي أن وارداته أكثر من صادراته.

2- التمثيل البياني:

الدول الأولى الأكثر إنتاجا للقمح في العالم عام 2020



3- التوقيع على الخريطة: في جزء الخرائط

الجزء الثاني:

المقدمة: تجارة المواد الإستراتيجية الغذائية والطاقوية بين هيئة العالم المتقدم والمتخلف.

تطبيقات جغرافية - مكثفة

- تحول الصراع من (شرق - غرب) إلى (شمال - جنوب) بعد الحرب الباردة.
- استنزاف ثرواته الطبيعية.
- حطوة الصراع بعد الحرب العالمية الثانية على العالم الثالث.

الجغرافيا:

الجزء الأول:

1- مفهوم المصطلحات:

- **النمو الاقتصادي:** هو التقدم والتطوير الذي تشهده مختلف القطاعات الاقتصادية لدولة ما، بزيادة وتضاعف مع زيادة الإنتاج وتوسع الاستثمارات، وتنعكس لتأججه ارتفاع الدخل القومي وتحسين مستوى المعيشة.
- **المواد الأولية الطاقوية:** المواد الحيوية الأولية للصناعات مثل البترول، الغاز الطبيعي والمعادن والتي تساهم في الإنتاج الصناعي وتطوير البلد.
- **العجز في الميزان التجاري:** مصطلح للتعبير عن العجز الذي يسجله الميزان التجاري للاتحاد الأوروبي أي أن وارداته أكثر من صادراته.

2- التمثيل البياني:

الدول الأولى الأكثر إنتاجا للقمح في العالم عام 2020: (مليون طن)



3- التوقيع على الخريطة: في جزء الخرائط

الجزء الثاني:

المقدمة: تجارة المواد الاستراتيجية الغذائية والطاقوية بين هيمنة العالم المتقدم والانعكاسات السلبية للعالم النخلف.

التاريخ والتراث

مبادئ هيئة الأمم المتحدة يدعو إلى حرية الشعوب الطبيعية في اختيار مصيرها.

1- 1986 أول رئيس للحكومة الجزائرية المؤقتة المشهور سياد فيفري 1943، تزوج من العالمة أ. تاجر مساره بعد أحداث 8 ماي، انضم للشورة سنة 1956، رئيس لرابطة الجزائرية بتمبر 1962.

وزي كوي أطاح عظام بالبيتا المعتدل، أصبح رئيسا لكوبا سنة 1959 واجتهدت فترة أزمة الصواريخ 1963 تحلى عن السلطة لأسباب صحية. زلي عسكري ورجل دولة يوغسلافي، قائد المقاومة ضد النازية، استغللت للتحالف السوفييتي، رئيس يوغسلافيا 1944-1963، من مؤسسي حركة عدم

تاريخه	تاريخه
05 جانفي 1957	
04-03 ديسمبر 1989	
08 فيفري 1958	

الثانية وبداية الخلاف الأيديولوجي بين القوتين.

المتحدة الأمريكية والسوفييات بعد مؤتمر يالطا:

تطامن الرأسمالي والإشتراكي بعد الحرب العالمية 2، الأسلحة النووية، للذهبين الرأسمالي والإشتراكي، بات والسوفييات (هاري ترومان - ستالين)، تتلاف وتصادم المصالح بين القوتين، قوة وهيمنة الجيش الأحمر السوفيياتي على أوروبا الشرقية.

بالتوتر (السويس، كوريا، كوبا).

(تقسيم كوريا والفييتام).

تتلاف وإنشاء القواعد العسكرية على أراضيها.

العرض:

1- خصائص أسواق المواد الاستراتيجية (الغذائية، الطاقة):

- هيمنة العالم المتقدم على تجارة المواد الاستراتيجية (الناخ، تصدير، أسعار)
- تميل دور العالم للتخلف في المبادلات التجارية
- تخصص العالم للتقدم في تصدير الغذاء والمواد الصناعية
- تخصص العالم للتخلف في تصدير مواد الطاقة
- ارتفاع فاتورة العالم للتخلف في استيراد المواد الغذائية

2- انعكاسات واقع المبادلات على العالم المتخلف:

- تبعية العالم للتخلف للعالم المتقدم مالياً وتجارياً وصناعياً
- عجز ميزان التجاري وميزان المدفوعات لدول العالم للتخلف
- ارتفاع وتفاقم ظاهرة التبعية في العالم للتخلف
- استنزاف ثروات العالم للتخلف
- تعرض دول العالم المتخلف للأزمات المالية والاقتصادية والسياسية
- الحاجة: لتفعيل دور العالم للتخلف في المبادلات التجارية ضرورة تكثيف التعاون بين دوله وتفعيل دور التكتلات في العالم المتخلف

04- الموضوع المقترح الرابع

التاريخ:

الجزء الأول: (06 نقاط)

"هو النظام الدولي الذي انتقل الى حيز الواقع في أعقاب الحرب العالمية الثانية، وقد دفع الى ظهور هذا النظام ثلاثة عوامل رئيسية هي بالتحديد: التقسيم الثنائي (مكانيات القوى الدولية، وتناغم الصراعات الأيديولوجية، وحياة القوتين العظميين لسياسة ساحقة من قدرات الحرب النووية في الصمم الدولي. وعموماً يمكن القول بأن نظام الثانية القطبية قد استغرق الفترة ما بين انتهاء الحرب وحتى نهاية الخمسينات.."

د- اسماعيل صوي ملقة- الاستراتيجية والسياسة الدولية من 116

المطلوب:

- (1) اضبط مفاهيم المصطلحات التي تحتها خط في النص
- (2) عرف الشخصيات الأتية: رومانلد، يعن -أحمد سوكرانو- محمد خيرضر.
- (3) أكمل جدول الأحداث الآتي:

الحدث

مظاهرات الشعب الجزائري ببلد الخريف

الجزء الثاني: (04 نقاط):

انتقلت الثورة الجزائرية في ظروف داخلية وخارجية معقدة، وهو ودبلوماسية فاعلة لضمان نجاح الثورة.

المطلوب: اعتمداً على النص وما درست أكتب مقالا وفكك الظروف الداخلية والخارجية لإندلاع الثورة الجزائرية

- (1) الظروف الداخلية والخارجية لإندلاع الثورة الجزائرية
- (2) استراتيجية الثورة في المجال الدبلوماسي

الجغرافيا

الجزء الأول (06 نقاط):

"وعلى نحو مماثل نجد أن اقتصاديات العالم الثالث تعتمد على التجارة مع البلدان الصناعية لتستوعب أكثر من 70 في المائة من مصادرها الرئيسي للمعاملات الأجنبية، وقد كانت سياسات حافزا هاما لنمو هذه الصادرات ففي بداية السبعينات، بعد

- 01- اضبط مفاهيم المصطلحات التي تحتها خط في النص.
- 02- إليك جدول يمثل تطور أسعار القمح للفطن الواحدة (بالدولار):

السنة	2017	2018	2019
السعر	185	191	203

المطلوب: مثل معطيات الجدول بمنحني بياني بمقياس رسم

الجزء الثاني (04 نقاط):

يكفي أن تتحول على محرك البحث الإلكتروني لتكتشف وتدرك دورها المؤثر في الاقتصاد العالمي رغم المعوقات والصعوبات الاقتصادية

المطلوب: انطلقا من الفقرة واعتمدا على ما درست، أكتب

- (1) مظاهر تفوق القوى الاقتصادية الكبرى

جبهة (الغذائية. الطاقة)
 الاستراتيجية (الناجم، تصديره أسعاراً)
 آلات التجارية
 بناء المواد الصناعية
 وان الطاقة
 ان لوان الغذائية
الم المتخلف:
 يا وتجاريا وصناعيا
 ت لدول العالم المتخلف
 المتخلف.

طالية والاقتصادية والسياسية.
 المبادلات التجارية ضرورة تكثيف التعاون بين دوله وتفعيل دور

موضوع المقترح الرابع

التاريخ:

الواقع في أعقاب الحرب العالمية الثانية، وقد دفع الى ظهور هذا
 : التقسيم الثنائي لإمكانيات القوى الدولية ، وتفاقم **الصراعات**
 نسبة ساحقة من قدرات الحرب النووية في المجتمع الدولي -
القطبية قد استغرق الفترة ما بين انتهاء الحرب وحتى نهاية

و-سماحل صوي مفرد-الاستراتيجية والسمة الدولية من 116
 ت أحب وفقك الله على :
 خط في النص-
 لأمجد بوكارنو-محمد خيرضر.

التاريخ والمصطلحات

التاريخ	الحدث
09 نوفمبر 1989	
04 أبريل 1949	مظاهرات الشعب الجزائري بالمدن الجزائرية

الجزء الثاني : (04 نقاط) :

المعنى الثورة الجزائرية في ظروف داخلية وخارجية متباينة، وهو ما استوجب اعتماد استراتيجية عسكرية
 وسياسية فاعلة لضمان نجاح الثورة .

المطلوب : اعتمادا على النص وما درست آكب مقالا وفقك الله تناول فيه:
 1) الظروف الداخلية والخارجية لإندلاع الثورة الجزائرية .
 2) الاستراتيجية الثورة في المجال الدبلوماسي .

الجغرافيا

الجزء الأول (06 نقاط):

ويعنى نحو مماثل نجد أن اقتصاديات العالم الثالث تعتمد على اللذان المتقدمة في مجالات متعددة .
 فالتجارة مع **البلدان الصناعية** تستوعب أكثر من 70 في المائة من صادرات البلدان النامية، وتشكل
 مصدرها الرئيسي **للمدخلات الأجنبية** ، وقد كانت سياسات تحريم التجارة التي اعتمها اللذان المتقدمة
 عازلا تماما لعم هذه الصادرات ففي بداية السبعينات ، بعد تنفيذ التخصيصات في التعريفات الجمركية
 جاك لوب-علم الثالث ولغويات اللذان من 83

- 01- اشرح مفاهيم المصطلحات التي تحتها خط في النص.
- 02- إليك جدول يمثل تطور أسعار القمح للطن الواحد في بورصة شيكاغو 2017-2021

(بالدولار):

السنة	2017	2018	2019	2020	2021
السر	185	191	203	201	233

مجموعه رسم اليوم

المطلوب : مثل معطيات الجدول بمحى بياني تقيايم رسم : 1 سم = 20 دولار
 1 سم = 01 سنة

الجزء الثاني (04 نقاط) :

يكفي أن تتحول على محرك البحث الإلكتروني لتكتشف وتذكر مدى تطور القوى الاقتصادية الكبرى
 ودورها المؤثر في الاقتصاد العالمي رغم المعوقات والصعوبات الاقتصادية التي تواجهها .
المطلوب: انطلاقا من الفقرة واعتمادا على ما درست، آكب مقالا جغرافيا يبرز فيه :
 1) مظاهر تفوق القوى الاقتصادية الكبرى.

الإدائية النموذجية

التاريخ

الجزء الأول :

1- شرح المصطلحات:

• **الصراع الأيدولوجي:** صراع عقائدي (فكري - مذهبي - فني) بين النظامين الشيوعي والبرلماني يقوم على مبدأ استحالة تعايشهما في عالم واحد (الحرب الباردة).

• **القوتين العظميين:** يقصد بها القوى التي برزت بعد ح ع 2 فطلت في الاتحاد السوفياتي والولايات المتحدة الأمريكية.

• **التشائمية القطبية:** يقصد به توجه العلاقات الدولية وفقا لتصور العسكريين الشرقي برعاية الإس والغربي بزعماء الوم. وفقا لمصاحها في إطار صراع الحرب الباردة 1945 - 1989. أقصى تفكك للمعسكر الشرقي وظهور الأحادية القطبية.

2- التعريف بالمشخصات:

• **روبالد زيهن:** رئيس الولايات المتحدة الأمريكية بين 1981 - 1989 جمهوري، تميز بالشدت تجاه الاتحاد السوفياتي واتتبع سياسة متشددة تجاهه، صاحب مشروع حرب السجوم.

• **أحمد سوكرتو:** سياسي أندونيسي، أحد زعماء حركة الاستقلال في بلاده، أول رئيس لأندونيسيا المستقلة، ترأس مؤتمر بانندونغ 1955، من أبرز مؤسسي حركة عدم الانحياز 1961. وشخصيات العالم الثالث.

• **محمد خيضر:** عضو نجم شمال أفريقيا ثم حزب الشعب الجزائري ثم مندوبا لحركة التصار الحريات الديمقراطية بالقاهرة ثم أحد عناصر المنظمة الخاصة، وأحد أعضاء الوفد الخاص أثناء الثورة الجزائرية، كان من بين المختطفين في حادثة الطيارة 1956.

3- جدول الأحداث:

التاريخ	الحدث
09 نوفمبر 1989	تخليم حدار برلين
11 ديسمبر 1960	مظاهرات الشعب الجزائري بالمدن الجزائرية
04 أبريل 1949	انشاء حلف الشمال الأطلسي (الناتو)

الجزء الثاني :

المقدمة: الثورة الجزائرية بين الظروف المحيطة بها والجهود الدبلوماسية للثورة الجزائرية للتعريف بالقضية الجزائرية.

1- الظروف الداخلية والخارجية لتداع الثورة الجزائرية

الظروف الداخلية:

- صدار 08 ماي 1945 في الشرق الجزائري (45 ألف شهيد).
- الممارسات التعسفية القمعية الاستعمارية ضد الشعب الجزائري.
- الإصلاحات الفرنسية لتهدئة الأوضاع تنوعا من العمل الثوري.
- اكتشاف المنظمة الخاصة من طرف الاستعمار 1950 وظهور الإنقسام والإشتقاق داخل حركة الانتصار للحرية.
- تأثير الوعي القومي والسياسي لدى الشعب الجزائري.
- تغلغ في مسار الحركة الوطنية خاصة التيار الإدماحي وموقفه ب- الظروف الخارجية:

الإقليمية:

- نجاح الثورة المصرية 23 جويلية 1952 ودعمها لحركات التحرر.
- الدلاع الكفاح التحرري في تونس والمغرب عام 1952.

• صراع الحرب الباردة ودعم السوفيات لحركات التحرر في الجزائر.

- تيزور هيئة الأمم المتحدة في العلاقات الدولية 24 أكتوبر 1958 بصيها.
- الاستقلال المنكر للعديد من الدول (الهند - سوريا - العراق).
- تراجع مكانة الدول الاستعمارية التقليدية (فرنسا - بريطانيا).
- تأسيس جامعة الدول العربية 22 مارس 1945 ودعمها لحركة

2- استراتيجيات الثورة في المجال الدبلوماسي

- تأسيس الوفد الخارجي (أحمد بن بله، حسين آيت أحمد، محمد).
- تأسيس فدراليات جبهة التحرير الوطني في العديد من الدول.
- التعريف بالقضية الجزائرية والعمل على تدويلها في المحافل الدولية.
- فضح السياسات التعسفية والقمعية الاستعمارية.
- تأسيس الحكومة الجزائرية المؤقتة 19 سبتمبر 1958 بالقاهرة.
- الزيارات الرحمة التي قام بها أعضاء الحكومة المؤقتة للعديد من الدول.
- تنظيم لمظاهرات لدعم الثورة الجزائرية تأكيدا على تلاحم الشعب مع التجوال المقروض عليهم، وكان من نتائجها استشهاد آة الخاقمة:
- نجاح الثورة الجزائرية في تدويل القضية الجزائرية الدبلوماسية

1- الظروف الداخلية والخارجية لإندلاع الثورة الجزائرية .

الظروف الداخلية:

• مجازر 08 ماي 1945 في الشرق الجزائري (45 ألف شهيد).
• الممارسات التعسفية القمعية الاستعمارية ضد الشعب الجزائري الأحرار.
• الإصلاحات الفرنسية لتهدئة الأوطاع خوفاً من العمل الثوري بإصدار القانون الخامس 20 سبتمبر 1947.

• اكتشاف المنظمة الخاصة من طرف الاستعمار 1950 وظهور التيار الثوري.
• الانقسام والإنشقاق داخل حركة الانتصار للحريات الديمقراطية (أزمة الحركة).
• تطور الوعي القومي والسياسي لدى الشعب الجزائري.
• تغير في مسار الحركة الوطنية خاصة التيار الإدماحي وموقفه من الاستعمار بعد مجازر 08 ماي.

ب- الظروف الخارجية:

الإقليمية:

• نجاح الثورة المصرية 23 جويلية 1952 ودعمها لحركات التحرر في العالم.
• الدلاع الكفاح التحرري في تونس والمغرب عام 1952.

الدولية:

• صراع الحرب الباردة ودعم السوفيات لحركات التحرر في العالم بهدف استقطابها.
• مؤازرة هيئة الأمم المتحدة في العلاقات الدولية 24 أكتوبر 1945 وتبنيها مبدأ حق الشعوب في تقرير مصيرها.

• الاستقلال المنكر للعديد من الدول (الهند - سوريا - العراق...).

• تراجع مكانة الدول الاستعمارية التقليدية (فرنسا - بريطانيا) في الساحة الدولية بعد ح 2.

• تأسيس جامعة الدول العربية 22 مارس 1945 ودعمها لحركات التحرر.

2- استراتيجيات الثورة في المجال الدبلوماسي:

• تأسيس الوفد الخارجي (أحمد بن بلة، حسين آيت أحمد، محمد خيضر) لتمثيل الثورة الجزائرية في الخارج.

• تأسيس فدراليات جهة التحرير الوطني في العديد من الدول (بلجيكا، ألمانيا، لوم أ، ...).

• التعريف بالقضية الجزائرية والعمل على تدويلها في المحافل الدولية والسعي لكسب التعاطف الدولي.

• وضع السياسات التعسفية والقمعية الاستعمارية.

• تأسيس الحكومة الجزائرية المؤقتة 19 سبتمبر 1958 بالقاهرة لتقبل الثورة والتفاوض مع الاستعمار.

• الزيارات الرسمية التي قام بها أعضاء الحكومة المؤقتة للعديد من الدول (الصين، موسكو، يوغسلافيا...).

• تنظيم المظاهرات لدعم الثورة الجزائرية تأكيداً على تلاحم الشعب الجزائري في الداخل والخارج، ورفض

مع النحوال المفروض عليهم، وكان من نتائجها استشهاد أكثر من 200 جزائري.

الخاتمة: نجاح الثورة الجزائرية في تدويل القضية الجزائرية وفضح جرائم الاستعمار بفصل الجهود

الدبلوماسية

ديني) بين النظامين الشيوعي والرأسمالي.

2 تمثلت في الاتحاد السوفييتي والولايات

المعسكرين الشرقي بزعامة الإيس والغربي

1989 - 1989، أفضى بتفكك المعسكر

1989 جمهوري، تميز بالتشدد تجاه الاتحاد

الشيوعي.

تلال في بلاده، أول رئيس لأندونيسيا

عدم الانحياز 1961 وشخصيات العالم

ثري ثم مندوبا حركة انتصار الحريات

الوفد الخارجي أثناء الثورة الجزائرية، كان

تاريخه

1989

1960

1949

اسمية للثورة الجزائرية للتعريف بالقضية

الجغرافيا :


الجزء الأول :

1- شرح المصطلحات :

- البلدان الصناعية : الدول الصناعية الكبرى المتقدمة في الانتاج الصناعي مثل الولايات المتحدة الأمريكية ، فرنسا ، بريطانيا ، ألمانيا ، إيطاليا ، اليابان ..
- العملات الأجنبية : العملات النقدية الأكثر تداولاً في المبادلات التجارية العالمية مثل الدولار الأمريكي ، اليورو الأوروبي ، الاسترليني البريطاني ..
- تجويز التجارة : سياسة دولية تسعى لإنشاء مناطق وأسواق عمالية معفاة من الرسوم (الضرائب) المتحركة بهدف التنقل الحر للسلع والأشخاص والخدمات .

2- التمثيل البياني :

تطور سعر البترول خلال 2015-2021 : (الوحدة الدولار الأمريكي)



الجزء الثاني :

المقدمة : القوى الاقتصادية الكبرى قوة مهيمنة على العالم في مختلف المجالات .
العرض :

1- مظاهر تفوق القوى الاقتصادية الكبرى :

- ضخامة انتاجها الصناعي وتنوعه وجوده .
- هيمنة عملائها على المبادلات التجارية العالمية .
- الهيمنة على نسبة كبيرة من المبادلات التجارية العالمية .
- امتلاكها لأغلب الشركات المتعددة الجنسيات التي تسيطر على الاقتصاد العالمي .

سلسلة مقررات فريق بحثية

- ارتفاع نسبة مساهمتها في الناتج المحلي العالمي .
- امتلاكها للمؤسسات المالية الكبرى (البنوك-المؤسسات) .
- **2- الصعوبات التي تواجه القوى الاقتصادية الكبرى :**
- تنكس الإنتاج الزراعي والصناعي وصحته .
- التنجس فيما يخص المواد الأولية لسوق العالم المنحرف .
- المنافسة الخارجية وتقلص أسواقها في العالم الثالث بسبب ظهور مبرمج
- الرسوم الجمركية المفروضة على سلعها .
- الأزمات المالية والاقتصادية الدورية التي تضرب اقتصادها .
- الخاتمة : رغم المشاكل التي تواجه القوى الاقتصادية الكبرى إلا أنها تهيمن على العالم .

05- الموضوع المقترح الذي

التاريخ :

الجزء الأول: (06 نقاط)

... لقد اعترف رئيس الجمهورية الفرنسية على الملأ باسم
سبتمبر 1959 اعترافاً صريحاً بحق الجزائريين في تقرير مصيرهم
الشفيع طيلة خمس سنوات وصموده .. ولم يكن ممكناً لولا
وعلى المضى فيه من اجل التحرر الكامل .. وحق تقرير المصير
سيادته الوطنية التي انتزعها منه مؤقتاً غزو عسكري لا يمكن
مقنظف من بيان الحكومة الجزائرية المؤقتة حول بيان تقرير
مكتفياً -


المطلوب :

- 1) اعتماداً على السند وما درست أحب وفقك الله على
- 2) عرف الشخصيات الآتية : ريشارد ليكسون- أناس
- 3) أكمل جدول الاحداث الآتي :

الحدث
تأسيس الاتحاد العام للعمال الجزائريين

العملة الكبرى نشوطة في الإنتاج الصناعي مثل الولايات المتحدة الأمريكية
النقدية الأكثر تداولاً في المعاملات التجارية العالمية مثل الدولار
البريطاني ..
لإشياء مناطق وأسواق عالمية معقدة من الرسوم (الضرائب) الجمركية
شخصيات والخدمات ..

2015-2021 : (الوحدة الدولار الأمريكي)



في مختلف المجالات .

الاقتصاد العالمي .

مفاهيم مقترحة صواب خطأ

• ارتفاع نسبة مساهمتها في الناتج الإجمالي العالمي
• إتاحتها المؤسسات المالية الكبرى (البنوك-البورصات)

2- الصعوبات التي تواجه القوى الاقتصادية الكبرى

- تنكس الإنتاج الزراعي والصناعي وضخامة
- تبعية فيما يخص المواد الأولية لدول العالم النشيط
- المنافسة الخارجية وتقلص أسواقها في العالم الثالث
- الرسوم الجمركية المفروضة على سلعها
- الأزمات المالية والاقتصادية الدورية التي تضرب اقتصادها
- حماية: رغم المشاكل التي تواجه القوى الاقتصادية الكبرى إلا أنها تبقى قوى مهمة على العالم اقتصاديا
- سياسيا تجاريا ..

05. الموضوع المقترح الخامس

التاريخ :

الجزء الأول: (06 نقاط)

1- ... لقد اعترف رئيس الجمهورية الفرنسية على الملأ باسم فرنسا في التصريح الذي أدلى به في 16
سبتمبر 1959 اعترافا صريحا بحق الجزائريين في تقرير مصيرهم .. ولم يكن هذا التصريح ممكنا لولا امتثال
الشعب طيلة خمس سنوات وصموده .. ولم يكن ممكنا لولا إصرار جبهة التحرير الوطني، على القتال
وعلى النص في من أجل التحرير الكامل .. وحق تقرير المصير يرد للشعب الجزائري من جديد وبممارسة
سيادته الوطنية التي لترعاها منه مؤقنا غزو عسكري لا يمكن بوجه من الوجوه أن يكسب صفة شرعية .."
ملفظ من بيان الحكومة الجزائرية المؤقتة حول بيان تقرير المصير

ال المطلوب :

482 - كتاب تورات القرن العشرين - يحي بوعزيز - ص

اعتمادا على السند وما درست أحب وفقك الله علي :

- 1) اسط مفاهيم المصطلحات التي تحتها خط في النص.
- 2) عرف الشخصيات الأتية : ريتشارد نيكسون-ألدري جدانوف-محمد بوضياف
- 3) أكمل جدول الأحداث الآتي :

التاريخ	الحدث
29 أكتوبر 1956	تأسيس الاتحاد العام للعمال الجزائريين
18 جوان 1979	

الجزء الثاني : (04 نقاط)

الجزء الثاني

عرف المعسكر الشيوعي في نهاية الستينيات وبداية السبعينات لعواكس جذرية وهزات عميقة مستوحاة من شيانغ ، فتح عنها زوال الاتحاد السوفياتي ودور نظام توتلي جلاند امدادي القطب وغلبة الولايات المتحدة الأمريكية.

المطلوب :

- 1- أهر مظاهر انهيار المعسكر الشيوعي .
- 2- حدد الأسباب الحقيقية لإخياره .

الجغرافيا :

الجزء الأول (06 نقاط) :

وكانت منظمة الأوبك الثور الكبر في السوق العالمية للنفط مطلع السبعينات من القرن العشرين حيث شهدت الأسواق النفطية تغيرات هيكليّة قلّلت في العدم حالة احتكار طرفي السوق من قبل الشركات الاحتكارية ، بعد أن فقدت تلك الشركات احتكارها المطلق لعمليّة الإنتاج في عدد كبير من البلدان النامية .

المطلوب :

- 1- اشرح مفاهيم المصطلحات التي تحنها خط في النص .
- 2- على خريطة العالم المرفقة الصماء وقع 03 دول مصدرة و03 دول مستوردة للغاز الطبيعي .

الجزء الثاني (04 نقاط) :

تعدّ دول آسيا الشرقية والجنوبية نموذج تنمية قائم على الانفتاح على الاقتصاد العالمي و الاستثمار في العصر البشري مما جعلها قوة اقتصادية منافسة للولايات المتحدة الأمريكية والاتحاد الأوروبي .

المطلوب :

- 1- اطلاقا من الفقرة واعتمادا على ما درست ، اكتب مقالا جغرافيا تبرز فيه : أهمية العنصر البشري في تنمية المنطقة .
- 2- مظاهر تحول المنطقة إلى قطب اقتصادي عالمي منافس .

الإجابة النموذجية

التاريخ :

1- شرح المصطلحات :

تقرير مصهورم : مشروع سياسي فرنسي في فترة شارل ديغول بهدف ضرب الثورة الجزائرية من خلال دعوة الجزائريين لإستفتاء تقرير المصير الذي نظّمته الإدارة الفرنسية وتزوير نتائجه .

الجزء الثاني

• جبهة التحرير الوطني : تنظيم سياسي ثوري (الفتح السياسي ثوريا) ظهر في الستين الشرقي والوحيد للشعب الجزائري الذي تحوّل من جبهة التحرير إلى حركة التحرير الوطني ، هي السلطة الفعلية الثورية على الجزائر بعد طرده من مكانه والإحتيازات ، أي سادة الدولة الجزائرية في فترتها وبوتاعتها وإحتيازات .

2- التعريف بالشخصيات :

• وينشاد نيكسون : رئيس الولايات المتحدة الأمريكية من 1969 - 1974 . حكمه انتهاء حرب فيتنام وتوقيع إصدار النفط العربي 1973 ، وقع معاهدة عرفوت ورتة فضيحة ووترغيت وتقدم استقالته .

• محمد بوضياف : مناضل حزب الشعب ، وحركة الانعقاد للحزب الديمقراطي ومجموعة 22 ، مسلح مجموعة الستة ، عضو بارز في قيادة الثورة ، كان ضمن الفريق الذي ساهم في التمدد الإيديولوجي في الفترة 1945 - 1953 ، مهتم خلفه مع صاحب مشروع جدادوف ، من مؤسسي مكتب الكومستورم 1947 .

3- جدول الأحداث :

الحدث	تاريخه
العدوان الثلاثي على مصر	29 أكتوبر 1956
تأسيس الاتحاد العام للعمال الجزائريين	24 فيفري 1956
توقيع اتفاقية مناليت الثانية	18 جوان 1979

الجزء الثاني :

المقدمة : نهاية الحرب الباردة 1989 وتفككت الكتلة الشرقية من الأسباب الحقيقية ومظاهر التفكك .

العرض :

1- مظاهر انهيار المعسكر الشيوعي :

- تنظيم جدار برلين 09 نوفمبر 1989 وتوحيد الألمانيتين 03 أكتوبر 1990 .
- حل منظمة الكومكون 28 جوان 1991 وحل حلف وارسو 01 جويلية 1991 .
- مؤتمر "المانا آنا" 21 ديسمبر 1991 وتفكك الاتحاد السوفياتي .
- استقالة غورباتشوف من رئاسة الاتحاد السوفياتي 25 ديسمبر 1991 وتأسيس دولة .
- انقسام تشيكوسلوفاكيا إلى دولتين متعاونتين (النشيط - سلوفاكيا) 1993 وتفكك .
- عقد سلسلة من المؤتمرات الدولية (مؤتمر مالطا بين غورباتشوف وجورج بوش 3-4 فيه نهاية الحرب الباردة - ومؤتمر باريس للأمن والتعاون 19-21 نوفمبر 1990) .

ماتت تغزوات جندرية وهزات عميقة مست مختلف
عولي جديد أحادي القطب بزعامة الولايات

ول فيه:

مطلع السبعينات من القرن العشرين حيث
احتكار طرفي السوق من قبل الشركات
عملية الانتاج في عدد كبير من البلدان

الموسوعة الجزائرية للدراسات السياسية والاقتصادية

دول مستوردة للغاز الطبيعي .

على الاقتصاد العالمي و الاستثمار في
الأمريكية والاتحاد الأوروبي ..

فيه:

عرب الثورة الجزائرية من خلال
تألمحه .

سوية التحرير الوطني. تنظيم سياسي ثوري (الجناح السياسي للثورة) ظهر في 01 نوفمبر 1954. وتعتبر
السياسة الوطنية: هي السلطة الفعلية للدولة على إقليمها وما فيه من سكان وموارد، والخبرة في المواقف
السياسية، أي سيادة الدولة الجزائرية في قراراتها ومواقفها واختيارها.

والعلاقات بالشخصيات:

الاستاذ نيكسون: رئيس الولايات المتحدة الأمريكية بين 1969 - 1974 جمهوري، شهدت فترة
الحكم انتهاء حرب فيتنام وتوقف تصدير النفط العربي 1973. وقع معاهدة سالت 1 مع السوفييات،
برامت فترة فضيحة ووترغيت وتقديم استقالته.

المعهد بوضيف: مناضل حزب الشعب، وحركة الانتصار للحرث الديمقراطية، عضو لمنظمة الخاصة
بالمجموعة 22، مسبق مجموعة الستة، عضو بارز في قيادة الثورة، كان ضمن المختطف بالطائرة 1956،
من الدولة الجزائرية 1992، اعتيل في نفس السنة.

المفكر جدانوف: سياسي سوفيياتي صاحب أطروحة الكتلتين (الكتلة الشرقية- الكتلة الغربية) من
الذين سلخوا في التشدد الإيديولوجي في الفترة 1945-1953 مهتس الخلف الجزائري السوفيياتي (1939)
براجد مشروع جدانوف، من مؤسسي مكتب الكومنتورم 1947.

جدول الأحداث:

التاريخ	الحدث
29 أكتوبر 1956	العدوان الثلاثي على مصر
24 فيفري 1956	تأسيس الاتحاد العام للعمال الجزائريين
18 جوان 1979	توقيع اتفاقية سالت الثانية

الجزء الثاني:

للثورة: حماية الحرب الباردة 1989 وتفكك الكتلة الشرقية بين الأسباب الحقيقية التي عملت بتفككه
بنظام التفكك.

العرض:

مظاهر انهيار المعسكر الشيوعي:

- انهيار جدار برلين 09 نوفمبر 1989 وتوحيد الألمانيتين 03 أكتوبر 1990
- حل منظمة الكوميكون 28 جوان 1991 وحل حلف وارسو 01 جويلية 1991.
- مؤتمر "لما آتا" 21 ديسمبر 1991 وتفكك الاتحاد السوفيياتي.
- استقالة غورباتشوف من رئاسة الاتحاد السوفيياتي 25 ديسمبر 1991 وتأسيس دولة روسيا الاتحادية.
- انقسام تشيكوسلوفاكيا إلى دولتين متعاونتين (التشيك - سلوفاكيا) 1993 وتفكك يوغسلافيا.
- معد سلسلة من المؤتمرات الدولية (مؤتمر مالطا بين غورباتشوف وجورج بوش 3-4 ديسمبر 1989
- في حماية الحرب الباردة - ومؤتمر باريس للأمن والتعاون 19-21 نوفمبر 1990).

2- الأسباب الحقيقية لتدهور
أساس الداخلية:

- اتساع المجال الجغرافي للإتحاد السوفياتي مما أدى إلى ارتفاع تكاليف الحماية والتنمية
- تسرع وتعدد القوميات (قدرت ب 32 قومية) وتعدد الأديان واللغات
- طبيعة النظام السياسي الشيوعي المركزي والإقتصادي لوجه من طرف الدولة
- فشل إصلاحات الرئيس غورباتشوف (البروسترويككا والغلاسنوت) بعد استخدام إصلاحاته من المحافظات في جهاز الدولة
- ب- الخارجية:
- انتهاج الولايات المتحدة الأمريكية سياسة الإحتواء والتطويق التي ساهمت في إضعاف الإتحاد السوفياتي
- دور الكنيسة (الفاثيكان) في تحريض الشعوب الأوروبية ضد الأنظمة الشيوعية
- دور القوى الغربية في تغذية الحركات الإعتصالية داخل الكتلة الشرقية (أوروبا - المجر...)
- التدخلات السوفياتية الخارجية ومساهمتها في إضعافه (التدخل السوفياتي في أفغانستان 1979)
- دعم القوى الغربية للأنظمة المعادية للشيوعية في العالم بعد وصول غورباتشوف
- الحاققة: إختيار المعسكر الشيوعي أدى لظهور النظام الدولي الجديد الذي كرس قيمة الولايات المتحدة الأمريكية على العالم في مختلف المجالات

الجغرافيا:

الجزء الأول:

1- نشرح المصطلحات:

- الشركات الاحتكارية: الشركات التابعة للقوى الاقتصادية الكبرى التي تحتكر تجارة المواد الاستراتيجية سواء الطاقوية مثل شركة بتروليوم (تجارة البترول) أو الغذائية مثل شركة بونج (تجارة القمح)
- منظمة الأوبك: منظمة الدول المنتجة للبترول OPEC وهي منظمة عالمية تضم ثلاث عشرة دولة تعتمد على صادراتها النفطية اعتمادا كبيرا لتحقيق مديعوها، تأسست عام 1960م من طرف: إيران، السعودية، العراق، الكويت، فنزويلا، مقرها الحالي فيينا
- البلدان النامية: دول العالم الثالث وتسمى بدول الجنوب، التي خضعت للإستعمار واستقلت حديثا وتسمى للخروج من التحالف وتحقيق التطور بإستغلال إمكانياتها، تعرف نموا اقتصاديا بطيئا وتعاني من المشاكل في الكثير من المجالات
- 2- التوقيع على الخريطة: في جزء الخرائط

الجزء الثاني:

المقدمة: منطقة شرق وجنوب شرق آسيا بن محدودة الموارد وكثما
العرص:

1- أهمية العنصر البشري في تنمية المنطقة:

- طبيعة الفرد الآسيوي المنحصر بالتقاليد والاعلام حسب العمل
- التكوين والتأهيل لليد العاملة (البنوية العالية)
- اتساع السوق الاستهلاكية الداخلية (التعداد السكاني الكبير)
- سرعة تكيف الفرد الآسيوي مع التطور التكنولوجي العالمي
- العمل بأجر زهيدة مما جلب الإستثمارات
- المردودية العالية للعمال والموظفين

2- مظاهر تحول المنطقة إلى قطب اقتصادي عالمي متنافس:
• نمو المنطقة قطب اقتصادي عالمي يتنافس باقي الأقطاب الأخرى

- ضخامة الانتاج الصناعي خاصة اليابان إذ تمثل القوة الصناعية الثانية
- والصين المرتبة السادسة
- تحقيق معدلات نمو اقتصادي مرتفعة نافست حتى الدول المتقدمة
- سطرها على مراتب ريادية في العديد من الصناعات الثقيلة مثل الحديد
- إحلال كوريا الجنوبية المرتبة الأولى عالميا في إنتاج السفن والمرنة الثانية
- التطور التكنولوجي والتحكم في الصناعات الدقيقة والاقتصاد الرقمي
- وقرة وضخامة رؤوس الأموال وتوفر المنطقة على أهم المبرجات العالمية
- يتك من أكبر 10 بنوك في العالم
- التحكم في 21% من التجارة العالمية حوالي 10% لليابان
- حدوث اندماج كبير لاقتصاد المنطقة، إذ أصبحت اليابان والصين دول
- استقطاب المنطقة للإستثمار والمستثمرين
- الحاققة: تجرية دول شرق وجنوب شرق آسيا نموذج يحتذى به لتحقيق لا

مما أدى إلى ارتفاع تكاليف الحماية والتنشئة
32 مومية) وتعدد الأديان واللغات

كبرى والإقتصادي الموجه من طرف الدولة
ف (الروسولوكا والغلاسنوت) بعد اصطدام إصلاحاته مع

من الإحتواء والتطوير التي ساهمت في إضعاف الإتحاد السوفياتي،
شعوب الأوروبية ضد الأنظمة الشيوعية

تفصالية داخل الكتلة الشرقية (بولونيا - مجرى...)

في إضعاف التدخل السوفياتي في أفغانستان (1979)

عنه في العالم بعد وصول غورباتشوف.

وقر النظام الدولي الجديد الذي كرس هيمنة الولايات المتحدة

الجغرافيا:

في الاقتصاد الكروي التي تحتكر تجارة المواد الاستراتيجية
أو الغذائية مثل شركة بونج (تجارة القمح)

OPEC وهي منظمة عالمية تضم ثلاث عشرة دولة تعتمد
لها، تأسست عام 1960م من طرف: إيران، السعودية،

الجنوب، التي خضعت للإستعمار واستقلت حديثا
من إسبانياها، تعرف نموا اقتصاديا بطيئا ولعالي من

القرن الثاني:

المقدمة:

منطقة شرق وجنوب شرق آسيا بين محدودية الموارد وتكثاف الإنسان

المعرض:

1- أهمية العنصر البشري في تنمية المنطقة:

مصلحة الفرد الآسيوي للتغير بالتفاؤل والاحتمال وحس العمل
التكوين والتأهيل للفرد العاملة (الوعي العالي)

توسع السوق الاستهلاكية الداخلية (التعداد السكاني الكبير)

وتسريع تكيف الفرد الآسيوي مع التطور التكنولوجي الهائل
والعمل بأجر رهينة مما جلب الاستثمارات.

وتزويدية عالية للعمال والموظفين.

2- مظهر تحول المنطقة إلى قطب اقتصادي عالمي منافس:

وتعتبر المنطقة قطب اقتصادي عالمي منافس باقي الأقطاب الاقتصادية (الولايات المتحدة والاتحاد
الأوروبي).

مصلحة الإنتاج الصناعي لخاصة اليابان، إذ تمثل القوة الصناعية الثانية بعد الولايات المتحدة الأمريكية،
بعض المرتبة السادسة.

وتحقق معدلات نمو اقتصادي مرتفعة تافست حتى الدول المتقدمة.

وسبقها على مراتب إيجابية في العديد من الصناعات الثقيلة مثل الصناعات المرئية الأولى في صناعة السيارات،
وتتلال كوريا الجنوبية المرتبة الأولى عالميا في إنتاج السفن والمرتب الثانية لليابان.

والنظر التكنولوجي والتحكم في الصناعات الدقيقة والاقتصاد الرقمي

بوفرة وضخامة رؤوس الأموال وتوفر المنطقة على أهم البورصات العالمية والبنوك حيث يحتك اليابان 7
بنوك من أكبر 10 بنوك في العالم.

وتحكم في 21% من التجارة العالمية حوالي 10% لليابان.

وحدث اندماج كبير لاقتصاد المنطقة، إذ أصبحت اليابان والصين دول مهمة في الاقتصاد العالمي
وانتظام المنطقة للاستثمار والمستثمرين.

الخاصة: تجربة دول شرق وجنوب شرق آسيا نموذج يمدى به لتحقيق التنمية والتطور.



الموضوع الأول - شعبة العلوم التجريبية

وقع القوى المتصوفة بين قوتهم في العلم



- 01- اليابان
- 02- روسيا
- 03- بريطانيا
- 04- فرنسا

الموضوع الأول - شعبة العلوم التجريبية

ثلاث دول وازدهار في الحصول



- 01- ألمانيا
- 02- هولندا
- 03- فرنسا
- 04- إيطاليا

الموضوع الثاني - شعبة العلوم التجريبية

ثلاث دول



- 01- الولايات المتحدة الأمريكية
- 02- روسيا الاتحادية
- 03- بريطانيا

الموضوع الثالث - شعبة العلوم التجريبية



- 01- كندا
- 02- المكسيك
- 03- الاتحاد الأوروبي

وقع القوى المتصودة بين فوسين في الصح



- 01 - روسيا
- 02 - بريطانيا
- 03 - فرنسا
- 04 - الصين
- 05 - الهند

المسوع الثاني - شعة العلوم التخرية

ثلاث دول من الدول الواردة في الجدول



- 01 - الولايات المتحدة الأمريكية
- 02 - روسيا الاتحادية
- 03 - اليابان
- 04 - ألمانيا
- 05 - الصين

ثلاث دول واردة في الجدول



- 01 - فرنسا
- 02 - إيطاليا
- 03 - الصين
- 04 - اليابان
- 05 - الهند

المسوع الثالث - شعة العلوم التخرية

الدول الواردة بالجدول



- 01 - كندا
- 02 - المكسيك
- 03 - الاتحاد الأوروبي
- 04 - اليابان
- 05 - الصين

الموضوع الثالث - شعبة اللغات الأجنبية



01-الصين 02- الهند 03- الوم الأمريكية 04- روسيا 05- فرنسا

الموضوع الخامس - شعبة اللغات الأجنبية



أهم الدول المصدرة للغاز: رقم 01 روسيا 02 قطر 03 كندا 04
أهم الدول المستوردة للغاز: رقم 01 الصين 02 اليابان 03 ألمانيا 04

الموضوع الخامس - شعبة العلوم البحرية

دول مجموعة الستة



دول مجموعة السبعة (انسحاب روسيا) رقم 01- الولايات المتحدة الأمريكية 02- كندا 03- فرنسا 04- بريطانيا 05- ألمانيا 06- إيطاليا 07- اليابان

الدول الواردة بالحدود



01- الوم الأمريكية 02- ألمانيا 03- اليابان 04- الصين 05- الهند 06- الأرجنتين

الموضوع الأول - شعبة اللغات الأجنبية



مجموعة السبعة (G7) (السحاب روسيا)
 01- كندا 02- فرنسا 03- بريطانيا 04- ألمانيا 05- إيطاليا 06- اليابان



01- الصين 02- الهند 03- الولايات المتحدة الأمريكية 04- روسيا 05- فرنسا 06- أستراليا



01- اليابان 02- الصين 03- الهند 04- الأرجنتين



أهم الدول المصدرة للغاز: رقم 01 روسيا 02 قطر 03 كندا 04 الجزائر 05 أستراليا
 أهم الدول المستوردة للغاز: رقم 01 الصين 02 اليابان 03 ألمانيا 04 إيطاليا 05 كوريا الجنوبية



مكتب قسم المبيعات - SAEX - المسير البري
مقابل محطة الرمحول من مستطير - Jeddah

عكاشة COMPANY

We can help you

تسكننا في الانترنت

06 71 09 16 73

0553 12 43 48

www.okacha.net

موزع لطلبة الهندسة والصيدلة
موزع للتصوير التخصصي في العلوم الطبية
موزع لتقوية الذاكرة
موزع لتقوية الحواس
موزع لتقوية الذاكرة
موزع لتقوية الذاكرة
موزع لتقوية الذاكرة
موزع لتقوية الذاكرة

الرياضيات	السلسلة الفضية - الدوال من الألف إلى الياء - لأستاذ نور الدين عيسوي - السلسلة الفضية - المتكاملات من الألف إلى الياء - لأستاذ نور الدين عيسوي - السلسلة الفضية - الاحتمالات من الألف إلى الياء - لأستاذ نور الدين عيسوي - السلسلة الفضية - الأعداد المركبة من الألف إلى الياء - لأستاذ نور الدين عيسوي - السلسلة الفضية - أديين - الرياضيات من الألف إلى الياء - لأستاذ نور الدين عيسوي
علوم الطبيعة والحياة	السلسلة الفضية - علوم الطبيعة والحياة من الألف إلى الياء - الأستاذين عزيز والأستاذين مدالي
العلوم الإسلامية	السلسلة الطلاب المتفوق في علوم الطبيعة والحياة الفلسفة لطالبه إكمال بوران السلسلة الأرحمانية - العلوم الإسلامية للأستاذة وسعادي بوال
التاريخ والجغرافيا	السلسلة الخضراء علمين - التاريخ والجغرافيا للأستاذ بوران السلسلة الأرحمانية أديين - التاريخ والجغرافيا للأستاذ بوران السلسلة الخضراء علمين - التاريخ والجغرافيا 08-20 ومواضيع مقترحة للأستاذ بوران السلسلة الخضراء أديين - التاريخ والجغرافيا 08-20 ومواضيع مقترحة للأستاذ بوران
الإنجليزية	السلسلة الفضية علمين - الإنجليزية من الألف إلى الياء - الأستاذ مزروع السلسلة الفضية أديين ولغات - الإنجليزية من الألف إلى الياء - الأستاذ مزروع
الفلسفة	السلسلة الفضية أديين - الفلسفة من الألف إلى الياء - الأستاذ حمدودم
الأدب العربي	سلسلة الطلاب المتفوق كيف تحصل على العلامة الكاملة في الفلسفة للطلبة
هندسة الطرائق	السلسلة الفضية - أديين - الأدب العربي من الألف إلى الياء - الأستاذ فوادري مع السلسلة الفضية - هندسة الطرائق من الألف إلى الياء - لأستاذة حمادي عطيلة
كتب أذكار الطلاب المسلم	السلسلة الفضية - القصص التحفيزية لطلاب الكليات

لعرفة المزيد عن إصدارات مكتبة عكاشة زوروا موقعنا على الانترنت وصفحنا على الفيسبوك والستورام
www.okacha.net

مكتبة عكاشة - جدة - كذاة 18 - شارع الفيلق بالصوران - تليفون 0553 12 43 48

Version 01