

أَكْمِلْ مَلَأَ الْجَدْوَلِ

الوضعية 1 :

العَدَدُ	الْكِتَابَةُ بِالْحُرُوفِ	بِالتَّفْكِكِ	حَضْرُهُ بَيْنَ عَشْرَتَيْنِ مُتتَالِيَتَيْنِ
44	44 = + < 44 <
71	71 = ... + < 71 <

أَحْسِبِ الْعَمَلِيَّاتِ التَّالِيَةَ بِدِقَّةٍ

الوضعية 2 :

$$\begin{array}{r} 56 \\ - 23 \\ \hline = \end{array}$$

$$\begin{array}{r} 78 \\ - 45 \\ \hline = \end{array}$$

$$\begin{array}{r} 54 \\ + 35 \\ \hline = \end{array}$$

$$\begin{array}{r} 42 \\ + 25 \\ \hline = \end{array}$$

لَا حِظَّ الْجَدْوَلِ ثُمَّ أَكْمِلْ

الوضعية 3 :

البُرْتُقَالُ	الثَّفَاحُ	الإِجَاصُ	الْفَرَاوَلَةُ
50 دج	80 دج	72 دج	28 دج

- ثَمَنُ الْبُرْتُقَالِ هُوَ دِينَارًا
- ثَمَنُ هُوَ : 80 دِينَارًا
- ثَمَنُ هُوَ : 28 دِينَارًا
- ثَمَنُ الْفَرَاوَلَةِ وَ الْبُرْتُقَالِ مَعًا هُوَ دِينَارًا

اوجد المتمم الى العشرة المئوية

الوضعية 4 :

$$47 + \dots = 100$$

$$63 + \dots = 100$$

$$26 + \dots = 100$$

$$45 + \dots = 100$$

$$19 + \dots = 100$$

$$75 + \dots = 100$$

$$88 + \dots = 100$$

$$49 + \dots = 100$$

كَانَ عِنْدَ سَرِينِ 88 كُرْيَةً أَهْدَتْ لِأَخْتِهَا رَتَاجَ 32 كُرْيَةً
كَمْ بَقِيَ عِنْدَ سَرِينِ مِنْ كُرْيَةٍ ؟

الوضعية الإدماجية

$$\begin{array}{r} \cdot \quad \cdot \\ \cdot \quad \cdot \\ \hline = \end{array}$$

$$\dots = \dots + \dots$$

بَقِيَ عِنْدَ سَرِينِ كُرْيَةً

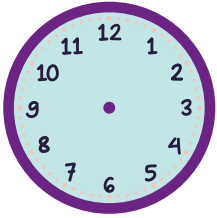


الأسم واللقب :

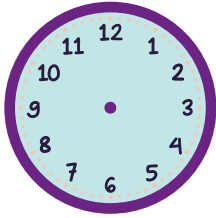
مراجعة شاملة لاختبار الفصل الثالث

أكتب التوقيت المناسب أو أرسم عقارب الساعة

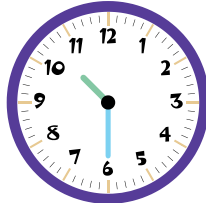
الوضعية 5 :



08:30

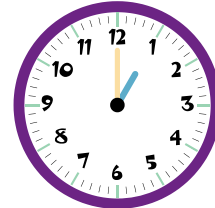


13:00



صَبَاحًا

.... :



مَسَاءً

.... :



صَبَاحًا

.... :

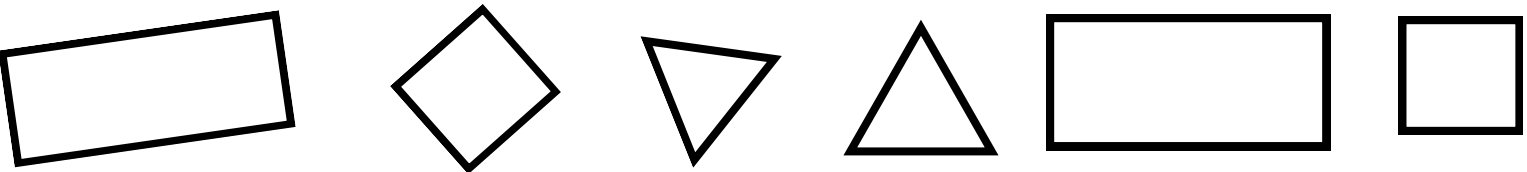
أكمل الجدول بما يناسب

الوضعية 6 :

الشكل	اسم الشكل	عَدَدُ الأَوْجِه	عَدَدُ الرُّؤُوس	عَدَدُ الأَحْرَافِ

لَوْنِ المُسْتَطِيلاتِ بِالأَحْمَرِ وَ المُرَبَّعاتِ بِالأَخْضَرِ وَ المَثَلثاتِ بِالأَصْفَرِ


الوضعية 7 :



رَتِّبِ الأَعْدَادَ التَّالِيَةَ تَصاعُدِيًّا

الوضعية 8 :

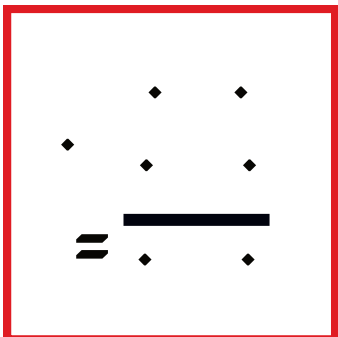
23 - 87 - 46 - 33 - 59 - 29



..... - - - - -

اِشْتَرَى الأبُّ لِابْنِهِ وَبِسِيمِ لُعْبَةٍ بِمِبلغِ 40 دِينَارًا
وُ عُلْبَةً سَكُولاطةً بِ 35 دِينَارًا
كَمْ صَرَفَ الأبُّ ؟

الوضعية الإدماجية



..... =

صَرَفَ الأبُّ دِينَارًا

