

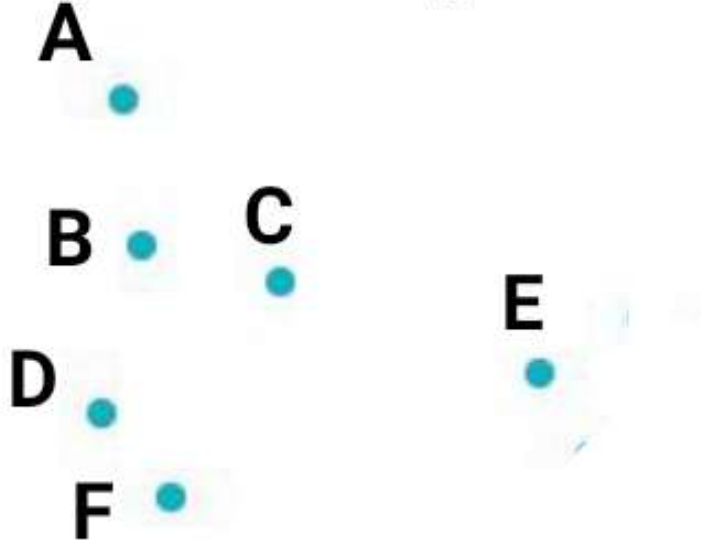
## الاستقامية

1)\_ تُشيرُ الحُرُوفُ A,B,C,D,E,F إلى نَقَطٍ .

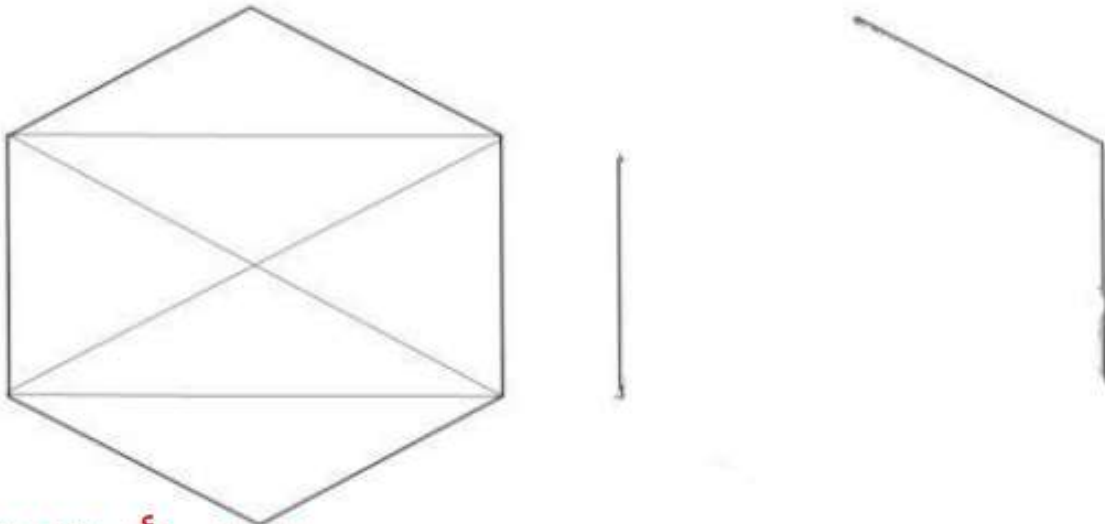
\_ أكْمِلِ العِبْرَةَ التَّالِيَةَ : النُّقْطُ ..... ، ..... ، ..... في  
إِسْتِقَامِيَّةٍ وَاحِدَةٍ .

\_ ارْسُمِ المُسْتَقِيمَ الَّذِي يَشْمَلُ هَذِهِ النُّقْطَ .

\_ عَيِّنِ النُّقْطَةَ H فِي إِسْتِقَامِيَّةٍ مَعَ النُّقْطِ C,D .



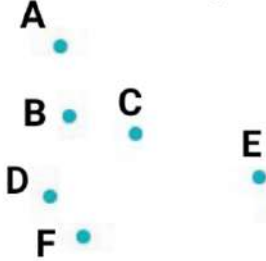
2)\_ أكْمِلِ الرَّسْمَ حَسَبَ النَّمُودَجِ :



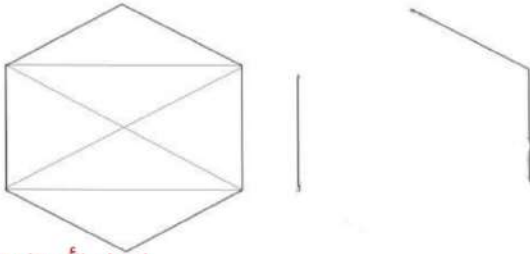
## الاستقامية

(1) \_ تشير الحروف A,B,C,D,E,F إلى نقطٍ .  
\_ أكمل العبارة التالية : النقط ..... ، ..... ، ..... في  
استقامية واحدة .

\_ ارسم المستقيم الذي يشمل هذه النقط .  
\_ عين النقطة H في استقامية مع النقط C,D .



(2) \_ أكمل الرسم حسب النموذج :

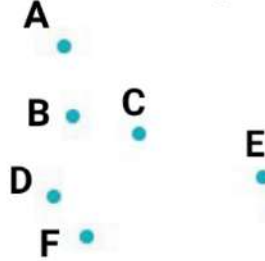


إعداد الأستاذة هبة

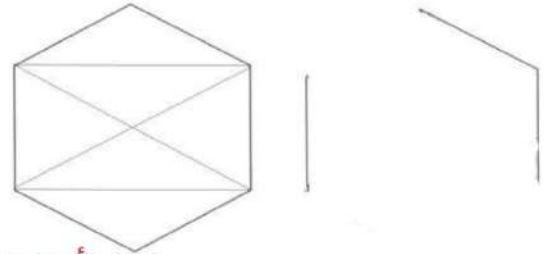
## الاستقامية

(1) \_ تشير الحروف A,B,C,D,E,F إلى نقطٍ .  
\_ أكمل العبارة التالية : النقط ..... ، ..... ، ..... في  
استقامية واحدة .

\_ ارسم المستقيم الذي يشمل هذه النقط .  
\_ عين النقطة H في استقامية مع النقط C,D .



(2) \_ أكمل الرسم حسب النموذج :

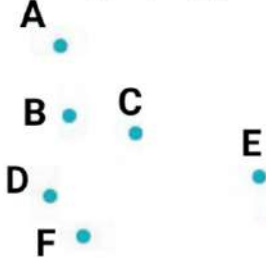


إعداد الأستاذة هبة

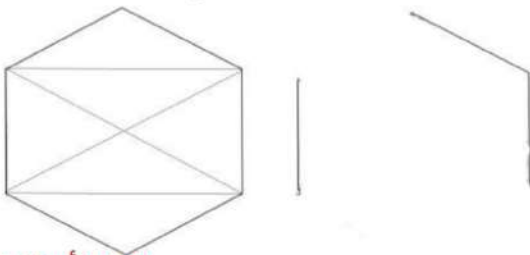
## الاستقامية

(1) \_ تشير الحروف A,B,C,D,E,F إلى نقطٍ .  
\_ أكمل العبارة التالية : النقط ..... ، ..... ، ..... في  
استقامية واحدة .

\_ ارسم المستقيم الذي يشمل هذه النقط .  
\_ عين النقطة H في استقامية مع النقط C,D .



(2) \_ أكمل الرسم حسب النموذج :

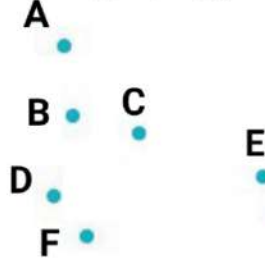


إعداد الأستاذة هبة

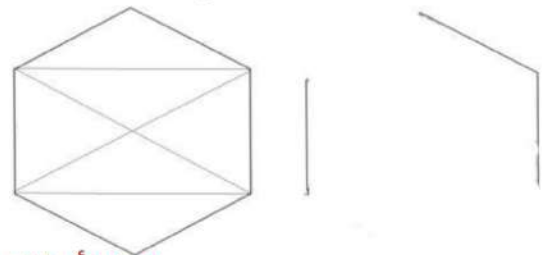
## الاستقامية

(1) \_ تشير الحروف A,B,C,D,E,F إلى نقطٍ .  
\_ أكمل العبارة التالية : النقط ..... ، ..... ، ..... في  
استقامية واحدة .

\_ ارسم المستقيم الذي يشمل هذه النقط .  
\_ عين النقطة H في استقامية مع النقط C,D .



(2) \_ أكمل الرسم حسب النموذج :



إعداد الأستاذة هبة